

次の資料文と文章を参照し、各問いに答えなさい。

《資料文》

1945年8月6日午前8時15分。澄みきった青空を切り裂き、かつて人類が経験したことのない「絶対悪」が①広島に放たれ、一瞬のうちに街を焼き尽くしました。朝鮮半島や、中国、東南アジアの人々、米軍の捕虜などを含め、子どもからお年寄りまで罪のない人々を殺りくし、その年の暮れまでに14万もの尊い命を奪いました。(中略)今こそ、私たちは、非人道性の極みである「絶対悪」をこの世から消し去る道筋をつけるために②ヒロシマの思いを基に「情熱」を持って「連帯」し、行動を起こすべきではないでしょうか。今年、G7の外相が初めて広島に集い、(③)を持つ国、持たない国という立場を超えて世界の為政者に広島・④長崎訪問を呼び掛け、包括的核実験禁止条約の早期発効や核不拡散条約に基づく核軍縮交渉義務を果たすことを求める宣言を発表しました。これは、正に「連帯」に向けた一歩です。(中略)この広島の地で「(③)のない世界を必ず実現する」との決意を表明した安倍首相には、(⑤)大統領と共にリーダーシップを発揮することを期待します。(③)のない世界は、⑥日本国憲法が掲げる崇高な平和主義を体現する世界でもあり、その実現を確実なものとするためには(③)禁止の法的枠組みが不可欠となります。

《文章》

広島市は広島県の県庁所在地として発展しました。また、現在⑦中国・四国地方の中心的な役割を担っています。

広島の始まりは16世紀末に太田川下流の⑧三角州の上に⑨毛利輝元が築城を始め「広島」と命名したことに由来すると言われています。その後の関ヶ原の戦いに敗れた毛利氏は広島から移され、⑩福島正則が領主となりましたが江戸幕府から罰せられ、替わって浅野氏が入国し、江戸時代を通じて浅野氏の城下町として発展しました。

明治4年、明治新政府による(⑪)で広島県が誕生します。沿岸部の埋め立てや築港工事の完成、鉄道の開通により中国地方の中心都市としての発展を続けました。特に、日清戦争時には大本営や臨時帝国議会も開かれるなど臨時首都としての機能も果たしました。その後の日露戦争などにより軍関係の諸施設が数多く設置され広島市は軍事都市としての性格を強めていきました。

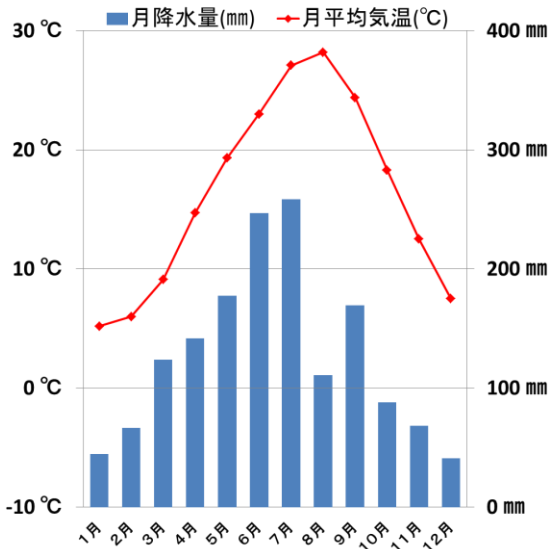
昭和20年の原子爆弾投下により広島の市街地は一瞬のうちに破壊され、多くの犠牲者を出しました。しかし、戦後の復興は順調で1970年代以降は周辺町村の合併が進み、1980年には全国で10番目の⑫政令指定都市となりました。また、1996年には原爆ドームが⑬世界文化遺産に登録されました。世界の多くの人々が訪れる広島市は国際平和文化都市としても発展しています。

問1 この《資料文》は広島市長により昭和31年から毎年8月6日に発表されているものです。資料名としてふさわしいものを、下の(ア)～(エ)の中から一つ選び記号で答えなさい。

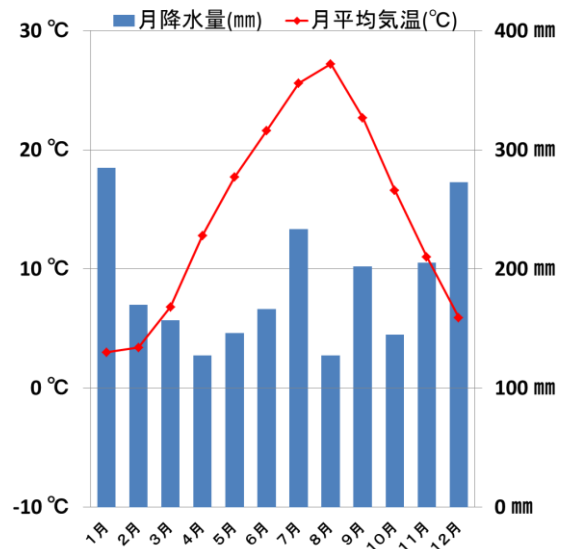
(ア) 人権宣言	(イ) 不戦宣言	(ウ) 平和宣言	(エ) 広島宣言
----------	----------	----------	----------

問2 下線部①について、以下の雨温図は福井県・福島県・広島県・宮崎県を表しています。広島県の雨温図としてふさわしいものを、下の(ア)～(エ)の中から一つ選び記号で答えなさい。

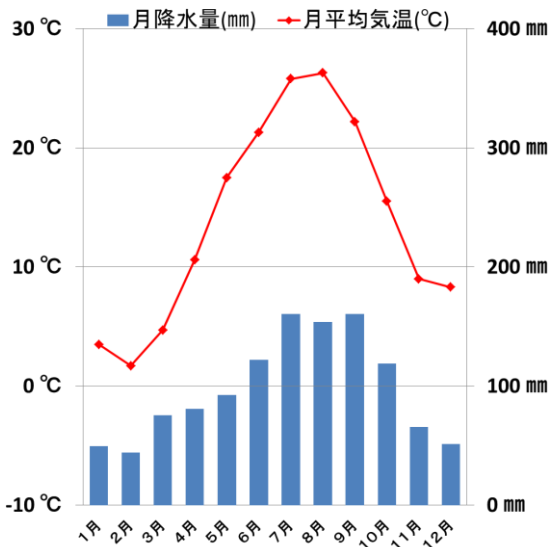
(ア)



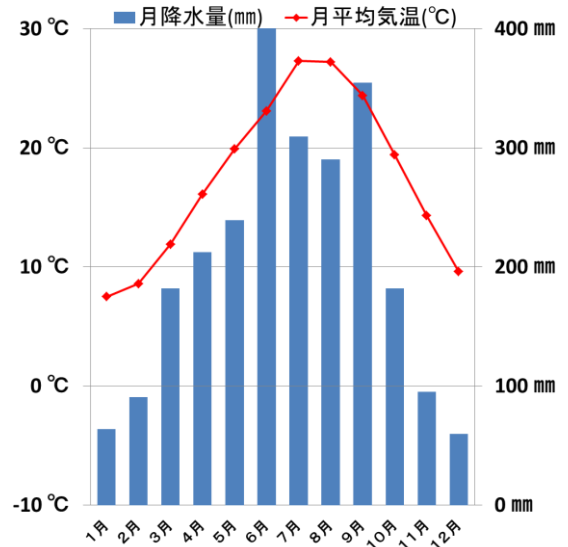
(イ)



(ウ)



(エ)



「気象庁データ 2000年～2015年」の平均値を元に作成

問3 下線部②はカタカナで「ヒロシマ」と表記されています。それはなぜだと思いますか。あなたの考えを述べなさい。

問4 空欄(③)に入るもっともふさわしい語句を答えなさい。

問5 下線部④について、下記の各問いに答えなさい。

1. 長崎県では火山活動が盛んであり、1991年雲仙普賢岳噴火による火砕流により、多くの被害が発生しました。雲仙普賢岳の場所としてもっともふさわしいものを、下の(ア)～(エ)の中から一つ選び記号で答えなさい。



2. 長崎県の生産物の中で、生産量全国1位のものとしてふさわしいものを、下の(ア)～(エ)の中から一つ選び記号で答えなさい。

(ア) びわ (イ) うめ (ウ) マンゴー (エ) キウイ

「データで見る県勢 2016 第25版」より

問6 空欄(⑤)には昨年5月に現役アメリカ合衆国大統領として初めて広島を訪れた人物名が入ります。その名前を答えなさい。

問7 下線部⑥に関する次の解説文を読んで設問に答えなさい。

【解説文】

第2次世界大戦の自国、他国への損害・被害の反省に立ち、日本国憲法は戦争を放棄し世界の恒久平和のための平和主義を基本原則としています。第9条は「戦争を（A）し、（B）を持たず、（C）を認めない」と規定しています。「（B）を持たない」と定めていますが、国を防衛するための自衛隊を持っており、平和と安全を守るためであっても「（B）を持たない」というのが第9条の考え方であり憲法に違反するのではないかと、との意見もあります。政府は主権国家には自衛権があり、憲法は「自衛のための必要最小限度の実力」を持つことは禁止していないとの立場です。

設問 （A）～（C）に入る語句の組み合わせとしてもっともふさわしいものを、下の（ア）～（エ）の中から一つ選び記号で答えなさい。（A）→（B）→（C）の順。

（ア）放棄 → 武力 → 戦力	（イ）反対 → 武器 → 武力
（ウ）放棄 → 戦力 → 交戦権	（エ）否定 → 戦力 → 侵略

問8 日本国憲法第9条の規定と自衛隊の存在との関係をどのように考えますか。あなたの意見を述べなさい。

問9 下線部⑦について、経済成長後、瀬戸内工業地域は製造品出荷額を伸ばしてきました。以下の表は、中京工業地帯・瀬戸内工業地域・京葉工業地域・北九州工業地帯それぞれの製造品出荷額の推移を示したものです。瀬戸内工業地域としてふさわしいものを、下の（ア）～（エ）の中から一つ選び記号で答えなさい。

表 工業地帯・工業地域の製造品出荷額等（全事業所）（単位 億円）

	1990年	2000年	2010年	2013年	2014年
（ア）	44兆5033億円	42兆7472億円	48兆1440億円	52兆5982億円	54兆5660億円
（イ）	26兆6875億円	24兆2029億円	29兆2784億円	29兆4811億円	30兆9569億円
（ウ）	7兆7793億円	7兆4264億円	8兆2491億円	8兆2350億円	8兆4762億円
（エ）	12兆2615億円	11兆5188億円	12兆4137億円	13兆507億円	13兆9232億円

「日本国勢図会2016/17」より

問10 下線部⑧についての説明文としてもっともふさわしいものを、下の（ア）～（エ）の名から一つ選び記号で答えなさい。

（ア）山地部から平野部に河川が流れ、形成される。
（イ）水はけが良く、果樹栽培に適している。
（ウ）世界にも三角州はあり、地形の特色により、形を変える。
（エ）石川県では、三角州に護岸工事を行い、輪中集落が形成された。

問 11 下線部⑨は豊臣秀吉政権の制度で五大老の一人となりました。五大老となったその他の人物の名前を一人答えなさい。

問 12 下線部⑩が罰せられたのは江戸幕府が諸大名を統制するために出した法令に違反したからです。その法令名を答えなさい。

問 13 空欄 (⑪) に入るもっともふさわしい語句を答えなさい。

問 14 下線部⑫について、政令指定都市の説明文として、誤っているものを下の (ア) ~ (エ) の中から一つ選び記号で答えなさい。

(ア) 地方自治法の規定により指定された都市である。

(イ) 人口 50 万人以上の大都市であることが要件である。

(ウ) 2016 年現在、20 都市が指定されている。

(エ) 岡山市は、2009 年に政令指定都市に登録されたが、それ以降、登録された政令指定都市は、熊本市と千葉市である。

問 15 下線部⑬について、広島県にはもう一つ世界遺産が存在します。その世界遺産としてもっともふさわしいものを、下の (ア) ~ (エ) の中から一つ選び記号で答えなさい。

(ア)



(イ)



(ウ)



(エ)

