

受験生の皆さんは、郁文館夢学園にそれぞれの教科を「なぜ学ぶのか」という理念があることを知っていますか。社会科では皆さんに、「社会の諸問題に関心と意見を持つ」ことを求めています。日々の世界や日本のできごとを様々なメディアを通して知ること、そして少しでも気になったことをさらに調べること、その繰り返しの中で自分の意見が形作られることになるのです。

昨年度も沢山のできごとが様々なメディアを通して伝えられました。それらの一部をまとめた次のA～Dの文章を読んで、下記の各問に答えなさい。

A 昨年、日本と韓国が国交を正常化した①1965年の条約調印から50年を迎えました。両国ではそれぞれに記念式典が行われ、関係改善に向けたお互いの努力を呼びかけました。しかし、両国関係は(1)などをめぐって対立が続いており、日韓首脳会談の実現には曲折がありそうとのことです。

問1 下線部①の条約名を答えなさい。

問2 空欄(1)に入るものとして誤っているものを、下の(ア)～(エ)の中から一つ選び記号で答えなさい。

(ア) 慰安婦の問題 (イ) 竹島領有の問題 (ウ) 朝鮮通信使の問題 (エ) 強制労働の問題

問3 日本が韓国を併合する前年に、民族活動家の安重根により暗殺された日本の元首相の名前を、下の顔写真を参考に答えなさい。



B 2016年度に日本で開かれる②主要国首脳会議の開催地を③志摩市とすることを決定しました。安倍首相は開催地とした理由について「日本の美しい自然、豊かな文化、伝統を感じてもらえる」「大小の島々、美しい入り江、日本の原風景とも言える自然がある」と説明しています。また、④隣接する自治体の神社についても「悠久の歴史を紡いできた。荘厳で凛とした空気を共有したい」「日本の精神性に触れていただくには大変良い場所だ」とも述べたそうです。

問4 下線部②の通称をカタカナ4文字で答えなさい。

問5 下線部③の半島の海岸線の特徴として誤っているものを、下の(ア)～(エ)の中から一つ選び記号で答えなさい。

- (ア) 陸地が沈降してできた海岸線である。
- (イ) 深い入り江があり、養殖業が盛んである。
- (ウ) スペイン北西部の海岸名が名称の由来である。
- (エ) この海岸線は津波の被害を受けにくい。

問6 下線部④について、この神社は皇室と深い関係があり、江戸時代にはここに参拝することが流行しました。この神社の名称を答えなさい。

C 選挙権年齢を「20歳以上」から「(2)歳以上」に引き下げる改正公職選挙法が⑤参議院本会議で全会一致で可決、成立しました。選挙権年齢の引き下げは、1945年の終戦直後に「(3)歳以上」とされていたものから現行の「20歳以上」に変更されて以来、70年ぶりです。海外では「(2)歳以上」が主流となっており、今回の法改正で、世界の標準に合わせる形となります。

問7 空欄(2)と(3)に入る数字の組み合わせとしてふさわしいものを、下の(ア)～(エ)の中から一つ選び記号で答えなさい。

- (あ) 17-25                      (イ) 17-30                      (ウ) 18-25                      (エ) 18-30

問8 下線部⑤の参議院の説明としてふさわしいものを、下の(ア)～(エ)の中から一つ選び記号で答えなさい。

- (ア) 内閣総理大臣の指名の議決はできるが、参議院議員が内閣総理大臣になることはできない。
- (イ) 任期は6年であり、3年ごとに議員の半数が改選する。
- (ウ) 現在の議席数は衆議院とは異なり、野党が与党を上回る「ねじれ」現象がおきている。
- (エ) 予算に関する先議権や議決権が衆議院に優先してある。

問9 選挙権年齢を引き下げたことにより、どのような良い点があると考えられますか、あなたの意見を述べなさい。

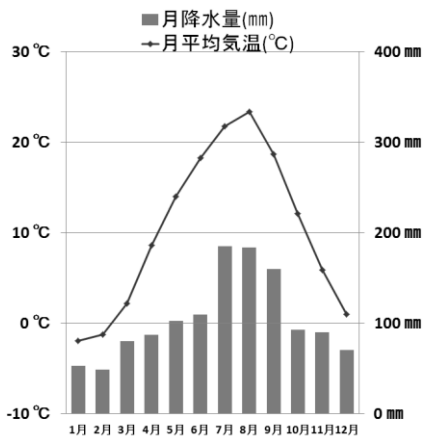
D ドイツで開かれていた⑥国連教育科学文化機関の世界遺産委員会は7月5日、⑦8県・⑧23資産からなる「明治日本の産業革命遺産」の世界文化遺産への登録を全会一致で決定し、8日に正式登録しました。

問10 下線部⑥の機関の名称をカタカナ4文字で答えなさい。

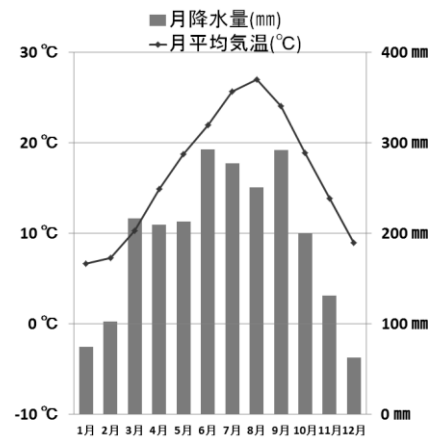
問 11 下線部⑦について、下記の各問に答えなさい。

- (1) 鹿児島県は、豚の飼育頭数が日本第1位であるほど、畜産業が盛んな県です。2015年10月、日本が参加する環太平洋パートナーシップ（TPP）協定において、大筋合意に至りました。この協定により、畜産物の輸入に関して、日本側からみて、考えられる利点と欠点は何ですか。利点・欠点のどちらか一方を述べなさい。その際、解答欄の利点・欠点のどちらか一方を丸で囲むこと。
- (2) 山口県には日本最大のカルスト地形があり、大きな鍾乳洞が形成されています。日本最大のカルスト地形が広がる台地の名称は何ですか。
- (3) 静岡県の雨温図としてふさわしいものを、下の（ア）～（エ）の中から一つ選び記号で答えなさい。

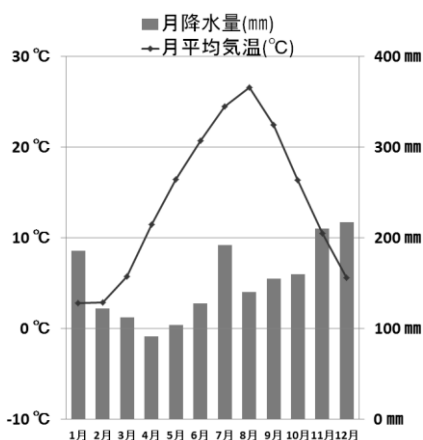
(ア)



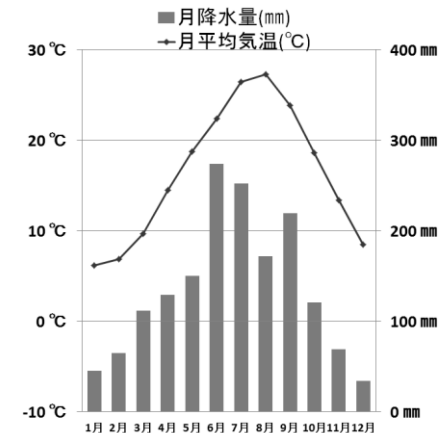
(イ)



(ウ)



(エ)



(気象庁データ 2000年～2014年データ平均値を元に作成)

- (4) 岩手県を含む東北地方では、昔から伝統工芸が盛んです。東北地方の伝統工芸品として、誤っているものを、下の(ア)～(エ)の中から一つ選び記号で答えなさい。

(ア)



(イ)



(ウ)



(エ)



(出所：一般財団法人伝統的工芸品産業振興協会ホームページ)

問 12 下線部⑧の資産について、下記の各問に答えなさい。

- (1) 山口県萩市には5つの資産があります。その中の一つは吉田松陰が主宰し、その後の幕末維新期に活躍する若者たちが学んだ塾です。その塾名を答えなさい。
- (2) 次の資産の写真は江戸幕府直営の建造物で静岡県伊豆の国市に現存しています。その名称としてふさわしいものを下の(ア)～(エ)の中から一つ選び記号で答えなさい。



- (ア) たたら製鉄遺跡      (イ) 反射炉      (ウ) 官営八幡製鉄所      (エ) 旧集成館