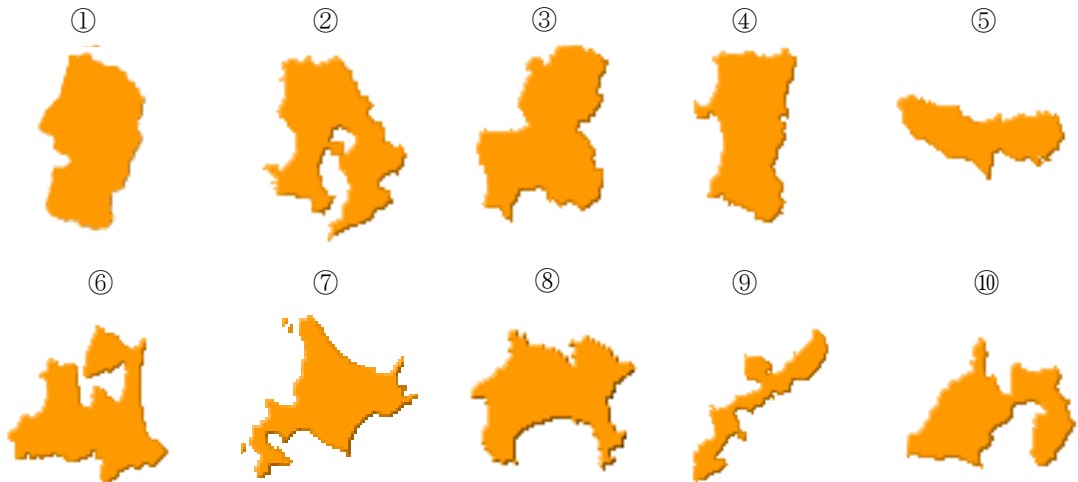


- 1 日本では世界自然遺産として、「屋久島」「白神山地」「知床」「小笠原諸島」の四カ所が登録されています。このことに関する下記の各問に答えなさい。

問1 それぞれの世界自然遺産のある都道府県の形としてふさわしいものを、下の①～⑩の中から一つずつ選び、記号で答えなさい。ただし、「白神山地」は二つの都道府県にまたがっていますので、二つの都道府県を選びなさい。



※縮尺は正しくありません
※周辺の小さな島は省略してあります

問2 下の資料は、「世界自然遺産」のある都道府県の代表的特産物の品目と全国順位を表しています。問1で解答した各都道府県にあてはまる資料としてふさわしいものを、下の(あ)～(お)の中から一つずつ選び記号で答えなさい

(あ)

代表的な生産物	全国順位
りんごの収穫量	第1位
ごぼうの収穫量	第1位
にんにくの収穫量	第1位
さば缶詰の生産額	第1位
いか類の漁獲量	第2位

(う)

代表的な生産物	全国順位
かんしょの収穫量	第1位
養殖うなぎの水揚げ量	第1位
豚肉の生産量	第1位
オクラの収穫量	第1位
茶の収穫量	第2位

(お)

代表的な生産物	全国順位
ばれいしょの収穫量	第1位
小麦の収穫量	第1位
生乳の生産量	第1位
ブロッコリーの収穫量	第1位
かに類の漁獲量	第1位

(い)

代表的な生産物	全国順位
つばき油の生産額	第1位
補聴器の生産額	第1位
なめし革ハンドバッグ生産量	第1位
パッションフルーツ収穫量	第3位
かつお類の漁獲量	第2位


(え)

代表的な生産物	全国順位
りんどうの生産量	第2位
米の収穫量	第3位
うどの収穫量	第3位
プリズム出荷額	第1位
普通合板生産量	第1位

(出典:データで見る県勢 第24版)

〔2〕 次の A～D の人物像を見て、その自己紹介文【あ】～【え】を読み、下記の各問に答えなさい。

《人物像》



《自己紹介文》

【 あ 】

私は奈良時代の天皇です。およそ9年間かけて、①高さ16メートルの巨大な仏像を造ったことや、全国に国分寺と国分尼寺を建てる命令を出したことは、特に有名です。なぜ私がそうした②仏教の発展につくしたかという、重い病気がはやったり、政治の争いがたえなかったからなのです。仏教の力によって国が守られることが、私の願いです。

【 い 】

③私は唐に渡って密教を学び、④真言宗を広めました。密教は、人々の願いをかなえたり、わざわいなどを取り除くものとして特に貴族に受け入れられ発展しました。また、私は書道の名手で、庶民の教育にも力を入れるなど、さまざまな分野で活躍しました。

【 う 】

私は室町幕府の第3代将軍です。私は⑤祖父の時代から続いていた内乱をおさめたり、有力な守護の勢力を削減して将軍の権力を強化し、幕府のしくみを整えたりしたので、政治は安定しました。また、明との国交を開き、盛んに⑥貿易をおこなうことで、幕府の財政も安定しました。私の権威は⑦北山の別荘を見ていただければ分かります。

【 え 】

私は江戸時代の末期に生きた長州藩（山口県）の藩士です。私は幕府を批判したり、海外への密航を計画したりしたので、何度も牢屋につながれることとなりました。私は⑧安政の大獄で処刑されましたが、私が主宰した松下村塾で学んだ人物たちの中には、⑨幕府をたおして明治時代に活躍した者もいるのです。

問1 下線部①について、この仏像をまつている寺としてふさわしいものを、下の（ア）～（エ）の中から一つ選び記号で答えなさい。

（ア）東大寺	（イ）法隆寺	（ウ）延暦寺	（エ）東寺
--------	--------	--------	-------

問2 下線部②について、同じく仏教の発展につくした唐の人物で、遭難して盲目になりながら来日し、戒律を伝えた人物としてふさわしいものを、下の（ア）～（エ）の中から一つ選び記号で答えなさい。

（ア）行基	（イ）鑑真	（ウ）一休	（エ）法然
-------	-------	-------	-------

問3 下線部③について、この人物が開いた寺としてふさわしいものを、下の（ア）～（エ）の中から一つ選び記号で答えなさい。

（ア）金剛峰寺	（イ）唐招提寺	（ウ）薬師寺	（エ）飛鳥寺
---------	---------	--------	--------

問4 下線部④について、真言宗が開かれたところに、最澄が開いた宗派としてふさわしいものを、下の（ア）～（エ）の中から一つ選び記号で答えなさい。

（ア）日蓮宗	（イ）臨済宗	（ウ）天台宗	（エ）浄土真宗
--------	--------	--------	---------

問5 下線部⑤の内乱とは、約60年間続いた争いのことですが、その内乱としてふさわしいものを、下の(ア)～(エ)の中から一つ選び記号で答えなさい。

(ア) 壬申の乱 (イ) 承久の乱 (ウ) 南北朝の動乱 (エ) 応仁の乱

問6 下線部⑥について、明との貿易について説明したものとしてふさわしいものを、下の(ア)～(エ)の中から一つ選び記号で答えなさい。

- (ア) 日明貿易のおもな輸入品は銅や刀剣で、輸出品は銅銭や生糸であった。
(イ) 日明貿易は幕府にとって利益が少なく、ほとんど収入にならなかった。
(ウ) 日明貿易は、始まってから室町幕府が滅びるまで、一度も途絶えることがなかった。
(エ) 正式な貿易船であることを見分けるため、勘合という合い札が使用された。

問7 下線部⑦について、北山の別荘であったところの写真としてふさわしいものを、下の(ア)～(エ)の中から一つ選び記号で答えなさい。

(ア) 竜安寺



(イ) 鹿苑寺金閣



(ウ) 日光東照宮



(エ) 中尊寺金色堂



問 8 下線部⑧の安政の大獄をおこなった大老としてふさわしいものを、下の(ア)～(エ)の中から一つ選び記号で答えなさい。

(ア) 新井白石 (イ) 松平定信 (ウ) 水野忠邦 (エ) 井伊直弼

問 9 下線部⑨について、江戸幕府の最後の将軍としてふさわしいものを、下の(ア)～(エ)の中から一つ選び記号で答えなさい。

(ア) 徳川慶喜 (イ) 徳川吉宗 (ウ) 徳川家光 (エ) 徳川家康

問 10 人物像 A～D と自己紹介文【あ】～【え】の組み合わせとして正しいものを、下の(ア)～(エ)の中から一つ選び記号で答えなさい。

(ア)	A : 【あ】	B : 【い】	C : 【え】	D : 【う】
(イ)	A : 【い】	B : 【あ】	C : 【え】	D : 【う】
(ウ)	A : 【う】	B : 【あ】	C : 【え】	D : 【い】
(エ)	A : 【え】	B : 【い】	C : 【あ】	D : 【う】

3 次の文章を読んで、予算に関する下記の各問に答えなさい。

日本では、国の予算編成に先立って各省庁に概算要求基準（シーリング）と呼ばれる予算方針が示されます。これは歳出の無制限な増大を抑制するほか、国の重点投資項目を内外に示す意義も持っています。平成 28 年度予算の概算要求額によると、総額が 102 兆円を超え、過去最大規模となる見通しとなっています。

問 1 予算の概算要求をとりまとめている国の機関として正しいものを、下の（ア）～（エ）の中から一つ選び記号で答えなさい。

（ア）会計検査院	（イ）法務省	（ウ）総務省	（エ）財務省
----------	--------	--------	--------

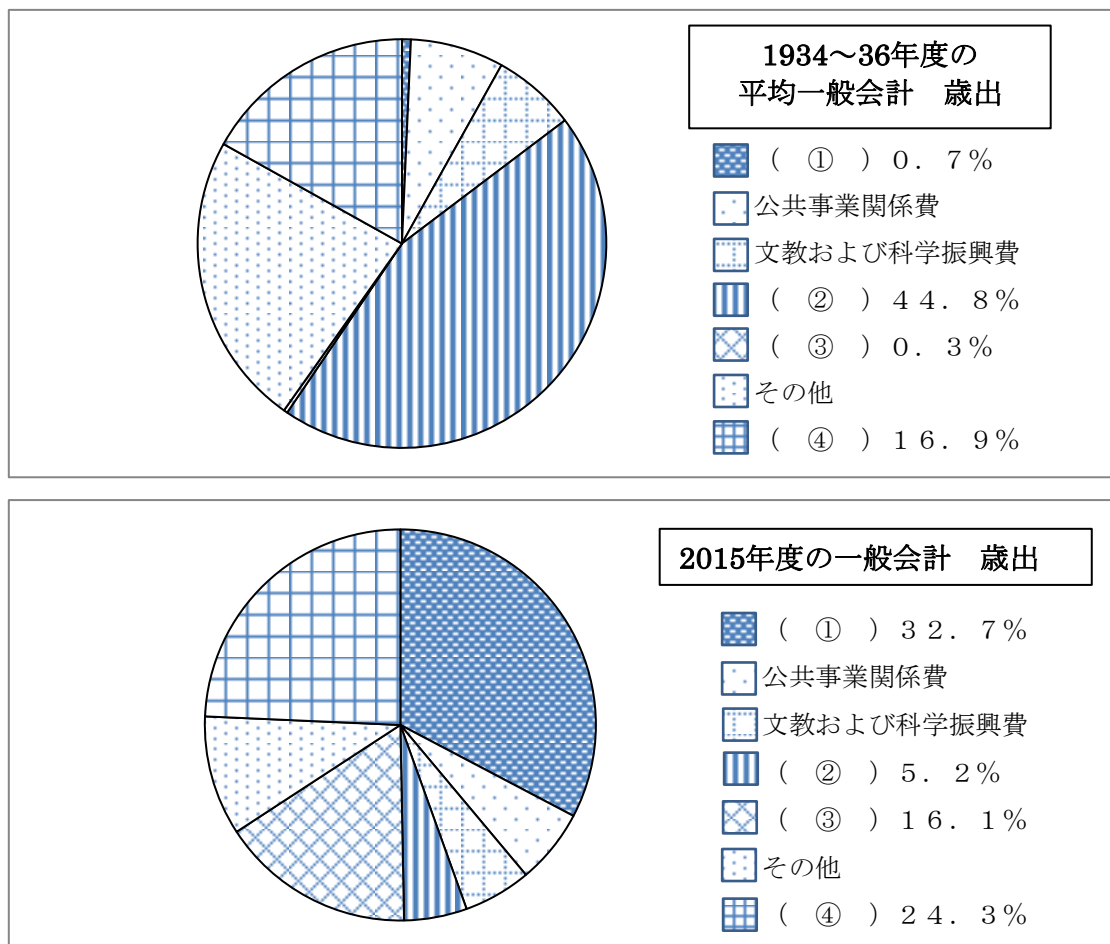
問 2 下の文章は、予算決定までの手続きについて述べたものです。空欄の中に入る語句の組合せとしてふさわしいものを、下の（ア）～（エ）の中から一つ選び記号で答えなさい。

予算は（ ① ）によって作成され、（ ② ）の議決を経たうえで執行されます。また、予算は先に（ ③ ）から審議され、これを予算の先議権といいます。

（ア）	① 内閣	② 国会	③ 衆議院
（イ）	① 内閣	② 国会	③ 参議院
（ウ）	① 国会	② 裁判所	③ 衆議院
（エ）	① 国会	② 裁判所	③ 参議院

問3 下のグラフは、1934～36年度（平均）と2015年度の一般会計予算の歳出の内訳です。内訳は、社会保障関係費、防衛関係費、国債費、地方財政関係費、公共事業関係費、文教及び科学振興費、その他によって構成されています。内訳項目の①～④の組合せとしてふさわしいものを、下の（ア）～（エ）の中から一つ選び記号で答えなさい。

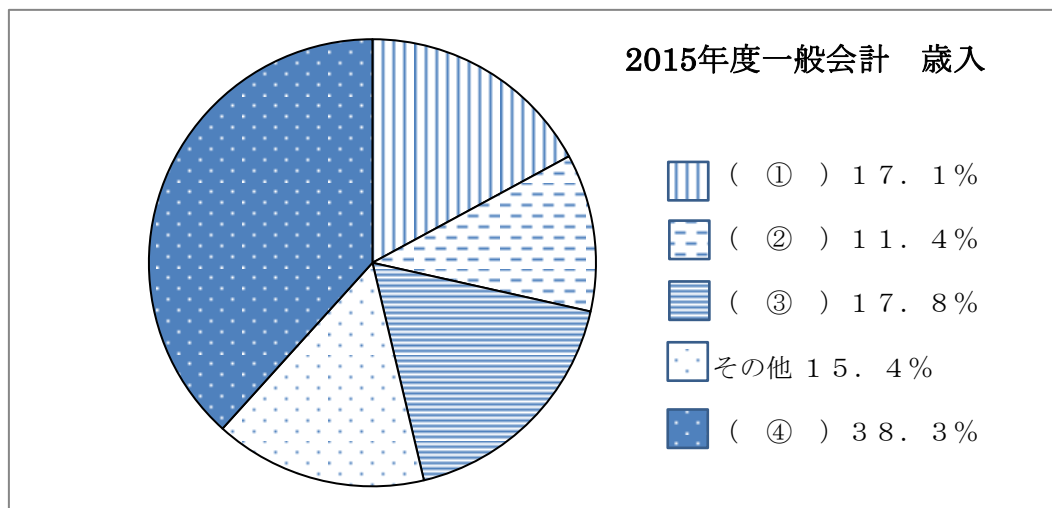
注）二つのグラフの①～④には同じ語句が入ります。



（出典：統計資料は、財務省データより作成）

(ア) ① 国債費	② 社会保障関係費
③ 防衛関係費	④ 地方財政関係費
(イ) ① 防衛関係費	② 地方財政関係費
③ 国債費	④ 社会保障関係費
(ウ) ① 地方財政関係費	② 国債費
③ 社会保障関係費	④ 防衛関係費
(エ) ① 社会保障関係費	② 防衛関係費
③ 地方財政関係費	④ 国債費

問4 下のグラフは、2015年度の一般会計予算の歳入の内訳です。租税からの収入としては、所得税、消費税、法人税、その他の税があり、このほかの収入として、不足分を補うために発行された公債（公債金）によるものがあります。内訳項目①～④の組合せとして正しいものを、下の（ア）～（エ）の中から一つ選び記号で答えなさい。



（出典：統計資料は、財務省データより作成）

- | | | | |
|----------|-------|-------|-------|
| （ア）① 法人税 | ② 公債金 | ③ 消費税 | ④ 所得税 |
| （イ）① 所得税 | ② 法人税 | ③ 消費税 | ④ 公債金 |
| （ウ）① 公債金 | ② 所得税 | ③ 消費税 | ④ 法人税 |
| （エ）① 消費税 | ② 法人税 | ③ 公債金 | ④ 所得税 |

問5 下の国債についての説明文の中から誤っているものを、下の（ア）～（エ）の中から一つ選び記号で答えなさい。

- （ア）国の歳入の不足を補うために、1年限りの法律を制定して発行されるものを特例国債といいます。
- （イ）今までに国債を発行し続けているため、国の抱える借金は毎年増加しています。
- （ウ）国の歳入は毎年健全なために、今まで一度も国債が発行されたことはありません。
- （エ）道路、住宅、港湾等の社会資本の建設の財源に充てるために発行されるものを建設国債といいます。