

平成 2 7 年度

《第 2 回一般試験》

社 会

時間 3 0 分, 5 0 点満点

受験上の注意

1. 解答用紙には, 受験番号・氏名を記入してください。
2. 解答は, 解答用紙の所定のところに記入してください。
記入方法を誤ると得点になりません。
3. 試験終了の合図とともに, 解答用紙・問題用紙とも
提出してください。

郁 文 館 中 学 校

- 1 郁文太郎さん（以下、太郎）と文館花子さん（以下、花子）の学校での会話文を読み、後の各問いに答えなさい。

花子 「太郎君は、①サッカーが大好きなんだよね。2014 年、ブラジルで開催されたワールドカップは見た？」

太郎 「もちろん見たよ。日本とは②時差があるブラジルでの開幕だったけど、見る事ができたよ。」

花子 「そうなんだ。日本は予選敗退したけれど、優勝はどの国だったの？」

太郎 「ドイツが優勝したんだ。決勝戦で、アルゼンチンを破って通算 4 回目の優勝をしたんだ！」

花子 「そうなんだ。ドイツって、様々な面で日本と交流があるよね。私たちが通う郁文館がある③文京区は、ドイツのカイザースラウテルンという都市と姉妹都市関係なんだって？」

太郎 「うん。また、ドイツも日本も共通している有名な産業として、④自動車産業が挙げられるよね。性能の良いドイツの自動車を世界に輸出しているんだ。また、冷涼な気候を利用した農業を行っているところは、⑤北海道と似ているね。」

花子 「世界の国々と日本は、つながっているんだ。じゃあ、アルゼンチンも日本と関係があるのかな？」

太郎 「もちろん。日本はアルゼンチンから様々な鉱産物を輸入しているよ。たとえば、⑥銅は、日本ではあまり採取できなから、アルゼンチンから多くを輸入しているよ。」

花子 「そう。本で読んだことがあるんだけど、ブラジルと日本の関係も深いのよね？」

太郎 「よく知っているね。昔、日本からブラジルへはたくさんの人々が移住したし、⑦日本には多くのブラジル人が住んでいるんだよ。日本の⑧沖縄とブラジルの気候は似ているから、生産する農産物も似ているしね。」

花子 「世界はつながっているのね。日本は地震が多いし、⑨火山も多く噴火しているから将来は海外に住もうかな。」

太郎 「海外に住むことも魅力的だよね。次のワールドカップはロシアで行われるけど、僕は将来ロシアに住みたいな。」

花子 「⑩ロシアと日本は領土問題など、いろいろな問題を抱えているけれど、早く解決できるといいね。」

問1 下線部①より、サッカーの母国であるイギリスには、世界の時刻の中心となる本初子午線が設定されています。日本における時刻の中心となる標準時子午線は、何県に設定されていますか。正しいものを下の（ア）～（エ）の中から一つ選んで、記号で答えなさい。

（ア）石川県 （イ）群馬県 （ウ）三重県 （エ）兵庫県

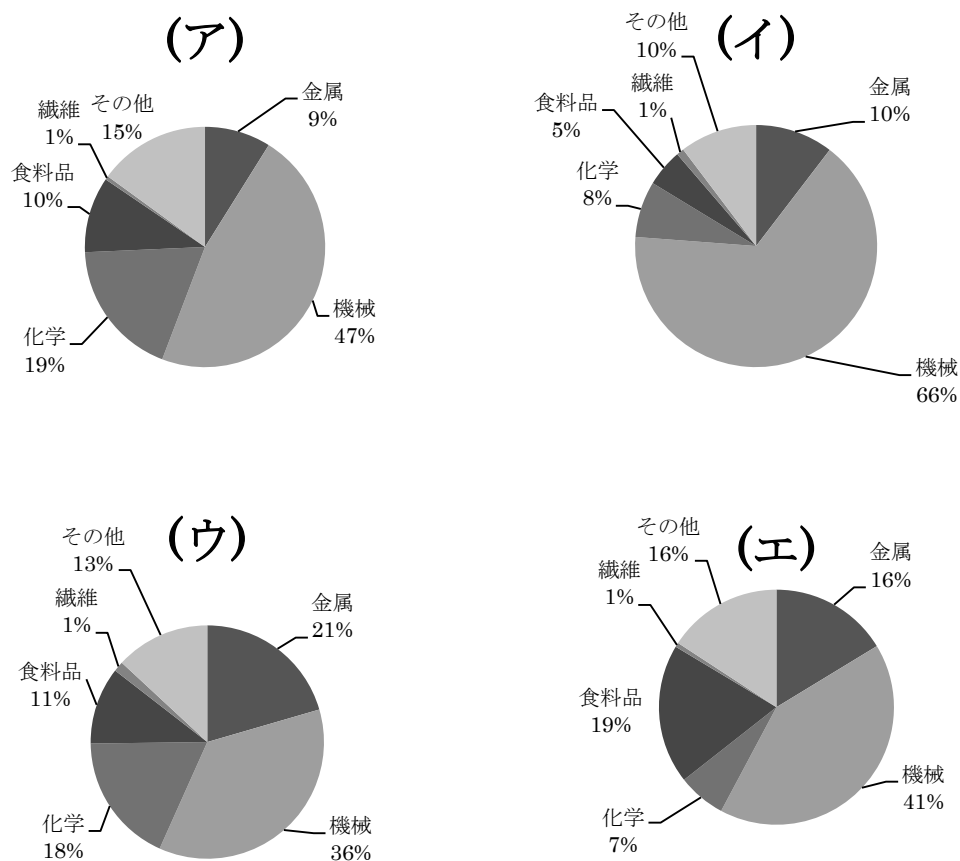
問2 下線部②より、日本とブラジルの時差として、最も適当なものを、下の（ア）～（エ）の中から一つ選んで、記号で答えなさい。

（ア）3時間 （イ）6時間 （ウ）9時間 （エ）12時間

問3 下線部③より、文京区の説明文として正しいものを、下の（ア）～（エ）の中から一つ選んで、記号で答えなさい。

- （ア） 出版社や教育機関が多く立地する区である。
- （イ） 多くの省庁が立地する区である。
- （ウ） 海外の大使館が多く立地する区である。
- （エ） 大企業が多く立地する区である。

問4 下線部④より、日本の自動車産業の中心工業地帯は、愛知県を中心とする中京工業地帯です。中京工業地帯にあてはまるグラフとしてふさわしいものを、下の（ア）～（エ）の中から一つ選んで、記号で答えなさい。



出所：日本国勢図絵 2014／15 第 72 版

問5 下線部⑤より、北海道の農産物の中で、国内生産量第1位ではないものはどれですか。下の（ア）～（エ）の中から一つ選んで、記号で答えなさい。

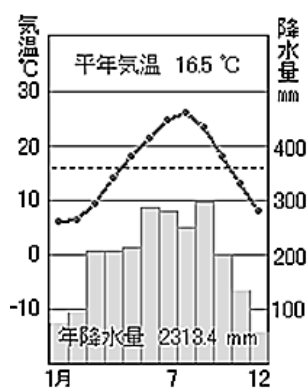
（ア）大豆 （イ）小麦 （ウ）てんさい （エ）大麦

問6 下線部⑥より、かつて日本でも多くの銅を産出していました。その中心は足尾銅山でしたが、公害問題により閉山となりました。では、足尾銅山は、何県にありますか。下の（ア）～（エ）の中から一つ選んで、記号で答えなさい。

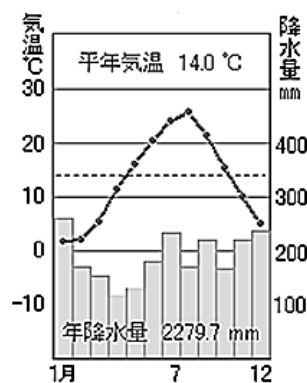
（ア）長野県 （イ）新潟県 （ウ）群馬県 （エ）栃木県

問7 下線部⑦より、日本にはブラジル人が約 18 万人住んでおり、その中の約 3 万人が静岡県に住んでいます。静岡県にあてはまる雨温図として正しいものを、下の（ア）～（エ）の中から一つ選んで、記号で答えなさい。

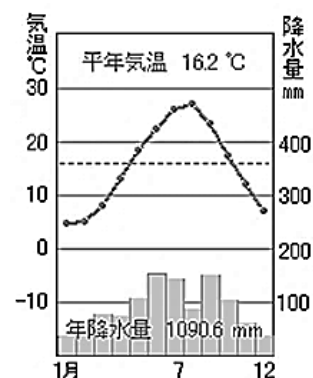
（ア）



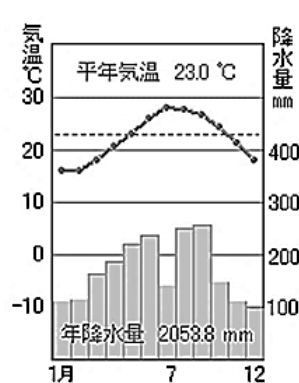
（イ）



（ウ）



（エ）



出所：気象庁発表の気温や降水量データ 30 年間の平均値

<http://nocs.myvnc.com/study/uonzu2007.htm>

問 8 下線部⑧より、沖縄県に属していない島を、下の（ア）～（エ）の中から一つ選んで、記号で答えなさい。

（ア）与那国島 （イ）石垣島 （ウ）南鳥島 （エ）宮古島

問 9 下線部⑨より、2013 年 11 月に小笠原諸島近くで噴火してできた新島が、2014 年に入ってさらに拡大しました。この島の名前は何ですか。下の（ア）～（エ）の中から一つ選んで、記号で答えなさい。

（ア）東之島 （イ）西之島 （ウ）南之島 （エ）北之島

問 10 下線部⑩より、この領土問題の対象となっていない島はどこですか。下の（ア）～（エ）の中から一つ選んで、記号で答えなさい。

（ア）樺太 （イ）択捉島 （ウ）国後島 （エ）色丹島

- 2 次の自己紹介文【あ】～【え】を読み、以下の各問いに答えなさい。

《自己紹介文》

【 あ 】

私は紀伊藩主として藩政立て直しに成功し、その後将軍となりました。①大岡忠相や青木昆陽などは、私がおこなった享保の改革に大きく貢献してくれました。また、私は②上げ米を実施し、新田開発を進め年貢率の引き上げを図るなどの改革をおこなったため、「米将軍」などと呼ばれています。

【 い 】

私は肥後国の御家人で、1度目の③蒙古襲来のさいに幕府軍に参加し、手がらをあげました。しかし、幕府は私の手がらを評価せず、恩賞を下さらなかったのです。私はこれに不満を持ち、鎌倉まで出向いて自分の功績を幕府に訴えました。その熱意によって、私は肥後国海東郷の地頭に任命されたのです。

【 う 】

私は④山口県の生まれで、イギリスに留学した経験から英語が得意で、明治政府の役人となってから要職を任されるようになりました。その後、政府の中心として活躍し、初代内閣総理大臣となりました。また、私は日本を欧米の国々と肩を並べる近代国家にするため、⑤大日本帝国憲法の制定に力を入れました。

【 え 】

私は関白の藤原兼家の四男で、私自身も摂政・太政大臣を務め、藤原氏の全盛期を築き上げました。私が暮らした平安京には⑥貴族の屋敷が建ち並び、特に左京の繁栄は素晴らしいものでした。また、邸内に桜を植えて花見をすることが流行し、貴族たちはその様子を⑦日記や歌に残しました。

- 問1 下線部①が制定に関わった、裁判や刑罰の規準となる法として正しいものを、下の（ア）～（エ）の中から一つ選んで、記号で答えなさい。

（ア）憲法十七条 （イ）大宝律令 （ウ）御成敗式目 （エ）公事方御定書

問2 下線部②の説明として正しいものを、下の（ア）～（エ）の中から一つ選んで、記号で答えなさい。

- （ア）御家人たちが米商人にしていた借金を返済しなくても良いことにした。
- （イ）大名に、1万石につき100石の米を幕府に献上することを命じた。
- （ウ）飢饉への備えとして、各地の倉に米を蓄えさせた。
- （エ）大名たちはこの制度により参勤交代を完全に免除された。

問3 【あ】の人物の改革の結果を説明したものとして正しいものを、下の（ア）～（エ）の中から一つ選んで、記号で答えなさい。

- （ア）幕府の財政は一時的に回復したが、一揆や打ちこわしが発生した。
- （イ）経済活動が活発になったが、わいろ政治が批判された。
- （ウ）藩政が引き締まったが、厳しすぎる改革が反発を呼んだ。
- （エ）大名・町人の反発によって改革が貫徹せず、幕府の権威が落ちた。

問4 下線部③の説明として間違っているものを、下の（ア）～（エ）の中から一つ選んで、記号で答えなさい。

- （ア）蒙古襲来のさいのモンゴル帝国の皇帝は、フビライ＝ハンであった。
- （イ）蒙古襲来のさいの幕府の執権は、北条時宗であった。
- （ウ）幕府軍は統制のとれた集団戦法によって元軍を苦しめた。
- （エ）日本では元軍の1度目の襲来を文永の役、2度目を弘安の役と呼んでいる。

問5 【い】の人物が生きた13世紀に起こったできごととして正しいものを、下の（ア）～（エ）の中から一つ選んで記号で答えなさい。

- （ア）明との国交が開かれ、勘合貿易が開始された。
- （イ）聖武天皇が、東大寺に大仏を造立した。
- （ウ）承久の乱が起こり、後鳥羽上皇が隠岐に流された。
- （エ）豊臣秀吉が朝鮮出兵を行った。

問6 下線部④について、【う】の人物が生まれたころ山口県にあった藩として正しいものを、下の（ア）～（エ）の中から一つ選んで記号で答えなさい。

（ア）薩摩藩 （イ）土佐藩 （ウ）肥前藩 （エ）長州藩

問7 下線部⑤の説明として間違っているものを、下の（ア）～（エ）の中から一つ選んで記号で答えなさい。

（ア）1889年11月3日に公布された。
（イ）君主権の強いプロイセン憲法を模範にして定められた。
（ウ）天皇は神聖で、おかしてはならないものと規定された。
（エ）国民に兵役の義務があった。

問8 下線部⑥に関して、この時代の貴族の屋敷はどのような造りでしたか。正しいものを、下の（ア）～（エ）の中から一つ選んで記号で答えなさい。

（ア）武家造 （イ）寝殿造 （ウ）書院造 （エ）校倉造

問9 下線部⑦について、【え】の人物の日記『御堂関白記』は、2013年にユネスコ世界記憶遺産に登録されました。日本にある世界遺産の中で最も新しく登録されたものを、下の（ア）～（エ）の中から一つ選んで記号で答えなさい。

（ア）富士山 （イ）小笠原諸島 （ウ）平泉 （エ）富岡製糸場

問 10 自己紹介文【あ】～【え】と次の人物像 A～D の組み合わせとして正しいものを、
下の (ア) ～ (エ) の中から一つ選び、記号で答えなさい。

《人物像》



A



B



C



D

- | | | | | |
|-----|---------|---------|---------|---------|
| (ア) | A : 【あ】 | B : 【い】 | C : 【え】 | D : 【う】 |
| (イ) | A : 【い】 | B : 【あ】 | C : 【え】 | D : 【う】 |
| (ウ) | A : 【う】 | B : 【え】 | C : 【い】 | D : 【あ】 |
| (エ) | A : 【え】 | B : 【い】 | C : 【あ】 | D : 【う】 |

3 次の文章を読み、各問いに答えなさい。

現在の (A) 日本国憲法が成立してからおよそ 70 年が経過しようとしています。この間には、条文の解釈についての変更が行われたことはあるものの、改正されたことは一度もありません。昨今 (B) 憲法改正について活発な議論が行われるようになっていきます。国民の中には、様々な意見がありますが、今後の動向に注目すべきでしょう。

問 1 下線部 (A) に関連して、当時の内閣は、国务大臣を中心に改正の原案作りを指示しました。その時に作られた組織として正しいものを、下の (ア) ～ (エ) の中から一つ選び、記号で答えなさい。

- | | |
|---------------|-----------------|
| (ア) 憲法問題調査委員会 | (イ) 憲法改正原案検討委員会 |
| (ウ) 憲法改正委員会 | (エ) 憲法研究調査委員会 |

問 2 下線部 (A) に関連して、連合国軍総司令部 (GHQ) によって、新しい憲法についての 3 原則が出されました。その 3 原則の内容として 間違っているものを、下の (ア) ～ (エ) の中から一つ選び、記号で答えなさい。

- | | |
|-------------|----------------|
| (ア) 天皇制の維持 | (イ) 国民主権と戦争放棄 |
| (ウ) 封建制度の廃止 | (エ) アメリカとの軍事同盟 |

問 3 下線部 (A) に関連して、憲法の条文の中に規定されている権利として 間違っているものを、下の (ア) ～ (エ) の中から一つ選び、記号で答えなさい。

- | | | | |
|---------|---------|---------|---------|
| (ア) 社会権 | (イ) 請求権 | (ウ) 環境権 | (エ) 平等権 |
|---------|---------|---------|---------|

問4 下線部（B）に関連して、日本国の憲法改正手続きの説明として正しいものを、下の（ア）～（エ）の中から一つ選び、記号で答えなさい。

- （ア） 各議院の3分の2以上の賛成で改正することができる。特に、国民投票は必要とされていない。
- （イ） 各議院の総議員の3分の2以上の賛成で発議し、国民投票において過半数の賛成で改正することができる。
- （ウ） 両議院の3分の2が必要と認める時に連邦議会が発議し、全州の4分の3の議会によって承認されると改正される。
- （エ） 両議院で過半数の賛成を得たのち、両院合同会議において5分の3以上の賛成、もしくは国民投票において過半数の賛成で改正することができる。

問5 2007年の国会で国民投票法が成立しました。内容についての説明文として間違っているものを、下の（ア）～（エ）の中から一つ選び、記号で答えなさい。

- （ア） 投票権者は18歳以上の日本国民である。
- （イ） この投票は、憲法改正の時だけ行われる。
- （ウ） 最低投票率を50％としている。
- （エ） 在外邦人にも投票権がある。