

平成 2 7 年度

《第 1 回一般試験》

# 社 会

時間 3 0 分、 5 0 点満点

## 受験上の注意

1. 解答用紙には、受験番号・氏名を記入してください。
2. 解答は、解答用紙の所定のところに記入してください。  
記入方法を誤ると得点になりません。
3. 試験終了の合図とともに、解答用紙・問題用紙とも提出してください。

郁 文 館 中 学 校



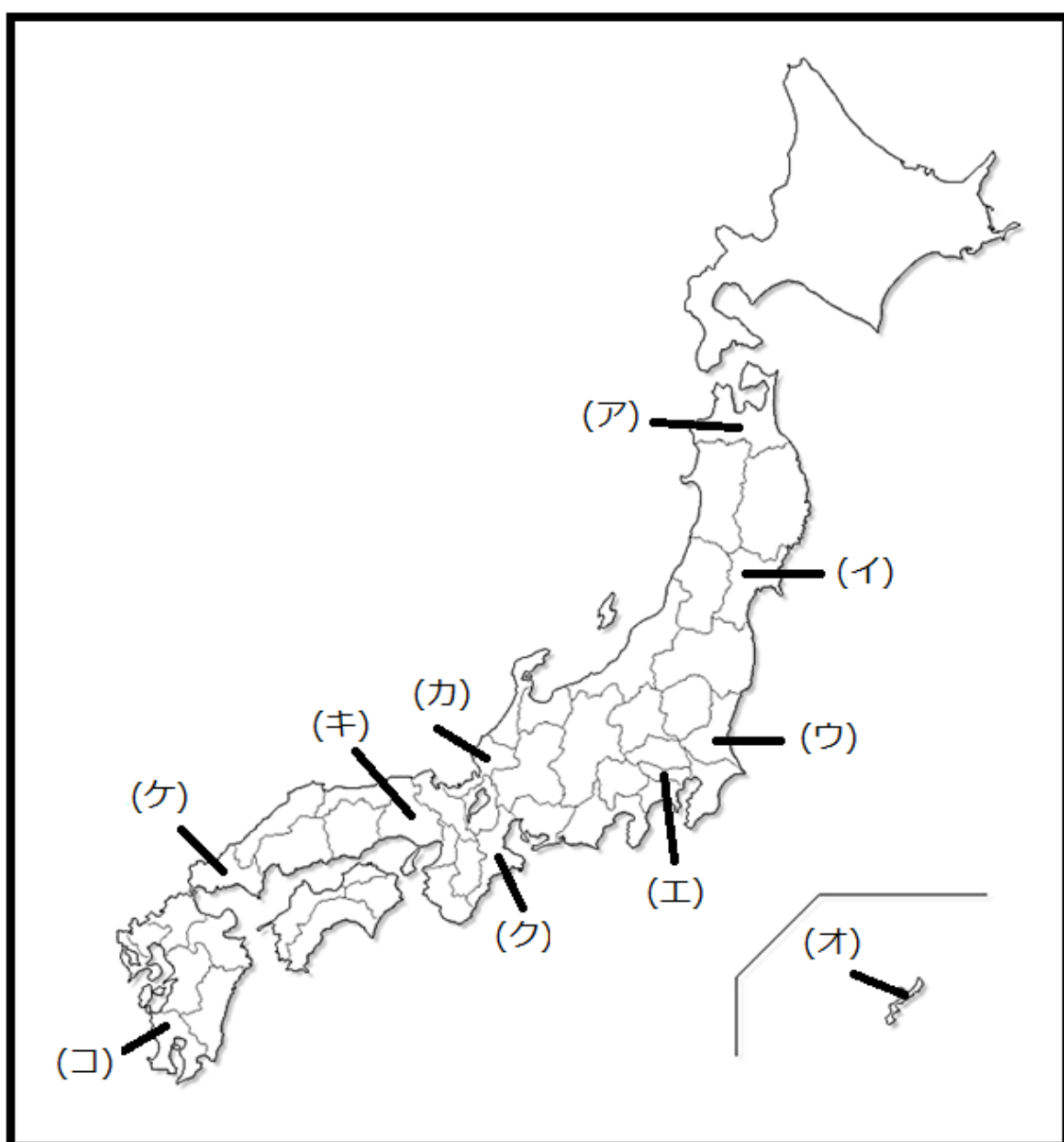
問題は次のページから始まります。

1 次の①～⑩の文は、日本の各都道府県の特徴をまとめたものです。それぞれの文章に適する都道府県を、地図中の（ア）～（コ）の記号で答えなさい。

- ① 耕地面積第一位は北海道ですが、この県は、北海道に次ぎ、新潟県と同規模の農業県です。大都市に出荷する野菜を栽培する近郊農業が盛んです。主な生産物として、れんこん・ピーマン・メロンが挙げられます。また、鹿島浦の砂丘に掘り込み式の港を建設してつくられた鹿島臨海工業地域は、鉄鋼・石油化学など、重化学工業が中心の工業地域です。
- ② この県には、日本最大のカルスト地形である秋吉台があります。水産業としては、特産のふぐや鯛の水揚げが多い県です。また、伝統工芸品としては、宇部の赤間すずり、萩焼が有名です。
- ③ 県の大部分に広がるシラス台地は畑作に利用され、さつまいも・茶・かぼちゃなどの生産量、肉牛・豚・にわとりの飼育頭(羽)数は日本有数です。指宿は温泉が多く、観光都市として栄えています。
- ④ この県には牡鹿半島を中心にリアス海岸が広がっています。近海には豊かな漁場があり、気仙沼や石巻の港では水揚げ量も多いです。この県は、伝統工芸品も多く、鳴子こけしが有名ですが、近年は交通網の整備により I C 工場が広がるなど、産業が変化しています。
- ⑤ この県は、冬に降水量が多く、また伝統工芸が栄えた県です。羽二重を中心に古くから繊維産業が盛んです。また、地場産業として、鯖江のめがねわくが大変有名ですが、原子力発電所が敦賀や大飯、美浜にあり、不安を感じている住民は少なくないという問題点があります。
- ⑥ 尾鷲から大台ヶ原にかけて、日本でも有数の多雨地帯が広がる県です。農業としては稲作が盛んですが、近年は松阪周辺で高級和牛である松阪牛を生産しています。また、古くから伊勢参りでにぎわう伊勢神宮があり、観光業も栄えています。
- ⑦ 日本の政治・経済の中心地であり、現在約 1、300 万人が住んでいます。文化の中心でもあり、新聞社や放送局、出版社などの本社が集中しています。
- ⑧ 現在、六ヶ所村に核燃料サイクル基地が建設中であるこの県は、林業が盛んであり、日本三大美林の 1 つである津軽ひばが有名です。

- ⑨ この県は 1995 年に淡路島を震源とした大地震により大きな被害を受けた県です。人工島であるポートアイランドや六甲アイランドは震災による液状化現象の被害もありましたが、近年は港町としての魅力を取り戻してきています。
- ⑩ 自然条件に適した作物であるさとうきび、パイナップルの生産が多い県ですが、近年はゴーヤなどの野菜の栽培も盛んです。サンゴ礁に囲まれた自然は観光産業を確立させました。

(地図)



2 次の写真に関するあとの問いに答えなさい。

A



問1 Aは広島県にある世界遺産のひとつです。広島に原子爆弾が落とされた月日として正しいものを、下の（ア）～（エ）の中から一つ選び、記号で答えなさい。

（ア）8月6日      （イ）8月9日      （ウ）8月11日      （エ）8月15日

問2 広島と同じく原子爆弾が落とされた都道府県として正しいものを、下の（ア）～（エ）の中から一つ選び、記号で答えなさい。

（ア）東京都      （イ）沖縄県      （ウ）兵庫県      （エ）長崎県

B



問3 Bは平安時代の宮廷の女性が着ていた衣装の一つです。  
平安時代に活躍した女流文学者・紫式部が書いたとされる作品として正しいものを、下の（ア）～（エ）の中から一つ選び、記号で答えなさい。

（ア）『源氏物語』      （イ）『更級日記』      （ウ）『枕草子』      （エ）『土佐日記』

問4 平安時代に他の氏族を退けながら、天皇の外戚（天皇の母方の親戚）となることで、摂関家として権勢をふるった一族として正しいものを、下の（ア）～（エ）の中から一つ選び、記号で答えなさい。

（ア）源氏                      （イ）藤原氏                      （ウ）平氏                      （エ）足利氏

C



問5 Cは奈良県にある前方後円墳です。  
Cは、邪馬台国の女王卑弥呼の墓ではないかと言われていますが、この人物が活躍したのは何世紀頃と考えられますか。下の（ア）～（エ）の中から一つ選び、記号で答えなさい。

（ア）3世紀頃                      （イ）4世紀頃                      （ウ）5世紀頃                      （エ）6世紀頃

問6 卑弥呼が使いを送ったときの中国の国名を、下の（ア）～（エ）の中から一つ選び、記号で答えなさい。

（ア）殷                      （イ）漢                      （ウ）魏                      （エ）秦

D



問7 Dは長崎県で発掘された隠れキリシタンのロザリオ（十字架）です。1549 年に来日し、豊後などでキリスト教を広めたイエズス会宣教師を、下の（ア）～（エ）の中から一つ選び、記号で答えなさい。

（ア）マルコ・ポーロ （イ）ザビエル （ウ）ロヨラ （エ）ヤン・ヨーステン

問8 キリスト教が伝わった後の出来事としてふさわしくないものを、下の（ア）～（エ）の中から一つ選び、記号で答えなさい。

（ア）種子島に漂着したポルトガル人によって鉄砲が伝えられた。  
（イ）織田信長が明智光秀に背かれて、本能寺で死去した。  
（ウ）千利休がわび茶の作法を完成させた。  
（エ）城下町や市などでは楽市楽座により、賑わい<sup>にぎ</sup>をみせていた。

問9 江戸幕府はキリシタン信仰を禁じましたが、地元領主の圧政に抵抗するキリシタンを中心とした農民による反乱も発生し、幕府は徹底した鎮圧を行いました。この反乱の名前として正しいものを、下の（ア）～（エ）の中から一つ選び、記号で答えなさい。

（ア）由井正雪の乱 （イ）島原の乱 （ウ）大塩の乱 （エ）石山戦争

問10 写真A～Dを古いほうから並べたときに、正しい組み合わせとなるものを、下の（ア）～（エ）の中から一つ選び、記号で答えなさい。

（ア）B→C→A→D （イ）C→B→A→D  
（ウ）C→B→D→A （エ）B→C→D→A



(問題は次のページに続きます)

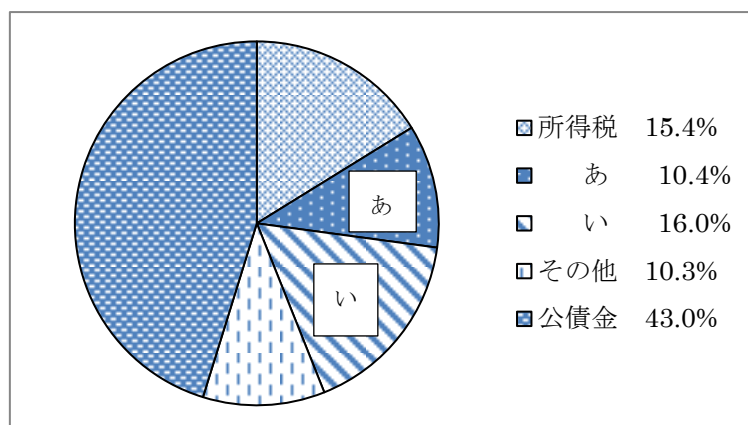
3 国の財政についての文章に関するあとの問いに答えなさい。

政府が必要な資金を徴収し支出する経済活動のことを (A) 財政 とよびます。政府の経済活動に伴う支出は通常、(B) 租税 を中心にまかなわれています。政府の (C) 財政規模 が拡大するにつれ、税収だけで歳出をまかないきれない場合が多くあります。そうした場合には (D) 国債 を発行することで、歳入の不足を補うことになります。ただし、これが続くと将来世代の負担が大きくなってしまいます。

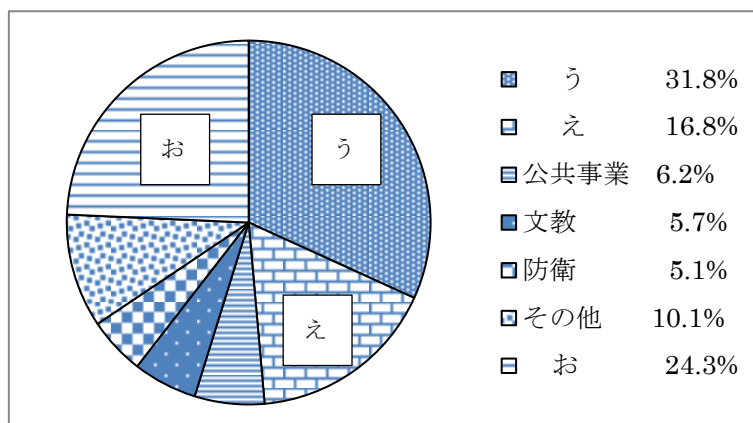
この財政の役割（機能）としては、(E) 公共の財・サービス を提供すること、課税や政府支出を通じて所得格差の調整を行うこと、景気調整をおこなうこと、などがあげられます。

問1 下線部（A）に関連して、平成26年度における国の財政状況のグラフの中から、消費税、地方交付税交付金の組み合わせとして正しいものを、次の（ア）～（エ）の中から一つ選び記号で答えなさい。

<歳入割合のグラフ>



<歳出割合のグラフ>



（財務省ホームページより作成）

- |     |       |            |
|-----|-------|------------|
| (ア) | 消費税－あ | 地方交付税交付金－う |
| (イ) | 消費税－あ | 地方交付税交付金－お |
| (ウ) | 消費税－い | 地方交付税交付金－う |
| (エ) | 消費税－い | 地方交付税交付金－え |

問 2 下線部 (B) に関連して、次の (ア) ～ (エ) の説明文の中から誤っているものを一つ選び、記号で答えなさい。

- |     |   |
|-----|---|
| (ア) | 直接税は、担税者（税を負担する人）と納税者（税を納める人）が一致しており、間接税は、担税者と納税者が異なっている。 |
| (イ) | 戦後日本はシャウプ勧告により、アメリカと同じ直接税中心主義をとることになった。                   |
| (ウ) | 直接税における課税制度は、低所得者の方が負担が重くなる制度になっている。                      |
| (エ) | 間接税における課税制度は、低所得者の方が負担が重くなる制度になっている。                      |

問 3 下線部 (C) に関連して、平成 26 年度の財政規模（一般会計予算の規模）について、次の (ア) ～ (エ) の中から最も正しいものを一つ選び、記号で答えなさい。

- |     |       |     |        |     |       |     |        |
|-----|-------|-----|--------|-----|-------|-----|--------|
| (ア) | 93 兆円 | (イ) | 930 兆円 | (ウ) | 93 億円 | (エ) | 930 億円 |
|-----|-------|-----|--------|-----|-------|-----|--------|

問 4 下線部 (D) に関連して、次の (ア) ～ (エ) の説明文の中で誤っているものを一つ選び、記号で答えなさい。

- |     |                                       |
|-----|---------------------------------------|
| (ア) | 国債は大別して 2 種類あり、建設国債と特例国債とがある。         |
| (イ) | 建設国債は、社会資本整備を目的として発行されるものである。         |
| (ウ) | 特例国債は、赤字国債とも言われあらゆる目的でいつでも発行することができる。 |
| (エ) | 戦後初めて国債が発行されたのは、1965（昭和 40）年のことであった。  |

問5 下線部（E）に関連して、次にあげる（ア）～（エ）の説明文の中で正しいものを一つ選び、記号で答えなさい。

- （ア）公共財とは道路や公園などのことであり、社会にとって必要なものであるため、企業どうしが自由に競争し提供している。
- （イ）公共財や公共サービスは、料金を支払っていない人を排除できないという性質をもっている。
- （ウ）公共財や公共サービスは、公務員などの特定の人々だけが使用できればよいという性質をもっている。
- （エ）公共財や公共サービスは、赤字になってしまうと供給できなくなる性質をもっている。

