

平成26年度

《第二回入試》

社 会

時間30分，50点満点

受験上の注意

1. 解答用紙には，受験番号・氏名を記入してください。
2. 解答は，解答用紙の所定のところに記入してください。
記入方法を誤ると得点になりません。
3. 試験終了の合図とともに，解答用紙・問題用紙とも提出してください。

郁 文 館 中 学 校

1 以下の文章を読んで、あとの問いに答えなさい。

郁文館中学では、みなさん一人一人の夢をかなえるために、3つの力が必要だと考えています。

一つ目は、生活習慣を身につける、人間力です。中学では、入学式の翌日から5泊6日の夢合宿に出発します。①長野県にある本校の施設で、レクリエーションや野外調理体験などの様々な体験をしながら生活習慣を確立し、人間力を向上させていきます。

二つ目は、夢をかなえるための学力の向上です。教室で受ける授業以外にも、②千葉県にある農場や山林に行き、農林業体験をします。現在の日本が抱える農業問題や林業問題を考え、社会の諸問題に関心と意見を持つ生徒となるよう、勉強していきます。

三つ目は、本校の最大の特徴である、未来を切り拓くためのグローバル力の向上です。そのために、本校では様々なプログラムを用意しています。

中学校3年間で英語力を身につけ、3年生の夏に、ニュージーランドなどの外国へ短期留学を行います。短期留学に必要な英語力をどのように身につけるかという、普段の授業はもちろんですが、中学2年生になると③アメリカの教育団体と英語によるショーを作り上げることで、コミュニケーション能力を身につけます。

それ以外にも、アジア研修を設けており、希望者は参加することができます。経済成長が著しい④台湾や⑤韓国、そして⑥シンガポール、発展途上国であるカンボジアなど、アジアの様々な国を実際に訪れ、体験することにより、英語力を向上させるとともに日本をあらためて認識できます。

下線部①に関して、以下の問いに答えなさい。

問1 長野県は、顕微鏡・拡大鏡の全国での生産割合が80%（2010年）を越えるほど、精密機械工業が盛んです。長野県を代表する、「東洋のスイス」とも言われる精密機械工業が盛んな盆地はどこですか。（ア）～（エ）の中から1つ選び、記号で答えなさい。

（ア）諏訪盆地	（イ）伊那盆地	（ウ）長野盆地	（エ）上田盆地
---------	---------	---------	---------

問2 長野県は、レタスの全国での生産量が32%（2011年）であり、日本第一位です。その理由はなぜですか。（ア）～（エ）の文の中から最も適切なものを1つ選び、記号で答えなさい。

- | |
|---|
| （ア）長野県でしか採取できない肥料を用いている。
（イ）畑の面積が日本で一番大きいため、安い価格で販売できる。
（ウ）標高が高く冷涼なため、数量の少ない夏に出荷できる。
（エ）第二次世界大戦後、政府がレタスの生産を許可した県が長野県だけだったため。 |
|---|

下線部②に関して、以下の各問いに答えなさい。

問3 千葉県よりも面積が小さい県はどれですか。(ア)～(エ)の中から1つ選択し、記号で答えなさい。

(ア) 茨城県

(イ) 宮崎県

(ウ) 広島県

(エ) 石川県

問4 千葉県の主な生産物の中で、生産量が日本1位ではないものはどれですか。(ア)～(エ)の中から1つ選び、記号で答えなさい。

(ア) 落花生

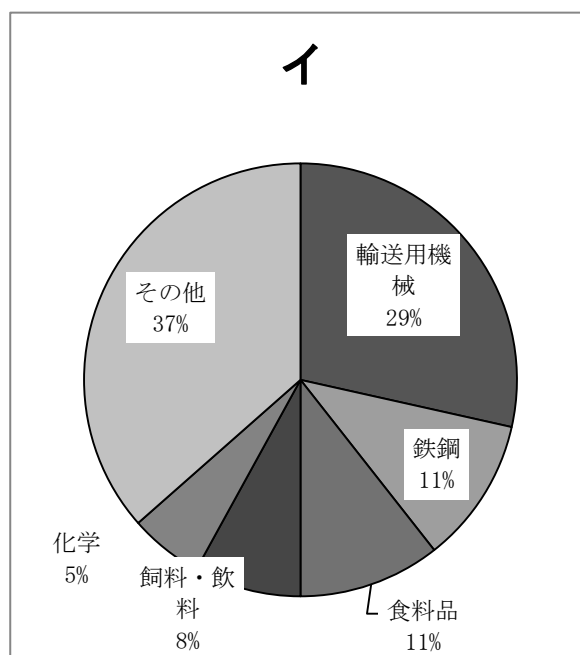
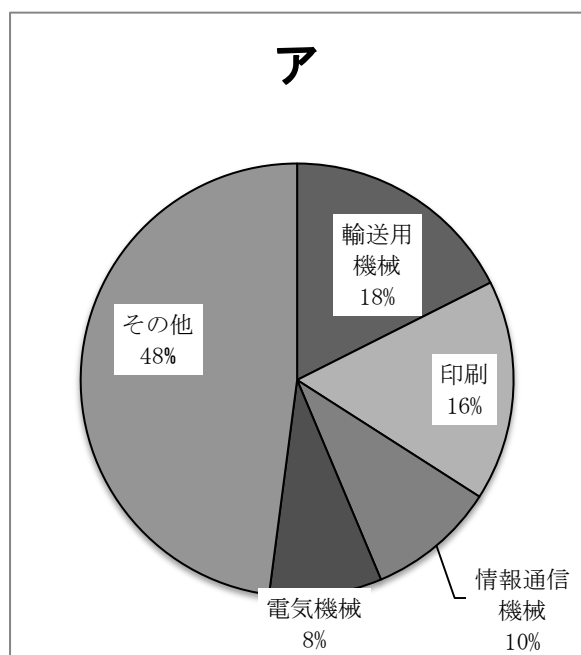
(イ) かぶ

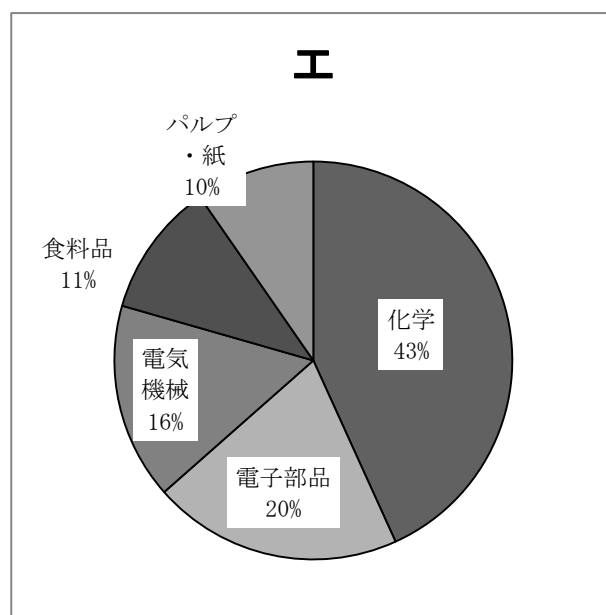
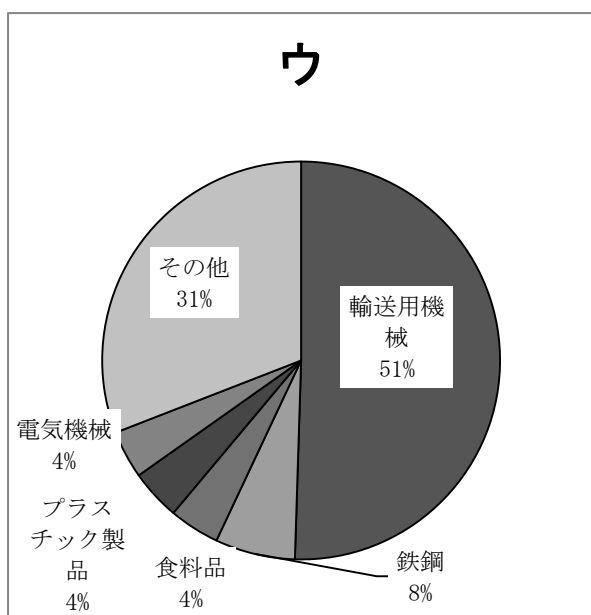
(ウ) ねぎ

(エ) らっきょう

下線部③に関して、以下の各問いに答えなさい。

問5 日本はアメリカに多くの自動車を輸出しており、代表的な例として、世界最大手の自動車メーカーであるトヨタ自動車あげられます。以下の表は、東京・福岡・愛知・徳島の製造品出荷額割合を表したものです。トヨタ自動車の本社がある愛知県の製造品出荷額割合のグラフはどれですか。ア～エの中から1つ選び、記号で答えなさい。





(出典：『データで見る県勢 2013 』第 22 版より)

問 6 アメリカは電子部品などの先端技術産業が盛んです。サンフランシスコ郊外には、シリコンバレーといわれる情報集積地帯があります。日本にも、シリコンアイランドと言われる地域があります。この、シリコンアイランドの経済の中心となる県は何県ですか。(ア) ～ (エ) の中から 1 つ選び、記号で答えなさい。

(ア) 福岡県

(イ) 大阪府

(ウ) 広島県

(エ) 山形県

問 7 アメリカは小麦の生産が盛んで、世界第三位です。では、日本で最も小麦を生産している都道府県はどこですか。(ア) ～ (エ) の中から 1 つ選び、記号で答えなさい。

(ア) 新潟県

(イ) 石川県

(ウ) 富山県

(エ) 北海道

問 8 下線部④に関して、台湾は日本のある島との距離がわずか約 110 キロメートルというほど、近くにあります。そのある島とはどこですか。(ア) ～ (エ) の中から 1 つ選び、記号で答えなさい。

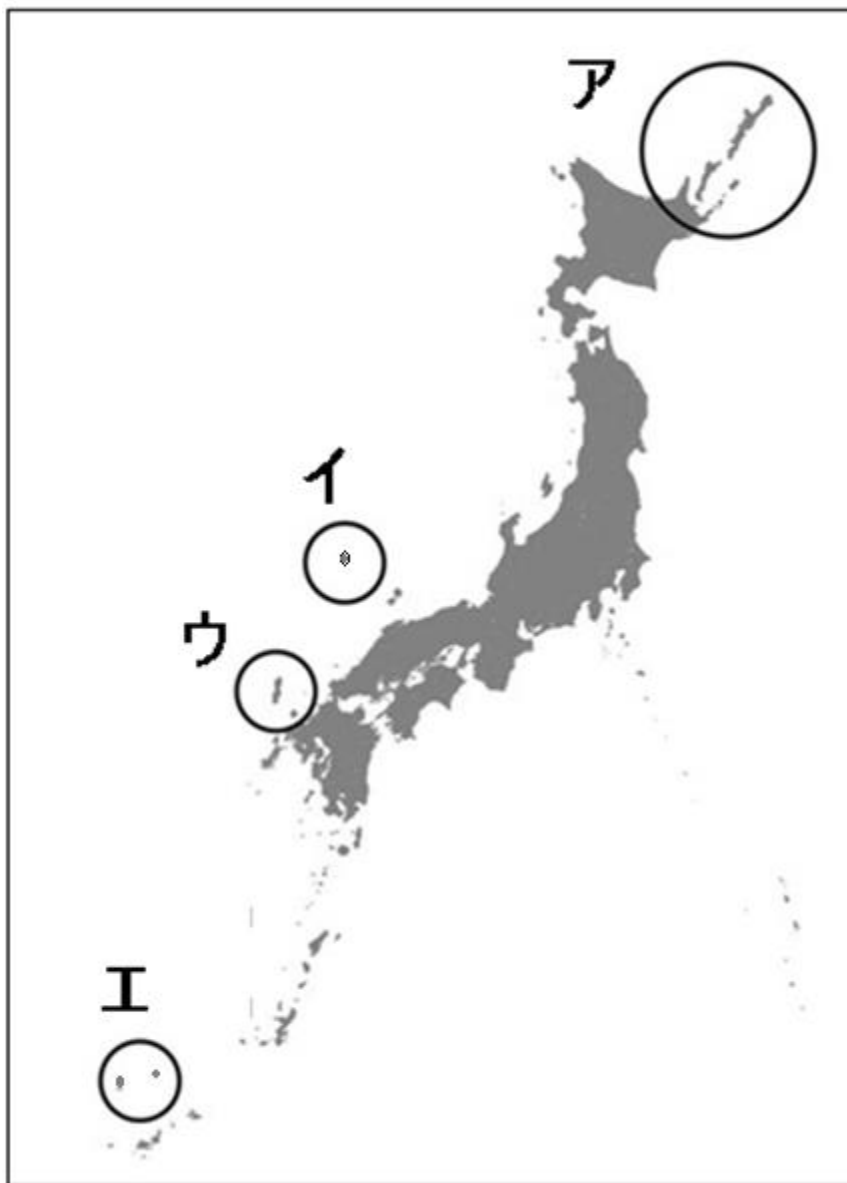
(ア) 石垣島

(イ) 与那国島

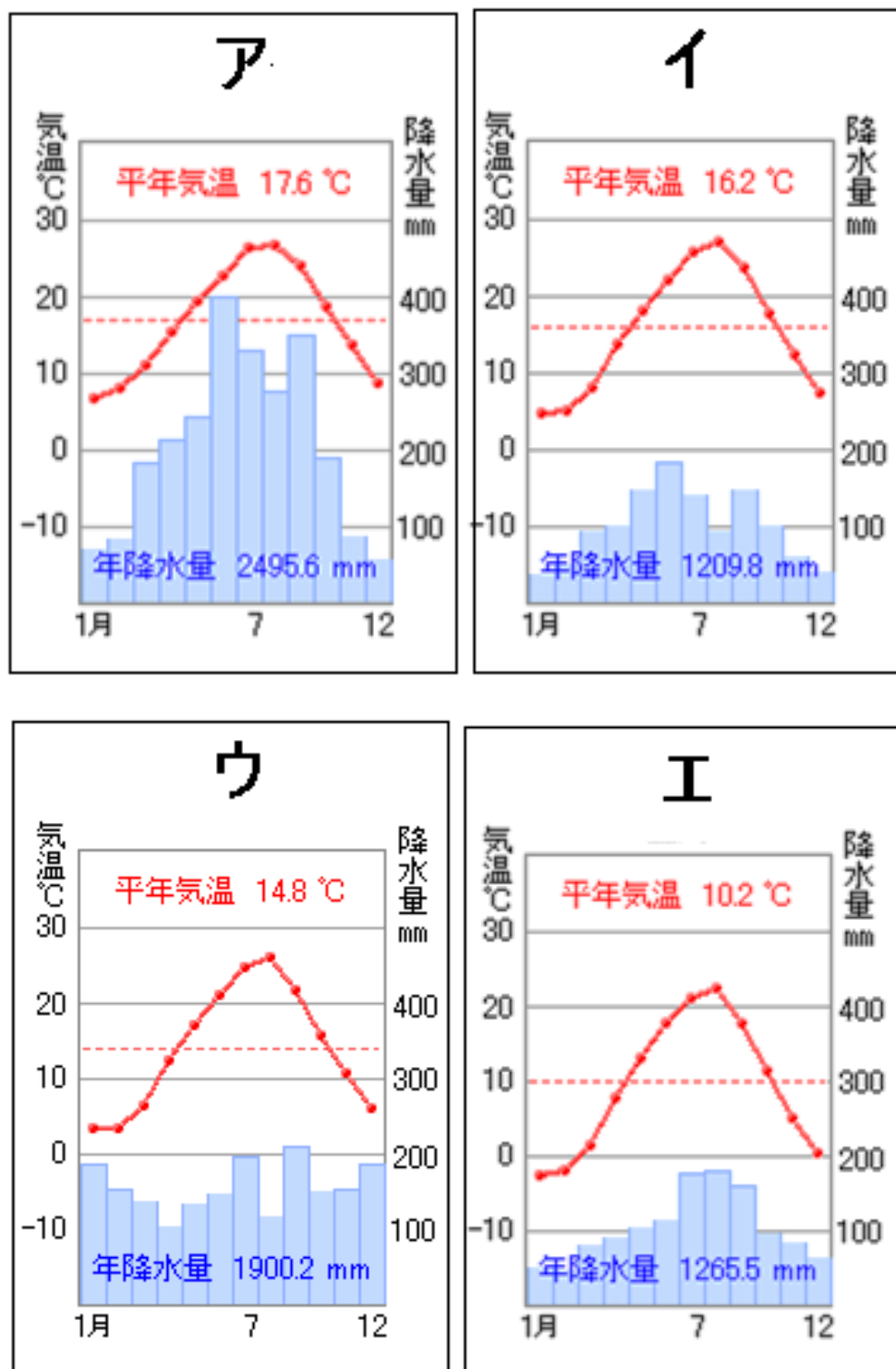
(ウ) 沖ノ鳥島

(エ) 屋久島

問 9 下線部⑤に関して、韓国と日本はある島をめぐり、意見が対立しています。その島の場所はどこですか。地図中ア～エの中から1つ選び、記号で答えなさい。



問 10 下線部⑥に関して、シンガポールの面積は兵庫県淡路島とほぼ同じ大きさです。以下の雨温図は、宮崎・鳥取・盛岡・淡路島の雨温図です。淡路島にあてはまる雨温図はどれですか。ア～エの中から1つ選び、記号で答えなさい。



気象庁発表の気温や降水量データ 30 年間（1978～2007）の平均値

2 次の（１）～（４）はそれぞれ歴史上のある人物についての文章です。次の問いに答えなさい。

- （１） 私は、新潟県に生まれ、高等小学校を卒業しました。佐藤栄作のあとをついで戦後最年少の総理大臣となりました。大きな政策の一つとして外交問題に取り組み、（Ａ）を発表し、中国との国交を正常化しました。
- （２） 私は天皇の流れを引く一族で、関東地方に勢力を伸ばしていました。一族内での争いからやがて国の役所を襲い、（Ｂ）と称して新しい国づくりを始めましたが戦で命を落としました。同じ頃西国では（Ｃ）が瀬戸内海を荒らし回っていました。
- （３） 私は夫の死後も息子や弟を支えるために力を尽くし、尼將軍などと呼ばれました。D朝廷との争いの時にも動揺する武士たちを団結させるために話をし、見事に勝利しました。
- （４） 私は現在の栃木県に生まれ、のちに衆議院議員に当選をしました。このころ地元である渡良瀬川で魚が死んだり稲が枯れる被害が発生し、流域の漁民や農民が大きな被害を受けました。私は近隣のE鉱山に原因があるとして操業の停止を政府や天皇に訴えました。

問１ （１）～（４）の人物としてそれぞれふさわしい名前を次の（ア）～（シ）の中から選び、記号で答えなさい。

（ア）平清盛	（イ）田中正造	（ウ）日野富子	（エ）佐倉惣五郎	（オ）平将門
（カ）池田勇人	（キ）平塚雷鳥	（ク）清少納言	（ケ）田中角栄	（コ）源義家
（サ）北条政子	（シ）小泉純一郎			

問２ 空欄（Ａ）に入る語句としてふさわしいものを次の（ア）～（エ）の中から一つ選び、記号で答えなさい。

（ア）日中修好条規	（イ）日中平和友好条約
（ウ）日中共同声明	（エ）日中通商条約

問3 空欄（B）と（C）に入る語句の組み合わせとしてふさわしいものを次の（ア）～（カ）の中から一つ選び、記号で答えなさい。

（ア）（B）公方	（C）藤原純友	（イ）（B）公方	（C）源義経
（ウ）（B）新皇	（C）藤原純友	（エ）（B）新皇	（C）新田義貞
（オ）（B）天子	（C）源義経	（カ）（B）天子	（C）新田義貞

問4 下線部Dの争いの名称としてふさわしいものを次の（ア）～（エ）の中から一つ選び、記号で答えなさい。

（ア）応仁の乱	（イ）承久の乱	（ウ）島原の乱	（エ）壬申の乱
---------	---------	---------	---------

問5 下線Eの鉱山の名称としてふさわしいものを次の（ア）～（エ）の中から一つ選び、記号で答えなさい。

（ア）石見銀山	（イ）阿仁銅山	（ウ）佐渡金山	（エ）足尾銅山
---------	---------	---------	---------

問6 (3)の人物の時代の文化資料としてふさわしいものを次の(ア)～(エ)より一つ選び、記号で答えなさい。

(ア)



東大寺南大門金剛力士像

(イ)



平等院鳳凰堂

(ウ)



湖畔

(エ)



婦女人相学十躰 ポッピンを吹く女

問7 (1)～(4)の人物が活躍した時代としてふさわしくないものを次の(ア)～(エ)より一つ選び、記号で答えなさい。

(ア) 奈良時代

(イ) 平安時代

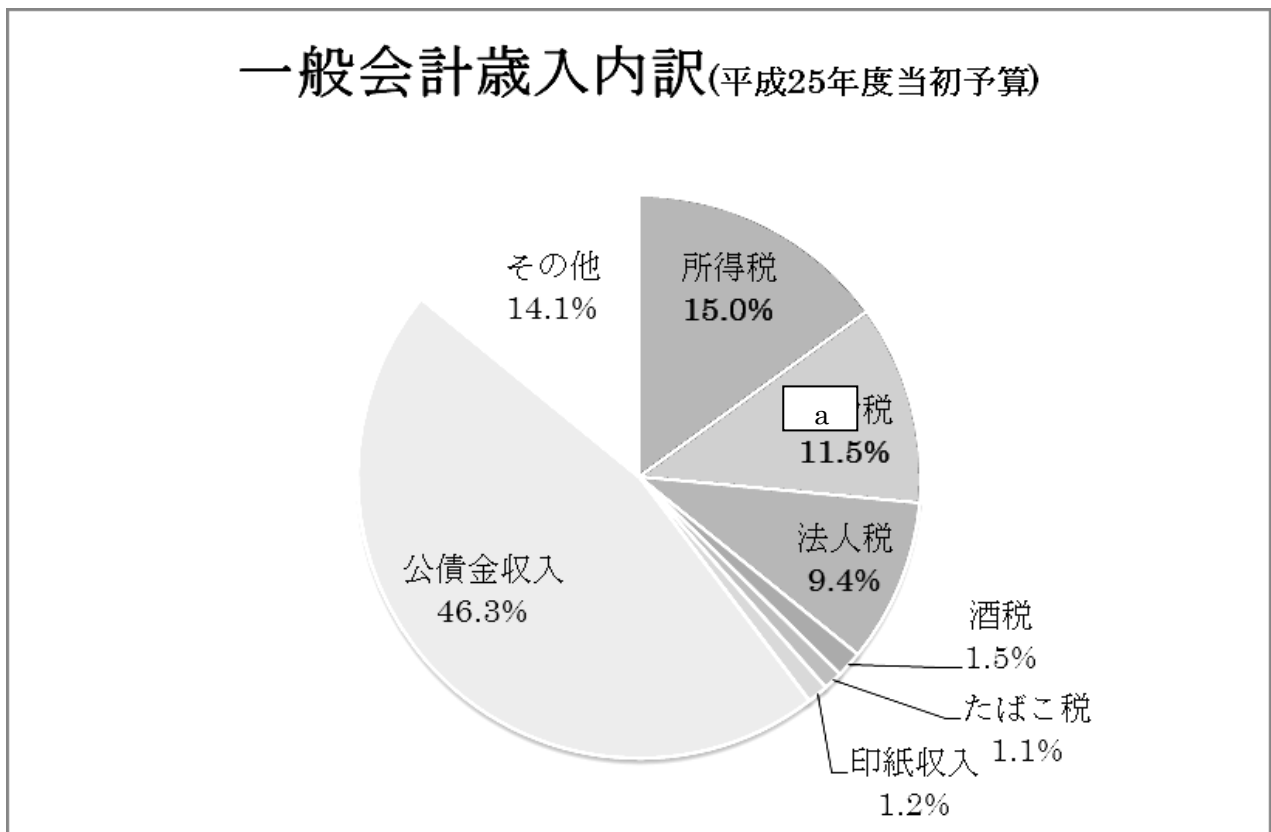
(ウ) 鎌倉時代

(エ) 明治時代

3 次の文章を読んで、あとの問いに答えなさい。

財政とは、①国民から税金などを集め、②国民生活に必要なサービスを行うことです。平成 25 年 5 月 15 日には、一般会計歳出総額が約 92 兆 6115 億円という③平成 25 年度予算が成立しました。政府は財政政策を通じて、また、④日本銀行は金融政策を通じて景気を調整し、国民生活の安定をめざします。しかし、国の財政においては **A** の発行残高の増大が問題となっており、政府や日本銀行による今後の景気のかじ取りが注目されています。

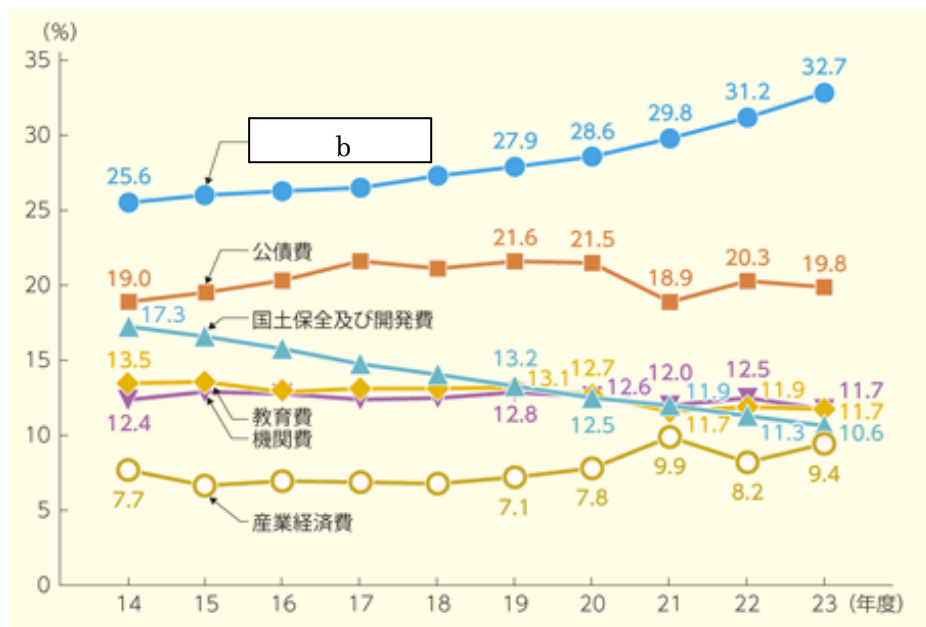
問 1 下線部①について、下のグラフ内の **a** にあてはまる語句を、漢字で答えなさい。



(財務省『平成 25 年度一般会計予算の概要』より)

問2 下線部②について、下の表は国の歳出における構成比の推移のグラフです。下のグラフ内の
b にあてはまる語句を、正しいものを、下の（ア）～（エ）から1つ選び記号で答えなさい。

歳出純計額の目的別歳出額の構成比の推移



（総務省「平成25年度（平成23年度決算）歳出純計額の目的別歳出額の構成比の推移」より）

- | | |
|--------------|------------|
| （ア）社会保障関係費 | （イ）防災関係費 |
| （ウ）文教及び科学振興費 | （エ）公共事業関係費 |

問3 下線部③について、予算が成立するまでの流れを説明した文として、正しいものを、下の（ア）～（エ）から1つ選び、記号で答えなさい。

- | | |
|-------------------------------|-----------------------------|
| （ア）衆議院で予算案をつくり、参議院で話し合い、成立する。 | （イ）国会で予算案をつくり、内閣が閣議を開き成立する。 |
| （ウ）裁判所が予算案をつくり、国民投票により成立する。 | （エ）内閣が閣議を開き予算案をつくり、国会で成立する。 |

問 4 下線部④について、日本銀行が行っている仕事のうち、ふさわしくないものを1つ選び、記号で答えなさい。

- (ア) 紙幣を発行できる日本で唯一の金融機関である。
- (イ) 政府のお金の出し入れを担当している。
- (ウ) 個人との取引を行っている。
- (エ) 銀行などの金融機関と国債などの取引をしている。

問 5 文章の空欄 A に入る語句として正しいものを、下の (ア) ～ (エ) から 1 つ選び、記号で答えなさい。

- (ア) 財投機関債 (イ) 赤字国債 (ウ) 地方債 (エ) 政府保証債