

平成 2 5 年度

第三回入試

社 会

時間 3 0 分 , 5 0 点満点

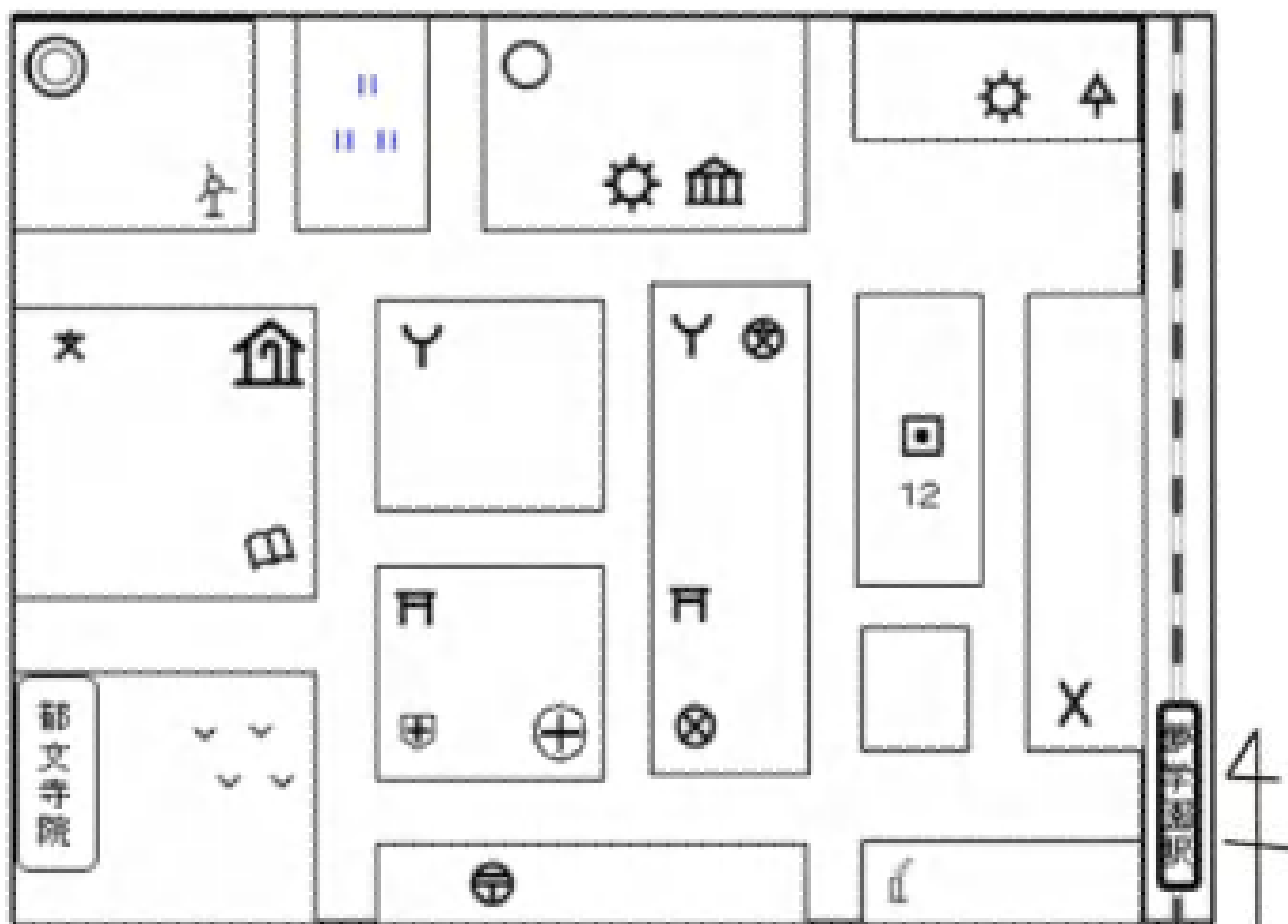
受験上の注意

- 1 . 解答用紙には , 受験番号・氏名を記入してください。
- 2 . 解答は , 解答用紙の所定のところに記入してください。
記入方法を誤ると得点になりません。
- 3 . 試験終了の合図とともに , 解答用紙・問題用紙とも
提出してください。

郁 文 館 中 学 校

問題は次のページから始まります。

1 次の地図をみて、あとの各問いに答えなさい。




問1 夢学園駅を出て、交番を右に曲がり真っ直ぐ進むと、工場があります。その工場の右側にある建物は何ですか。下の(ア)～(エ)の中から一つ選び、記号で答えなさい。

(ア) 図書館 (イ) 博物館 (ウ) 裁判所 (エ) 税務署

問2 老人ホームからみて、市役所はどの方角になりますか。八方位で答えなさい。



問3 地図中の は何を表していますか。正しい説明をしている文章を、下の(ア)～(エ)の中から一つ選び、記号で答えなさい。

- (ア) 近くに海岸があり、海岸との距離が12kmある事を表している。
- (イ) この辺りの住所が12丁目である事を表している。
- (ウ) この建造物から12m以内は立入禁止である事を表している。
- (エ) 東京湾の海面からを基準とした、この土地の高さが12mであることを表している。

問4 小学校を出発し、郵便局へ最短距離で行く場合、通らない建物は何ですか。下の(ア)～(エ)の中から一つ選び、記号で答えなさい。

- | | | | |
|--------|--------|---------|---------|
| (ア) 病院 | (イ) 神社 | (ウ) 消防署 | (エ) 保健所 |
|--------|--------|---------|---------|

問5 この地図上には郁文寺院があります。寺院の地図記号を解答欄に書きなさい。

2 次の地形図を見て、あとの問いに答えなさい。



問1 地形図中で、もっとも高い地点を図中(あ)～(え)の中から一つ選び、記号で答えなさい。

問2 地形図中で、もっとも傾斜の急な場所を図中(A)～(D)の中から一つ選び、記号で答えなさい。

問3 この地形図は、2万5千分の1の縮尺です。(B)(D)2点の間は、図上で4cmあります。実際の距離は何mですか。下の(ア)～(エ)の中から一つ選び、記号で答えなさい。

(ア) 200m	(イ) 400m	(ウ) 1000m	(エ) 2000m
----------	----------	-----------	-----------

問4 地形図中の「奈良原」で、もっとも多く見られる土地利用は何ですか。下の(ア)～(エ)の中から一つ選び、記号で答えなさい。

(ア) 田	(イ) 果樹園	(ウ) 竹林	(エ) 畑
-------	---------	--------	-------

問5 この地形図は、国土地理院が発行していますが、どの省に属していますか。下の(ア)～(エ)の中から一つ選び、記号で答えなさい。

(ア) 国土交通省	(イ) 文部科学省	(ウ) 環境省	(エ) 農林水産省
-----------	-----------	---------	-----------

3 次の写真に関するあとの問いに答えなさい。

A



問1 Aは東北地方に建てられた城の跡地です。東北地方の行政や軍事拠点として作られたものですが、平安時代に蝦夷と戦った人物を、下の(ア)～(エ)の中から一つ選び、記号で答えなさい。

(ア) 源頼朝	(イ) 平将門	(ウ) 坂上田村麻呂	(エ) 天武天皇
---------	---------	------------	----------

問2 Aと同じ東北地方にある建造物を、下の(ア)～(エ)の中から一つ選び、記号で答えなさい。

(ア) 金閣	(イ) 中尊寺	(ウ) 平等院	(エ) 東大寺
--------	---------	---------	---------

B



問3 Bは鎌倉時代にある国の来襲に備えて作られた防御施設ですが、ある国とはどこですか。下の(ア)～(エ)の中から一つ選び、記号で答えなさい。

(ア) 清 (イ) 明 (ウ) 元 (エ) 宋

問4 Bの防御施設が作られたのは何世紀頃と考えられるか、下の(ア)～(エ)の中から一つ選び、記号で答えなさい。

(ア) 11世紀頃 (イ) 13世紀頃 (ウ) 15世紀頃 (エ) 17世紀頃

問5 Bの防御施設が作られた後の出来事としてふさわしくないものを、下の(ア)～(エ)の中から一つ選び、記号で答えなさい。

- (ア) 平清盛が実権を握り、平氏政権が栄えた。
- (イ) 御家人の救済を目的とした永仁の徳政令が発令された。
- (ウ) 鎌倉幕府が滅び、後醍醐天皇が建武の新政を開始した。
- (エ) 兼好法師が『徒然草』を執筆した。

C



問6 Cの「火縄銃」が最初に伝わった場所はどこですか。下の(ア)～(エ)の中から一つ選び、記号で答えなさい。

(ア) 種子島 (イ) 屋久島 (ウ) 対馬 (エ) 佐渡

問7 Cが日本に伝来した頃の出来事としてふさわしくないものを下の(ア)～(エ)の中から一つ選び、記号で答えなさい。

- (ア) 日本の各地で戦国大名が独自の法令を作り、それぞれの国を支配していた。
- (イ) キリシト教が伝来したが、天皇は布教を禁止し、日本に広まることはなかった。
- (ウ) 織田信長が桶狭間の戦いで今川氏を討った。
- (エ) 城下町や市などでは楽市楽座令により、賑わいをみせていた。

D



問 8 Dは、銅剣・銅鐸・銅戈が同一箇所から見つかった島根県の遺跡であるが、この遺跡は何時代のものか、下の（ア）～（エ）の中から一つ選び、記号で答えなさい。

（ア）平安時代 （イ）縄文時代 （ウ）奈良時代 （エ）弥生時代

問 9 A～Dを古いほうから並べたときに、正しい組み合わせとなるものを、下の（ア）～（エ）の中から一つ選び、記号で答えなさい。

（ア）D A B C （イ）A D C B
（ウ）A D B C （エ）D A C B

問 10 郁文館夢学園は今年で創立 124 年を迎えます。郁文館が創立された年と最も近い出来事は何ですか。下の（ア）～（エ）の中から一つ選び記号で答えなさい。

（ア）関東大震災が起きた。

（イ）日清戦争が起きた。

（ウ）日米和親条約が結ばれた。

（エ）バブル景気を迎えた。

- 4 次の文章は、野田首相の国会における所信表明演説（平成 24 年 10 月 29 日）の一部です。これを読み、あとの問いに答えなさい。

内閣総理大臣を拝命してから 1 年余。この間、私を突き動かしてきたものは、この国の将来を憂える危機感です。今、何とかしなければならない、という切迫した使命感です。

東日本大震災が我が国に突き付けた難題。そして、それ以前から我が国が背負ってきた重荷の数々。いずれも、このまま放置すれば、5 年後、10 年後の将来に取り返しのつかない禍根を残してしまうでしょう。立ち止まっている時間はないのです。2 年目の厳しい冬を迎える被災地の復興。今も続く原発事故との戦い。事故に起因して再構築が求められる エネルギー・環境政策。不透明感を増す足下の経済情勢と安全保障環境。そして、歴史に類を見ない超少子高齢化社会の到来。全ての課題は複雑に絡み合い、この国の将来を覆っています。（中略）

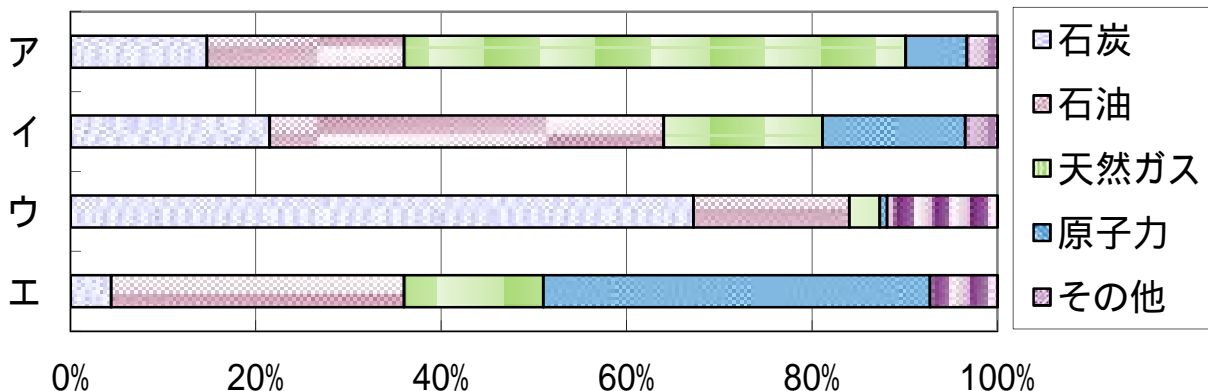
明日への責任を果たす。それは、将来不安の連鎖を招くデフレ経済と過度な円高から抜け出すことです。そして、日本経済の潜在力を覚醒させ、先行きに確かな自信を取り戻すことです。

日本経済の再生に道筋を付け、雇用と暮らしに安心感をもたらすことは、野田内閣が取り組むべき現下の最大の課題です。欧州の債務危機の余波や新興国経済の減速によって、世界経済の先行きは決して盤石とは言えません。かつてない規模での貿易赤字など、日本経済の足下にも不安が広がっています。今、日本経済が失速してしまえば、雇用や暮らしに直結するだけでなく、将来に向けた改革の推進力までもが失われかねません。切れ目のない経済対策は、改革を断行するための将来投資でもあるのです。

- 問 1 下線部 について、野田首相の在任中に起きた世界の出来事として誤っているものを下の（ア）～（エ）の中から一つ選び、記号で答えなさい。

- | | |
|----------------|--------------|
| （ア） ロンドンオリンピック | （イ） 金環日食 |
| （ウ） アメリカ大統領選挙 | （エ） リーマンショック |

- 問 2 下線部 について、下のグラフは各国の一次エネルギー供給量の割合を表しています。日本にあたるものを下の（ア）～（エ）の中から一つ選び、記号で答えなさい。



（データは 2009 年のもの）（『日本国勢図会 2012 / 13 年版』による）

問3 下線部 について、現在の日本の労働環境を説明した文章として正しいものを下の(ア)～(エ)の中から一つ選び、記号で答えなさい。

- | |
|--|
| (ア) 非正規社員や派遣社員の数が以前に比べ増加している。
(イ) 好景気により、経済格差が解消されつつある。
(ウ) 10年前より失業率が大幅に下がり、雇用が安定している。
(エ) 女性の社会進出が進み、欧米以上に女性の雇用が増加している。 |
|--|

問4 下線部 について、欧州債務危機のきっかけとなったヨーロッパの国を下の(ア)～(エ)の中から一つ選び、記号で答えなさい。

- | | | | |
|----------|------------|----------|----------|
| (ア) イギリス | (イ) スウェーデン | (ウ) フランス | (エ) ギリシャ |
|----------|------------|----------|----------|

問5 下線部 について、民主党政権が行ったこととして誤っているものを下の(ア)～(エ)の中から一つ選び、記号で答えなさい。

- | | |
|--------------|---------------|
| (ア) 事業仕分けの実施 | (イ) 子ども手当の支給 |
| (ウ) 郵政民営化の実施 | (エ) 高校授業料の無償化 |