

平成 2 3 年度

第 4 回試験

# 社 会

時間 3 0 分 , 5 0 点満点

## 受験上の注意

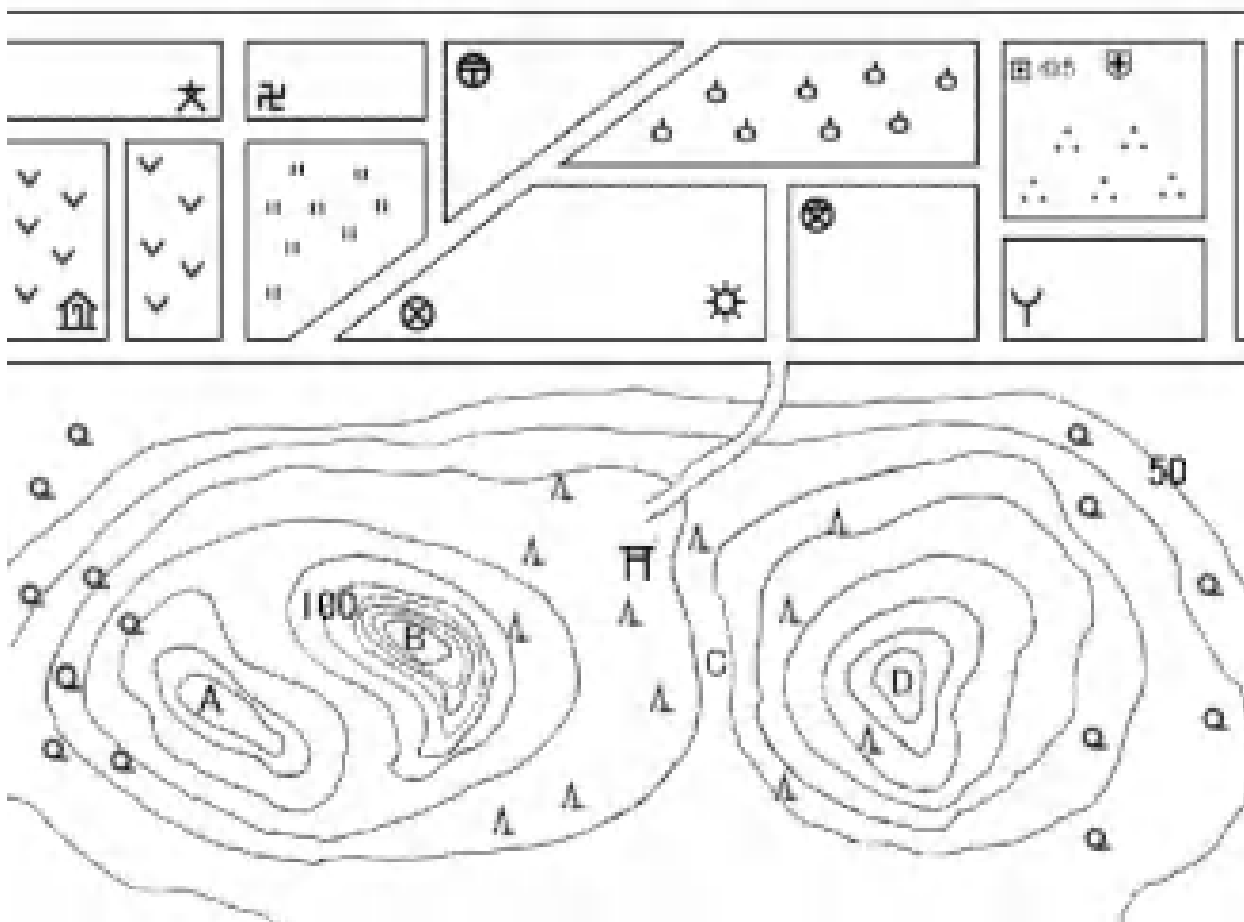
- 1 . 解答用紙には , 受験番号・氏名を記入してください。
- 2 . 解答は , 解答用紙の所定のところに記入してください。  
記入方法を誤ると得点になりません。
- 3 . 試験終了の合図とともに解答用紙・問題用紙とも提出してください。

郁 文 館 中 学 校

問題は次のページよりはじまります。

1

下の地形図を見て、各問に答えなさい。




問1 地図中のA～Dの場所の中でもっとも高い場所を、記号で答えなさい。

問2 地図中の ■ の地図記号が示す農作物の生産高第一位の都道府県を、下の(ア)～(エ)より一つ選び、記号で答えなさい。


(ア)新潟県 (イ)福島県 (ウ)秋田県 (エ)北海道

問3 地図中の ● の地図記号が示す木の中に、ブナの木がありますが、そのブナの木の原生林が残り、世界遺産に登録された山地を下の(ア)～(エ)より一つ選び、記号で答えなさい。


(ア)白神山地 (イ)紀伊山地 (ウ)中国山地 (エ)関東山地

問4 地図中の  の地図記号が示す農作物の栽培方法に促成栽培があります。促成栽培の盛んな高知県が日本一の生産をほこる農作物を下の(ア)～(エ)より一つ選び、記号で答えなさい。


(ア)ピーマン      (イ)きゅうり      (ウ)すいか      (エ)なす

問5 地図中の  の地図記号が示す農作物の生産高一位の都道府県を下の(ア)～(エ)より一つ選び、記号で答えなさい。


(ア)京都府      (イ)静岡県      (ウ)北海道      (エ)沖縄県

問6 地図中の  の記号は、何を表していますか。当てはまるものを下の(ア)～(エ)より一つ選び、記号で答えなさい。

(ア)発電所      (イ)灯台      (ウ)工場      (エ)テレビ局

問7 地図中の  の記号は、何を表していますか。当てはまるものを下の(ア)～(エ)より一つ選び、記号で答えなさい。

(ア)裁判所      (イ)消防署      (ウ)警察署      (エ)銀行

問8 地図中の  の記号は、何を表していますか。当てはまるものを下の(ア)～(エ)より一つ選び、記号で答えなさい。

(ア)保健所      (イ)消防署      (ウ)市役所      (エ)病院

問9 次の文章は、A山の山頂から見た、風景を表しています。正しいものを二つ選び、記号で答えなさい。

- (ア)北側を見ると、小学校が見える。
- (イ)北側を見ると、高等学校が見える。
- (ウ)北側には、畑の中に老人ホームが建っている。
- (エ)北東の派出所の先に郵便局がある。
- (オ)B山の先に神社が見える。
- (カ)B山の先に寺院が見える。
- (キ)A山の西側には、果樹園が広がっている。

2

次の写真に関する問に答えなさい。

A



問1 Aの寺は鎌倉時代に開かれた曹洞宗の総本山です。鎌倉時代の出来事としてふさわしくないものを、下の(ア)～(エ)の中から一つ選び記号で答えなさい。

- (ア) 元軍が二度にわたって襲撃してきた。
- (イ) 平清盛が武士として初めて太政大臣になった。
- (ウ) 武士の法律である御成敗式目が制定された。
- (エ) 後鳥羽上皇が承久の乱を起こした。

問2 永平寺は福井県にありますが、方角的に見て、永平寺より東で起きた出来事を下の(ア)～(エ)の中から一つ選び記号で答えなさい。

- (ア) 西南戦争が起きた。
- (イ) 第二次世界大戦中、原子爆弾が落とされた。
- (ウ) 最澄が天台宗を開いた。
- (エ) 第二次世界大戦後、日本でオリンピックが開かれた。

B



問3 Bの写真は青森県にある遺跡の建物を撮影したものです。この建物がある遺跡名を、下の(ア)～(エ)の中から一つ選び記号で答えなさい。

- (ア) 加曽利貝塚
- (イ) 大仙陵古墳
- (ウ) 吉野ヶ里遺跡
- (エ) 三内丸山遺跡

問4 Bの写真の建物は復元されたものですが、実際のものが建てられた時代はいつと考えられますか。下の(ア)～(エ)の中から一つ選び記号で答えなさい。

(ア) 弥生時代      (イ) 古墳時代      (ウ) 縄文時代      (エ) 奈良時代

C



問5 幕末期に彦根藩を治めていた人物が、日米修好通商条約を結びました。幕府の最高職である大老にもなったその人物は誰ですか。下の(ア)～(エ)の中から一つ選び記号で答えなさい。

(ア) 井伊直弼      (イ) 平賀源内      (ウ) 坂本竜馬      (エ) 松平定信

問6 Cの写真の彦根城は、慶長8(1603)年に築城が開始されましたが、同じ年に起こった出来事として、ふさわしいものを下の(ア)～(エ)の中から一つ選び記号で答えなさい。

(ア) 関ヶ原の戦いが起こる。      (イ) 武家諸法度が制定される。  
(ウ) キリスト教の禁教が行われた。      (エ) 徳川家康が征夷大将軍に就任した。

D



問7 Dの写真は、日露戦争後に工事が本格化し完成した東京駅ですが、日露戦争後の出来事としてふさわしいものを、下の(ア)～(エ)の中から一つ選び記号で答えなさい。

(ア) 大日本帝国憲法が制定された。      (イ) 満州事変が起きた。  
(ウ) 内閣制度が創設された。      (エ) 地租改正が行われた。

E



問8 Eの写真は奈良時代に創建された長谷寺ですが、奈良時代の出来事としてふさわしくないものを、下の(ア)～(エ)の中から一つ選び記号で答えなさい。

- |                   |                     |
|-------------------|---------------------|
| (ア) 遣唐使が派遣された。    | (イ) 墾田永年私財法が制定された。  |
| (ウ) 東大寺に大仏が造立された。 | (エ) 坂上田村麻呂が蝦夷を制圧した。 |

問9 A～Eを古いほうから並べたときに、正しい組み合わせとなるものを、下の(ア)～(エ)の中から一つ選び記号で答えなさい。

- |               |               |
|---------------|---------------|
| (ア) E B C A D | (イ) A B E D C |
| (ウ) B E A C D | (エ) B C D A E |

問10 郁文館夢学園は今年で創立122年を迎えます。A～Eの写真の中で、郁文館夢学園が創立された年と最も近い年のものはどれですか。A～Eの記号で答えなさい。

3

次の問に答えなさい。

問1 「都市鉱山」とはどのような意味ですか。正しい説明を下の(ア)～(エ)から一つ選び、記号で答えなさい。

- (ア) 都市の地下にあり発掘できない鉱物のこと。
- (イ) 公官庁が貯め込んでいる資金のこと。
- (ウ) 都市を再開発する際に出る鉄骨や銅線などの金属のこと。
- (エ) 都市部で家電ゴミの中に含まれる希少金属のこと。

問2 2010 年が節目となる出来事としてふさわしくないものを、下の(ア)～(エ)から一つ選び、記号で答えなさい。

- (ア) 日本が韓国を併合した年から 100 年。
- (イ) 朝鮮戦争が始まってから 60 年。
- (ウ) 東西に分裂していたドイツが統一してから 20 年。
- (エ) 9.11 同時多発テロから 10 年。

問3 「ねじれ国会」の説明として最も正しいものを、下の(ア)～(エ)から一つ選び、記号で答えなさい。

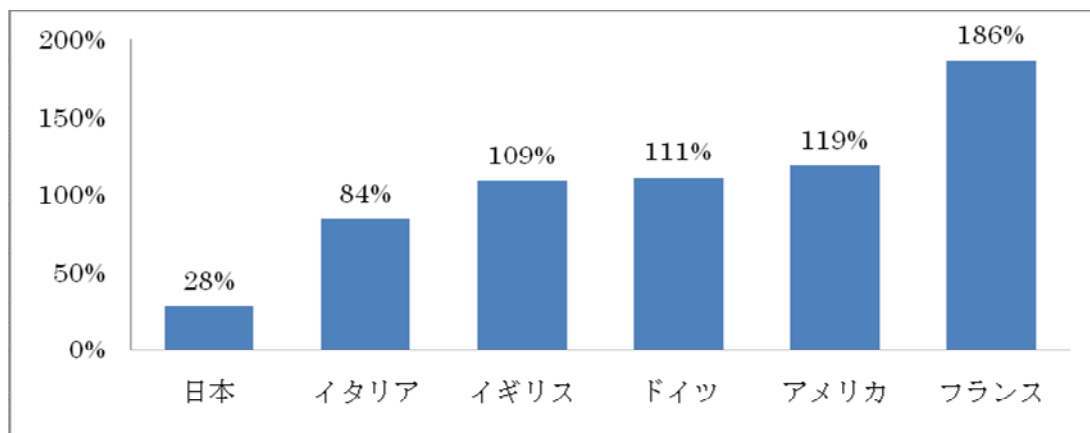
- (ア) 参議院で野党の議員数が与党の議員数を上回ること。
- (イ) 野党の党首が内閣総理大臣になること。
- (ウ) 与党の中で、衆議院と参議院の意見が異なること。
- (エ) 衆議院と参議院の議員数が入れ替わったこと。

問4 昨年、EU(欧州連合)はリスボン条約の調印によって、欧州議会議長(EU大統領)を選出しました。初代大統領に就任した人物を、下の(ア)～(エ)から一つ選び、記号で答えなさい。

- |             |             |
|-------------|-------------|
| (ア) メドベージェフ | (イ) ベルルスコーニ |
| (ウ) サルコジ    | (エ) ファンロンパウ |



問5 次のグラフは、主な国の穀物の自給率を示したものです。グラフの下に書かれている意見を読み、それに反対する意見を書いてください。



(2005年 農林水産省)

**【意見】**

「私は、日本の食料の自給率は少なくても、外国から食料を輸入しているから心配はいらないと思う。」