

平成 2 2 年度

《第 3 回試験》

# 社 会

時間 3 0 分， 5 0 点満点

## 受験上の注意

1. 解答用紙には，受験番号・氏名を記入してください。
2. 解答は，解答用紙の所定のところに記入してください。  
記入方法を誤ると得点になりません。
3. 試験終了の合図とともに，解答用紙・問題用紙とも提出してください。

郁 文 館 中 学 校

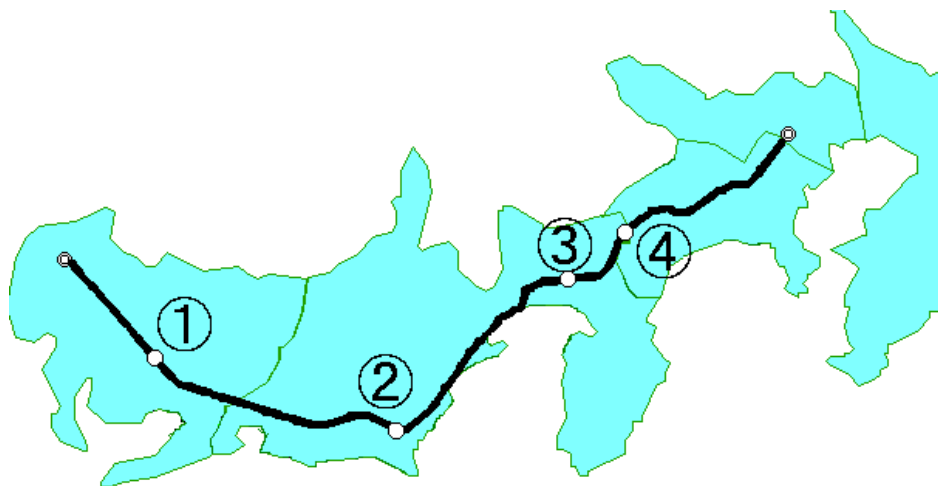
1 次の文章を読み、地図を見て、各問に答えなさい。

日本は、自然の災害による被害が多い国です。5月から7月にかけての梅雨や8月から9月に日本に近づく台風、プレートの境目に位置する関係から発生する(A)地震や火山の噴火は、常に日本に災害をもたらすものです。梅雨や台風は大雨や(B)洪水、高潮、暴風を引き起こします。1959年に(C)紀伊半島から(D)東海地方にかけて、死者、行方不明者が5000人以上出した伊勢湾台風は、自然災害としては、戦後最大の被害を出したものでした。しかし、(E)1995年に発生した地震の被害は、死者、行方不明者が6000人を超える戦後(F)日本最大の自然災害となりました。

もともと、この自然災害をもたらす出来事も、(G)農業にとってはなくてはならない降水量をもたらしてくれます。また、観光の面からいえば、温泉などの保養地として活用できる良い点もあります。

問1 下線部(A)により、2009年8月に牧の原台地付近の高速道路が崩れ、帰省や観光に向かう人々に多くの影響を出しました。この崩れた場所を地図1の中の①～④の中から番号を選びなさい。また、この高速道路の名前を下の(ア)～(エ)の中から一つ選び、記号で答えなさい。

地図1



(ア) 名神高速道路 (イ) 関越自動車道 (ウ) 中央自動車道 (エ) 東名高速道路

問2 下線部(B)の防止もひとつの目的であるダムですが、建設には様々な問題があり、2009年の民主党内閣が組織された後に、建設中止の問題が起こった群馬県のダムを何といいますか。下の(ア)～(エ)の中から一つ選び、記号で答えなさい。

(ア) 黒部ダム (イ) 奥只見ダム (ウ) 下諏訪ダム (エ) ハッ場ダム

問3 下線部(C)にある山地は、日本有数の森林地帯です。この中の吉野地方で有名な木の種類を下の(ア)～(エ)の中から一つ選び、記号で答えなさい。


(ア) ひのき      (イ) すぎ      (ウ) ひば      (エ) ブナ

問4 下線部(C)とほぼ同緯度にある都市を下の(ア)～(エ)の中から一つ選び、記号で答えなさい。

(ア) ロサンゼルス      (イ) ホンコン      (ウ) ローマ      (エ) ブエノスアイレス

問5 下線部(D)の地域の東海工業地域にある都市と工業の組み合わせの中で、ふさわしくないものを下の(ア)～(エ)の中から一つ選び、記号で答えなさい。

(ア) 浜松市のオートバイ      (イ) 富士市の製紙  
(ウ) 焼津市の水産加工      (エ) 静岡市の石油化学

問6 下線部(E)の発生した地域を地図2の  の(ア)～(エ)の中から一つ選び、記号で答えなさい。

問7 下線部(F)の面積をほこる北海道は、日本一といわれるものが多くあります。下の語群の中で、2006年の生産高で北海道が日本一のものを下の(ア)～(エ)の中から一つ選び、記号で答えなさい。

(ア) 鉄鋼      (イ) 石油製品      (ウ) 食料品      (エ) パルプ、紙加工品

問8 下線部(G)の働き手は、年々高齢化が進んでいます。2008年の、日本の農家の高齢者(65歳以上)の割合は、どれくらいですか。下の(ア)～(エ)の中から一つ選び、記号で答えなさい。

(ア) 約40%      (イ) 約50%      (ウ) 約60%      (エ) 約70%

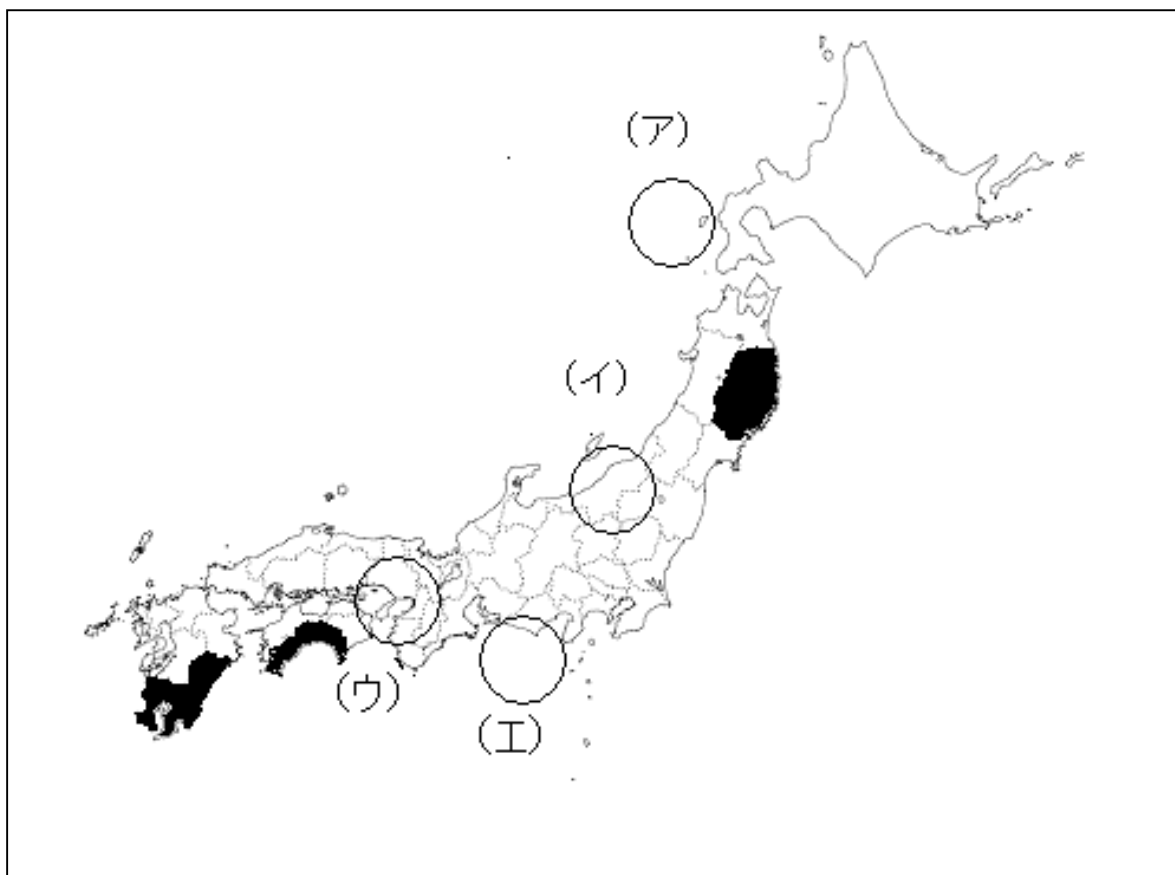
問9 下線部(G)について、地図2の中の塗りつぶしてある4つの県が生産高の上位を占めている野菜は何ですか。下の(ア)～(エ)の中から一つ選び、記号で答えなさい。

(ア) なす      (イ) ピーマン      (ウ) レタス      (エ) キャベツ

問 10 下線部(G)について、日本は、食料自給率が低い国で、食料輸入が多い国です。輸入先の第1位がアメリカ合衆国、第2位がカナダ、第3位がオーストラリアである農産物を下の(ア)～(エ)の中から一つ選び、記号で答えなさい。

(ア) だいず      (イ) 野菜      (ウ) 小麦      (エ) とうもろこし

地図2



2 次の各文章を読んで、あとの問いに答えなさい。

A 593年、聖徳太子が推古天皇の摂政となりました。彼は冠位十二階の制度や(1)憲法などを制定し、今日に残るさまざまな業績をのこしました。また彼は、現在では最も古い木造建築といわれる( 2 )などを建てました。

問1 下線部(1)について、この憲法について説明した文としてふさわしくないものを下の(ア)～(エ)の中から一つ選び、記号で答えなさい。

- (ア) 和を尊び、天皇への服従を説いたものです。
- (イ) 儒教や仏教などの考え方をもとにしてつくられたものです。
- (ウ) 天皇の地位を明らかにし、役人の心得を示すことを目的として制定されました。
- (エ) この法律は二十七カ条で構成されています。

問2 ( 2 )について、空欄に入る適語を下の(ア)～(エ)の中から一つ選び、記号で答えなさい。

- (ア) 東大寺                      (イ) 金剛峯寺                      (ウ) 法隆寺                      (エ) 清水寺

B 10世紀ころから、武士が台頭しはじめました。その中でも、源氏と平氏が地方での反乱をしずめ、武士の統率者になっていきました。平安時代の末期には保元の乱・(3)平治の乱がおこり社会は混乱しましたが、最終的にはこの乱に勝った平氏が政権をにぎりました。しかし、その後、平氏の政治に対して貴族や武士が不満を抱き、1185年壇ノ浦の戦いで平氏は(4)源頼朝の命を受けた源義経らに敗れることになります。

問3 下線部(3)について、このとき平治の乱で源義朝に勝利し、1167年に太政大臣になったのは誰ですか。適切なものを下の(ア)～(エ)の中から一つ選び、記号で答えなさい。

- (ア) 平清盛                      (イ) 源義家                      (ウ) 平将門                      (エ) 源義仲

問4 下線部(4)について、この人物を説明した文としてふさわしくないものを下の(ア)～(エ)の中から一つ選び、記号で答えなさい。

- (ア) 征夷大將軍の位につき、鎌倉幕府を開きました。
- (イ) 侍所、公文所、問注所という役所を作りました。
- (ウ) 一族の公暁に鎌倉の鶴岡八幡宮で殺されました。
- (エ) 御家人を守護や地頭に任命しました。

C 18世紀後半、日本近海にしきりに外国船があらわれましたが、幕府は通商を求めるロシアなどの要求を拒否しました。しかし、1853年浦賀にあらわれたペリーの要求で(5)条約を結ぶことになり、その中で薩摩藩や長州藩はしだいに倒幕運動を強めていきました。その結果、江戸幕府は(6)大政奉還をおこないました。

問5 下線部(5)に関して、1854年に締結された日米和親条約を説明した文として正しいものを下の(ア)～(エ)の中から一つ選び、記号で答えなさい。

- (ア) 神奈川・兵庫・箱館・長崎・新潟の5港の開港を決めました。
- (イ) アメリカ船への燃料の補給や食糧・水をあたえることを決めました。
- (ウ) 輸入品の関税率を日本が自由には決められないことになりました。
- (エ) 日本にいる外国人が罪をおかしても、日本では裁くことができないことが決まりました。

問6 下線部(6)に関して、大政奉還をおこなった江戸幕府最後の将軍は誰ですか。適切なものを下の(ア)～(エ)の中から一つ選び、記号で答えなさい。

- (ア) 徳川家光      (イ) 徳川綱吉      (ウ) 徳川吉宗      (エ) 徳川慶喜

D. 日本は1894年から行われた日清戦争に勝利して、(7)下関条約を結びましたが、その中で遼東半島を日本が得ることが決まるとロシアを中心とした三国が干渉し、結局日本はこの遼東半島を返還することとなりました。1904年に日本は(8)ロシアと戦争することとなります。この戦争にも勝利した日本はポーツマス条約を結びましたが賠償金は得られず国内には不満が高まることとなりました。

問7 下線部(7)に関して、この条約で清から譲り受けた場所として適切なものを下の(ア)～(エ)の中から一つ選び、記号で答えなさい。

- (ア) 台湾      (イ) 香港      (ウ) ベトナム      (エ) カンボジア

問8 下線部(8)に関して、この戦争の準備として、日本は1902年にある国と同盟を結んでいます。その国はどこですか。適切なものを下の(ア)～(エ)の中から一つ選び、記号で答えなさい。

(ア) 中国                      (イ) イギリス                      (ウ) フランス                      (エ) アメリカ

E. (9)1945年日本は敗戦を迎え、その後ながらく連合国軍最高司令官総司令部(GHQ)の指示を受けました。しかし、1951年サンフランシスコ講和会議で日本は翌年から独立国となりました。戦後苦しかった日本経済も、(10)1950年代半ばからの高度経済成長期を迎え世界有数の豊かな国になりました。

問9 下線部(9)に関して、連合国が日本に無条件降伏をすすめた宣言を日本は受け入れることにより、敗戦となりましたが、この宣言として適切なものを下の(ア)～(エ)の中から一つ選び、記号で答えなさい。

(ア) ポツダム宣言                      (イ) モスクワ宣言                      (ウ) ロンドン宣言                      (エ) ワシントン宣言

問10 下線部(10)に関して、高度経済成長期を説明した文としてふさわしくないものを下の(ア)～(エ)の中から一つ選び、記号で答えなさい。

- (ア) 国の経済的豊かさを示すG N Pはアメリカに次ぐ世界第2位になりました。
- (イ) アジアで初めてオリンピックが開かれました。
- (ウ) バブル景気により、土地や株の値段が上昇しました。
- (エ) 東海道新幹線や名神高速道路が開通しました。

3 次の文章は、朝日新聞の社説（2009 年 8 月 31 日付）の一部です。これを読み、下記の間に答えなさい。

小選挙区制のすさまじいまでの破壊力である。民意の劇的なうねりのなかで、①日本の政治に政権交代という新しいページが開かれた。それにしても衝撃的な結果だ。小選挙区で自民党の閣僚ら有力者が次々と敗北。②麻生首相は総裁辞任の意向を示した。（中略）

うねりの原因ははっきりしている。③少子高齢化が象徴する日本社会の構造変化、グローバル化の中での地域経済の疲弊。そうした激しい変化に対応できなかった自民党への不信だ。そして、世界同時不況の中で、社会全体に漂う閉塞（へいそく）感と将来への不安である。（中略）

やるべきことは三つある。第一は、政治と行政を透明化することである。与党になれば、官僚が握る政府の情報が容易に入手できるようになる。それを洗いざらい総点検し、国民に情報を公開してもらいたい。天下り、随意契約、官製談合、薬害、そして歴代の自民党政権がひた隠しにしてきた核兵器持ち込みに絡む日米密約……。かつて「④消えた年金」を暴いたように、隠されてきたさまざまな闇を徹底的に検証してもらいたい。

第二に、⑤政策を具体化するにあたって、間違った点や足りない点が見つかったら豹変（ひょうへん）の勇気をもつことだ。（中略）

第三に、国家戦略局、行政刷新会議をはじめとする政権の新しい意思決定システムを、人事態勢を含め着実に機能させることだ。

（以下省略）

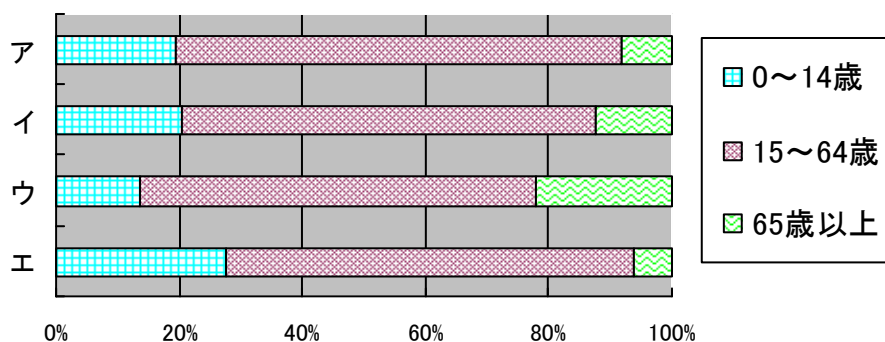
問 1 下線部①は、前日に行われた総選挙の結果を意味している。選挙結果及びその後の政治の動きに関する説明として正しいものを下の（ア）～（エ）の中から一つ選び、記号で答えなさい。

- （ア） 民主党が圧勝し、参議院で 300 議席以上を獲得した。
- （イ） 民主党・公明党・社会民主党による連立政権が発足した。
- （ウ） 選挙後行われた臨時国会で鳩山一郎氏が内閣総理大臣に指名された。
- （エ） 自民党は野党となり、新総裁として谷垣禎一氏が選ばれた。

問 2 下線部②について、麻生元首相のときに起きた出来事として正しいものを下の（ア）～（エ）の中から一つ選び、記号で答えなさい。

- |                |                      |
|----------------|----------------------|
| （ア） 北京オリンピック開催 | （イ） 定額給付金の支給開始       |
| （ウ） 洞爺湖サミットの開催 | （エ） オバマ大統領がノーベル平和賞受賞 |

問3 下線部③に関し、下記のグラフは、日本・中国・アメリカ・ブラジルの年齢構成の割合を示しています。日本にあたるものを下の（ア）～（エ）の中から一つ選び、記号で答えなさい。



（『日本国勢図会 2009／10年版』より）

問4 下線部④について、年金などの社会保障制度は日本国憲法のどのような権利を守るために行われているのか。正しいものを下の（ア）～（エ）の中から一つ選び、記号で答えなさい。

- （ア） 勤労権                      （イ） 環境権                      （ウ） 自由権                      （エ）生存権

問5 下線部⑤について、民主党はこの選挙の前にマニフェスト（政権公約）を発表しました。このマニフェストの内容としてもっともふさわしくないものを下の（ア）～（エ）の中から一つ選び、記号で答えなさい。

- （ア） 高速道路の原則無料化                      （イ） 子供手当での支給
- （ウ） 公務員の天下りの推進                      （エ） 国会議員の世襲<sup>せしゅう</sup>禁止