

平成 2 1 年度

《第 3 回試験》

# 社 会

時間 3 0 分， 5 0 点満点

## 受験上の注意

1. 解答用紙には，受験番号・氏名を記入してください。
2. 解答は，解答用紙の所定のところに記入してください。  
記入方法を誤ると得点になりません。
3. 試験終了の合図とともに解答用紙・問題用紙とも提出してください。

郁 文 館 中 学 校

問題は、次のページから始まります。

- 1 次の文章を読み、あとの各問いに答えなさい。

昨年8月、①アジアの地域では20年ぶりに、②中国の北京でオリンピックが開かれ、「③ひとつの世界、ひとつの夢」というスローガンのもと、中国国内及び④国際社会における、人々のつながりや友好を基本とし、世界の204の国と地域、約11000人のアスリートが参加し、28競技302種目で熱戦が繰り広げられました。しかし、このオリンピック開催にあたっては、チベット民族などの人権問題や大気汚染などの⑤環境問題、さらに、⑥農産物の有害物質などの食品安全問題など様々な問題点も話題になりました。

- 問1 下線部(1)について、1964年にアジアで最初のオリンピックが開かれた都市を下のア～エの中から一つ選び、記号で答えなさい。

(ア) 大阪      (イ) 東京      (ウ) ソウル      (エ) 長野

- 問2 下線部(2)は、世界一の人口を誇ります。人口は約何人か、下のア～エの中から一つ選び、記号で答えなさい。

(ア) 9億人      (イ) 11億人      (ウ) 13億人      (エ) 15億人

- 問3 下線部(2)と日本の繋がり深く、現在でも盛んに貿易が行われています。次に上げる品目の中で、中国からの輸入が1位(2005年度)の品目を下のア～エの中から一つ選び、記号で答えなさい。

(ア) 木材      (イ) 鉄鉱石      (ウ) 小麦      (エ) 野菜

- 問4 下線部(3)を実現させるために国際連合はつくられましたが、その本部はどこにありますか。あてはまるものを下のア～エの中から一つ選び、記号で答えなさい。

(ア) ニューヨーク      (イ) ワシントン      (ウ) ジュネーブ      (エ) パリ

- 問5 下線部(4)のように、地域での繋がりが注目を集めています。アジアの中では、東南アジアの繋がりが注目をされています。下の語群の中で、「東南アジア諸国連合」を表すものをア～エの中から一つ選び、記号で答えなさい。

(ア) APEC      (イ) ASEAN      (ウ) ODA      (エ) EU

- 問6 下線部(5)は日本でも問題になっています。その中でも公害問題として、日本で最初に話題になった場所を、次のページの地図中ア～エの中から一つ選び、記号で答えなさい。

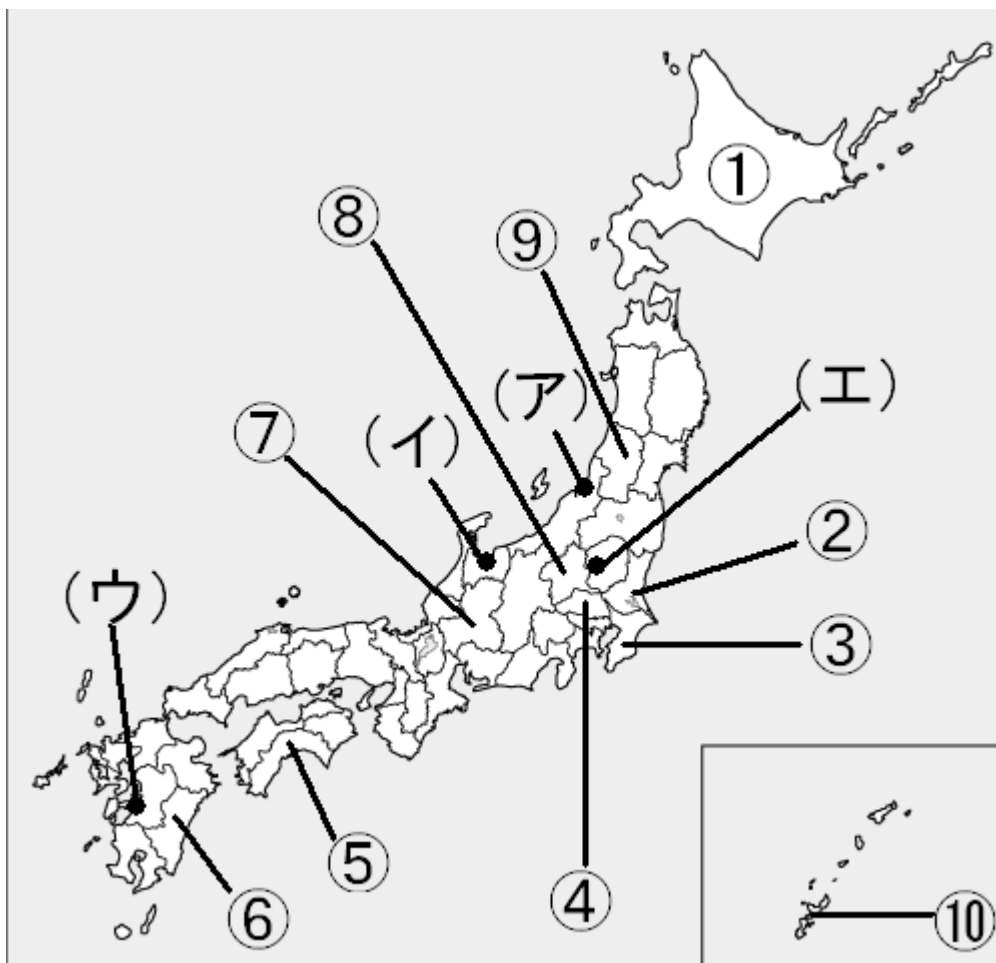
問7 下線部(5)のひとつに、地球温暖化があります。最近夏の気温が異常に高くなっており、2007年8月、74年ぶりに最高気温の記録が塗り替えられました。その気温を記録した都市が2カ所あります。その都市のある県の場所を2カ所、下の地図中①～⑩の中から選び、記号で答えなさい。

問8 下線部(6)について、下の表はさつまいも、キャベツ、日本なしの生産高の割合の上位5位の都道府県を表しています。(A)(B)にあてはまる県の場所をそれぞれ地図中の①～⑩の中から一つずつ選び、記号で答えなさい。

2006年日本の生産高の割合(単位 %)

さつまいも			キャベツ			日本なし		
1位	鹿児島県	40.6	1位	愛知県	18.4	1位	B	12.0
2位	A	16.1	2位	群馬県	15.9	2位	A	10.0
3位	B	13.1	3位	B	9.5	3位	鳥取県	8.2
4位	宮崎県	7.1	4位	A	6.1	4位	福島県	7.7
5位	徳島県	2.8	5位	神奈川県	6.0	5位	長野県	6.7

「農林水産省統計による」



2 郁文館夢学園での生活について、生徒と教師の対話文A～Dに関する問1～10に答えなさい。

A

生徒：こんにちは。

教師：こんにちは。よくあいさつができていますね。あいさつや礼儀は人間関係をきずく上で大変重要なものです。

生徒：昔の人も、礼儀を気にしていたのですか。

教師：もちろんです。古くは、①邪馬台国で、位の高い人にはひざまづいてお辞儀していたという記録が残っています。

問1 下線部①について、時代区分でみると何時代の出来事と言えますか。下の（ア）～（エ）の中から一つ選び、記号で答えなさい。

（ア）鎌倉時代      （イ）弥生時代      （ウ）縄文時代      （エ）奈良時代

問2 下線部①の内容が記述されている歴史書を、下の（ア）～（エ）の中から一つ選び、記号で答えなさい。

（ア）『魏志』倭人伝      （イ）『古事記』      （ウ）『漢書』地理志      （エ）『日本書紀』

B

生徒：クラブに入部したら、たくさんの先輩が歓迎してくれました。

教師：そうですか。それは良かったですね。ただ、先輩は友達とは違います。先輩にはきちんとした言葉づかいをしましょう。

生徒：はい。でも、尊敬語というのは、どうやってできたのですか。

教師：もともと尊敬語は、②平安時代の祝詞（神に対する言葉）で用いられたと、当時の記録には残っています。古典の授業でもたくさん扱うから、正しい日本語を学んでくださいね。③『源氏物語』など、難しい文章にも挑戦してごらん。

問3 下線部②について、平安時代に当てはまらないものを、下の（ア）～（エ）の中から一つ選び、記号で答えなさい。

（ア）院政が開始される  
（イ）坂上田村麻呂が征夷大將軍になる  
（ウ）墾田永年私財法が出される  
（エ）平清盛が太政大臣になる

問4 下線部③について、『源氏物語』と同時期の作品を、下の（ア）～（エ）の中から一つ選び、記号で答えなさい。

（ア）『徒然草』      （イ）『伊勢物語』      （ウ）『方丈記』      （エ）『万葉集』

問5 下線部③について、『源氏物語』の作者を、下の（ア）～（エ）の中から一つ選び、記号で答えなさい。

（ア）清少納言      （イ）吉田兼好      （ウ）紀貫之      （エ）紫式部


C

生徒：先生が今欲しいものは何ですか？

教師：「和」を感じさせるものがほしいです。私は弓道をたしなんでいたので、弓が欲しいと思っています。下の図①『男衾<sup>おぶすま</sup>三郎絵巻』に描かれているように弓の練習をしたいと思っています。

生徒：僕も弓道部に入りたいです。

教師：郁文館には「和」を感じさせるものとして図②のような「茶室」もあります。将来は茶道部とか華道部とか出来るのでしょうね。



図①



図②

問6 図①の『男衾三郎絵巻』は13世紀に描かれたものですが、この時代に当てはまらないものを下の（ア）～（エ）の中から一つ選び、記号で答えなさい。

（ア）元寇      （イ）徳政令発布      （ウ）執権政治      （エ）鉄砲伝来

問7 図②の部屋では「お茶をたてる」ことが行われる。平安時代に伝来し、鎌倉時代には薬用として用いられた「お茶」を「茶道」として大成した人物としてふさわしいものを下の（ア）～（エ）の中から一つ選び、記号で答えなさい。

（ア）千利休           （イ）足利義満           （ウ）織田信長           （エ）井原西鶴

D

生徒：先生、ご結婚はまだですか？

教師：近々することになりそうです。

生徒：おめでとうございます。僕も先生を見習って早く結婚したいです。

教師：結婚の手段としては恋愛結婚や見合い結婚がありますね。一般的に見合いと言われているものは戦国時代から④江戸時代にかけてうまれたものです。昔の恋愛結婚や見合い結婚の例としては、⑤豊臣秀吉と結婚したおね（北政所）や江戸時代末期の⑥近藤勇と松井つねなどがあげられます。

問8 下線部④について、江戸時代に当てはまらないものを、下の（ア）～（エ）の中から一つ選び、記号で答えなさい。

（ア） 武家諸法度が出される  
（イ） 寛政の改革が行われる  
（ウ） 異国船（外国船）打払令が出される  
（エ） 応仁の乱が起こる

問9 下線部⑤について、豊臣秀吉の業績として正しくないものはどれですか。下の（ア）～（エ）の中から一つ選び、記号で答えなさい。

（ア） 桶狭間の戦いで今川義元を破る  
（イ） 刀狩の実施  
（ウ） 太閤検地の実施  
（エ） 朝鮮出兵

問10 下線部⑥について、近藤勇が所属した組織を、下の（ア）～（エ）の中から一つ選び、記号で答えなさい。

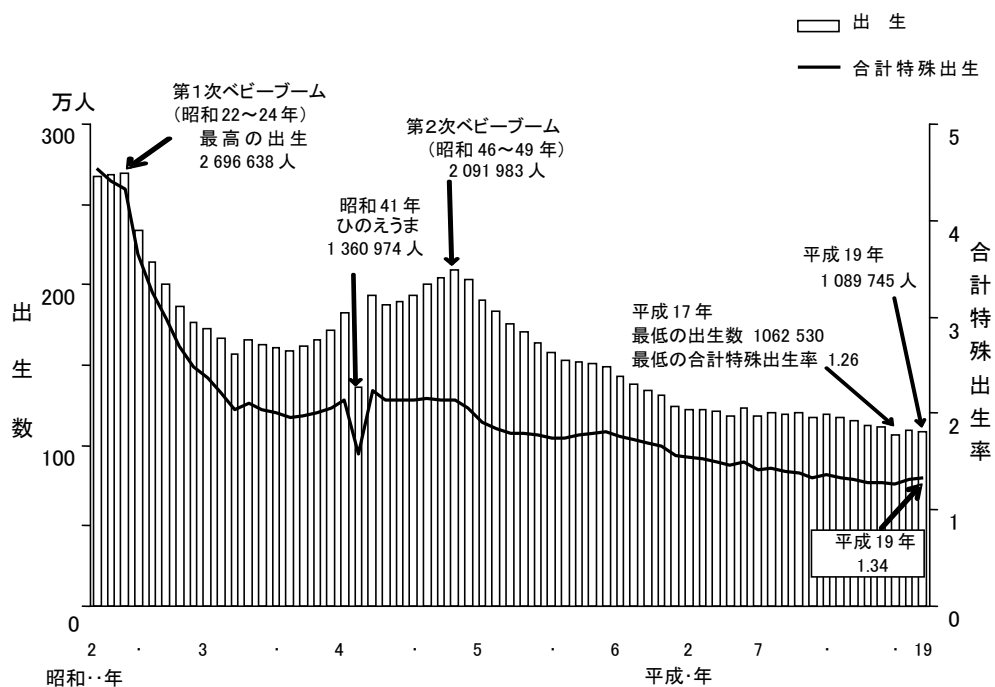
（ア） 白虎隊           （イ） 赤報隊           （ウ） 彰義隊           （エ） 新撰組

3 次の文章を読み、下記のグラフを参考にしながら、次の問いに答えなさい。

日本の人口は 2005 年の国勢調査で 1 億 2777 万人でした。しかし、【グラフ】を参考にしても、2006 年の合計特殊出生率は 1.34 と決して高いものではありませんでした。このような状況は 1 化と呼ばれ、多くの問題をはらんでいます。また、医療の発展などに伴って 2 化と呼ばれる問題も同時に起こっています。

このような状況の中、日本では合計特殊出生率が 2.08 なければ現在の人口が維持できないといわれています。この状態が続くと 50 年後の 2055 年には、日本の人口が 8993 万人になるといわれています。

【グラフ】



出典に関しては、設問の解答につながるため省略する。

問1 上記の文章と【グラフ】から読み取れる社会問題の名称が空欄 1 ・ 2 に入ります。

それぞれにあてはまる語句の組み合わせとして適当なものを、下の (ア) ～ (エ) の中から一つ選び、記号で答えなさい。

- |           |         |           |         |
|-----------|---------|-----------|---------|
| (ア) 1. 砂漠 | 2. 高齢   | (イ) 1. 少子 | 2. ドーナツ |
| (ウ) 1. 過疎 | 2. ドーナツ | (エ) 1. 少子 | 2. 高齢   |

問2 2005 年現在では人口 1 億 2777 万人の内、社会の働き手 (15 歳～64 歳) が約 66%、65 歳以上のお年寄りが約 20%でした。結果、社会の働き手がお年寄り 1 人を約 3.3 人で支えていることになります。空欄 1 ・ 2 の進行によって、これが 2055 年になると人口が 8993 万人になり、お年寄りが全体の約 40%、社会の働き手が約 51%になります。2055 年では、お年寄り 1 人当たりを何人の働き手で支えることになりますか。小数点第二位を四捨五入した上で、解答欄に小数点第一位までの数字を書き入れなさい。



問3 下線部の「合計特殊出生率」とは何を表す数字ですか。下の(ア)～(エ)の中から一つ選び、記号で答えなさい。

- (ア) 一人の女性が生涯で産む子どもの人数
- (イ) 100ヘクタール内の赤ちゃんの人数
- (ウ) 人口に比例した新生児数の比率
- (エ) 人口100人当たりの赤ちゃんの人数。

問4 グラフ中にある第1次ベビーブームの頃に生まれた世代をなんと呼びますか。下の(ア)～(エ)の中から一つ選び、記号で答えなさい。

- (ア) ロスト・ジェネレーション
- (イ) 団塊<sup>だんかい</sup>の世代
- (ウ) アダルト・チルドレン
- (エ) 万博<sup>ばんぱく</sup>の世代

問5 空欄 1 に歯止めをかけるためにはどのような政策が必要ですか。下の(ア)～(エ)の中から適当でないものの一つを選び、記号で答えなさい。

- (ア) 女性が安心して働けるよう保育所などを増やす。
- (イ) 子どもが学校に通うお金の一部を国が援助<sup>えんじょ</sup>する。
- (ウ) 育児<sup>きよつか</sup>休暇などを取りやすくする。
- (エ) 労働時間を延長し、高賃金を与える。