

平成18年度

《第2回試験》

社 会

時間30分，50点満点

受験上の注意

1. 解答用紙には，受験番号・氏名を記入してください。
2. 解答は，解答用紙の所定のところに記入してください。
記入方法を誤ると得点になりません。
3. 試験終了の合図とともに，解答用紙・問題用紙とも提出してください。

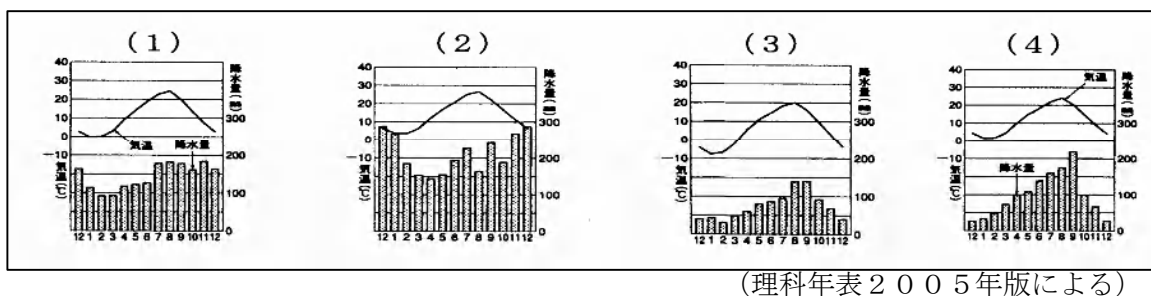
郁 文 館 中 学 校

1 次の文章を読んで、下の各問いに答えなさい。

日本は四方を海に囲まれ、①漁業のさかんな国です。また②一年を通して降水に恵まれているので、③農業もさかんです。その降水は列島の中央部に連なる④山を流れ、⑤短く急な川が土砂を運び、⑥海岸線に狭い平野を作ります。日本は、⑦自然に恵まれた国ですが、平地は海からの高さが低く、しばしば洪水をもたらすことがあります。また、⑧地震や火山、⑨台風などの自然災害が多いことでも有名です。

問1 下線部①について、2003年の水揚げ量日本一の漁港で、特にかつおの水揚げがさかんである港を3ページの地図中の（ア）～（エ）から1つ選び、記号で答えなさい。

問2 下線部②について、次の（1）～（4）のグラフの中から地図中Aの都市のものを1つ選び、記号で答えなさい。



問3 下線部③について、下の表にあげている農作物は、A・Bそれぞれの県で日本一の生産をあげているものです。A・Bそれぞれの県をあらわしていますか。3ページの地図中の（1）～（8）から1つ選び、記号で答えなさい。


県名	農作物		
A	かんぴょう	いちご	にら
B	い草	すいか	トマト

問4 下線部④について、下の語群は、山脈とそこに流れる川の組み合わせです。正しい組み合わせを下の（ア）～（エ）から1つ選び、記号で答えなさい。

（ア）赤石山脈と木曽川	（イ）出羽高地と最上川
（ウ）越後山脈と阿賀野川	（エ）日高山地と石狩川

問5 下線部⑤について、上流部ではダムを建設して、洪水の防止や様々な用水として利用していますが、水力発電も欠かすことは出来ません。下のグラフは日本の2003年の総発電量の資料です。グラフで水力発電の割合を示しているものを下の（ア）～（エ）

から1つ選び、記号で答えなさい。



(2004年版 電気事業連合会「電気事業便覧」による)

問6 下線部⑥について、日本の海岸線の総延長は、日本列島の全長約3500kmに対して約何倍あるか、下の(ア)～(エ)から1つ選び、記号で答えなさい。

(ア) 7倍	(イ) 10倍	(ウ) 12倍	(エ) 15倍
--------	---------	---------	---------

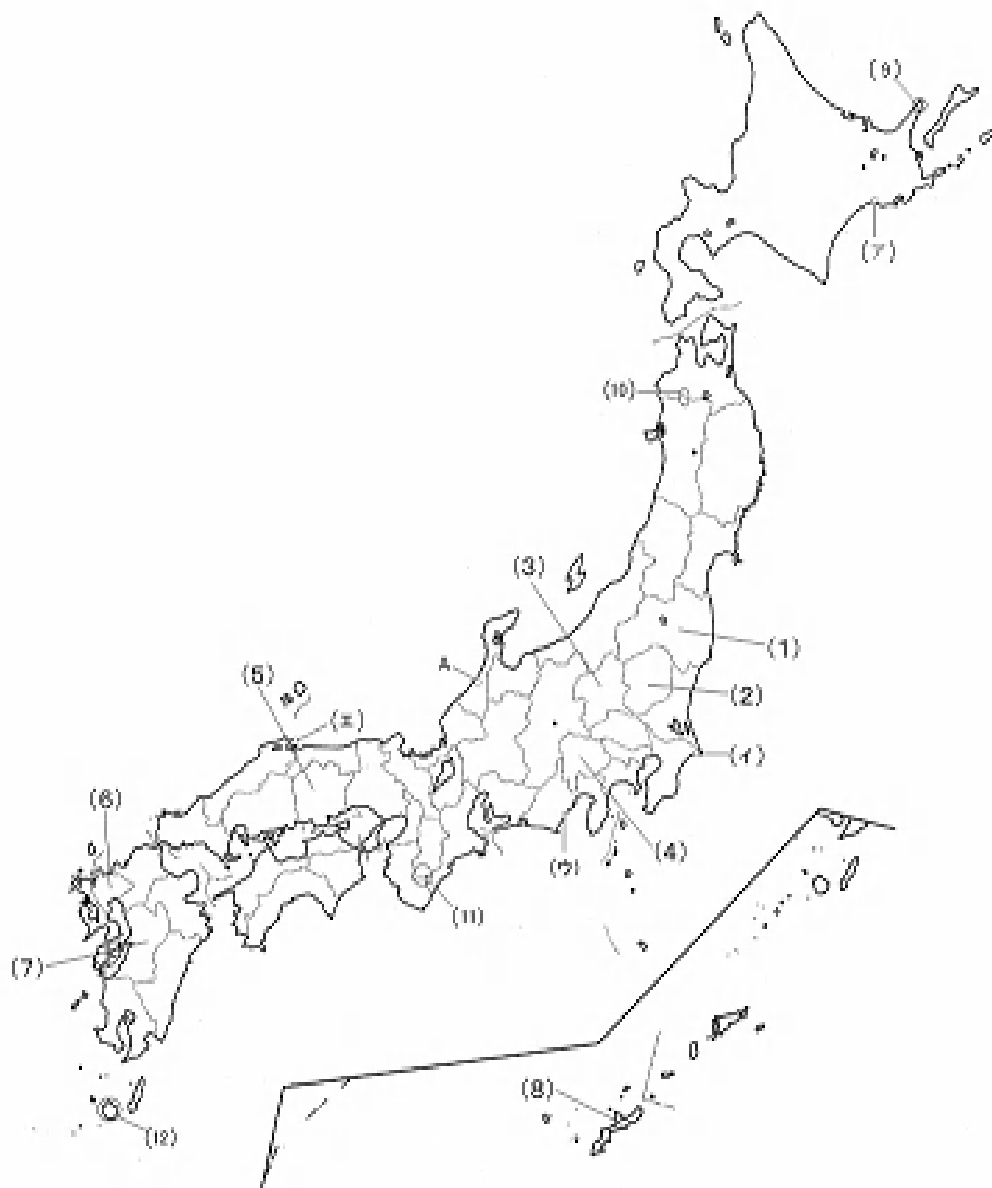
問7 下線部⑦について、美しい自然を守っていくために、国際的な協力・援助のもと保護していくことを目的に、1993年の白神山地、屋久島に次いで2005年に世界自然遺産に登録された場所を3ページの地図中の(9)～(12)から1つ選び、記号で答えなさい。

問8 下線部⑧は、様々な災害を引き起こします。下にあげる災害のうち、地震によるものではないものはどれですか。下の(ア)～(エ)から1つ選び、記号で答えなさい。

(ア) 家屋倒壊	(イ) 津波	(ウ) 土砂崩れ	(エ) 高潮
----------	--------	----------	--------

問9 下線部⑨と同じように強風と豪雨により多くの被害をもたらすハリケーンがアメリカにも上陸します。昨年の9月に相次いでアメリカのメキシコ湾沿岸に大きな被害をもたらしたハリケーンのうち、9月後半に発生したハリケーンの名前を、下の(ア)～(エ)から1つ選び、記号で答えなさい。

(ア) カトリーナ	(イ) ニューオーリンズ	(ウ) リタ	(エ) ダムレイ
-----------	--------------	--------	----------



② 次のAからEの文は、日本における仏教の展開について述べたものです。それぞれの文章を読んで、下の各問いに答えなさい。

A (①) 天皇は、仏教による社会の安定を願って、各地に国分寺・国分尼寺を建てさせ、また②東大寺に大仏を造らせました。

問1 (①) に当てはまる名前を、下のア～エから1つ選び、記号で答えなさい。

ア. 天智天皇	イ. 白河天皇	ウ. 聖武天皇	エ. 後醍醐天皇
---------	---------	---------	----------

問2 ②についての説明として正しいものを、下のア～エから1つ選び、記号で答えなさい。

- ア. 世界最古の木造建築物として、世界遺産に登録されている。
- イ. 南大門の金剛力士像は鎌倉時代に作られた。
- ウ. 阿弥陀如来をまつた鳳凰堂が有名である。
- エ. 正倉院のかべは権現造と呼ばれる建築様式でつくられている。

B ③奈良県の飛鳥地方で栄えた仏教文化のにない手となったのは、④聖徳太子など大王の一族や、蘇我氏などの有力な豪族でした。

問3 ③に関して、ここは昔何と呼ばれていましたか。下のア～エから1つ選び、記号で答えなさい。

ア. 大和国	イ. 出雲国	ウ. 河内国	エ. 近江国
--------	--------	--------	--------

問4 ④の人物について述べた次の文章のなかで、間違っているものを、下のア～エから1つ選び、記号で答えなさい。

- ア. 冠位十二階や十七条の憲法を定めた。
- イ. 遣隋使として小野妹子たちを中国におくった。
- ウ. 仏教を深く信仰し、法隆寺などを建てた。
- エ. 壬申の乱に勝利して権力をにぎった。

C 中国で学んだ⑤最澄や空海は、それまでの仏教とは違って山の中の寺で修行することを説きました。

問5 ⑤に関して、彼らが開いた宗派の組み合わせとして正しいものを、下のア～エから1つ選び、記号で答えなさい。

- | | |
|-----------|--------|
| ア. 最澄…天台宗 | 空海…真言宗 |
| イ. 最澄…真言宗 | 空海…曹洞宗 |
| ウ. 最澄…浄土宗 | 空海…天台宗 |
| エ. 最澄…天台宗 | 空海…律宗 |

- D 鎌倉時代には、⑥さまざまな宗派が生まれ、武士や庶民の間に広まりました。特に武士の間には禅宗が流行し、室町時代に（ ⑦ ）が建てた銀閣も、禅宗の影響を受けています。

問6 ⑥に関して、鎌倉時代の新仏教についての文章として正しいものを、下のア～エから1つ選び、記号で答えなさい。

- ア. 法然は、阿弥陀仏を信じ、念仏をとなえることで成仏できると説いた。
- イ. 親鸞は、法華経を選び、浄土真宗を開いた。
- ウ. 道元は、ひたすら座禅することによってさとりを得られると説き、時宗を開いた。
- エ. 一遍は臨済宗を開き、踊り念仏によって布教した。


問7 （ ⑦ ）に当てはまる人名を、下のア～エから1つ選び、記号で答えなさい。

- ア. 豊臣秀吉 イ. 藤原道長 ウ. 足利義政 エ. 藤原清衡

- E ⑧右の写真の人物は⑨10世紀中ごろの僧で、阿弥陀仏への信仰を説き、「市聖（いちのひじり）」と呼ばれました。

問8 ⑧の人物の名前として正しいものを、下のア～エから1つ選び、記号で答えなさい。

- ア. 空也 イ. 鑑真 ウ. 行基 エ. 良寛



問9 ⑨に関して、10世紀とは、いつからいつまでですか。
下のア～エから1つ選び、記号で答えなさい。

- ア. 900年から999年まで
- イ. 901年から1000年まで
- ウ. 1000年から1099年まで
- エ. 1001年から1100年まで

問10 AからEの文章を時代順に並べかえると、どのような順番になりますか。下のア～エから1つ選び、記号で答えなさい。

- ア. A → B → C → E → D
イ. A → E → B → D → C
ウ. B → A → E → D → C
エ. B → A → C → E → D

3 次の文章を読み、下の各問いに答えなさい。

2005年、日本は太平洋戦争終結後60周年を迎えました。この戦争は、日本と連合国の双方にとって、大変痛ましい不幸な出来事でした。1945年広島と長崎に原爆を投下された日本は、(①)月(②)日ついに敗北を認め③ポツダム宣言を受け入れました。④太平洋戦争の悲惨さを後世の人々に伝え語り継ぎ、平和な社会を築いていくことは、我々現代社会を生きる者の使命でもあります。

戦後、日本は連合国総司令部の指導下で、戦前の帝国主義・軍国主義・天皇主権を廃止して、民主主義国家をつくりあげていきました。そして、⑤いくつかの大改革を行い、1955年からは⑥高度経済成長といわれる世界に例を見ないほどの成長率を実現しました。

問1 文章中の(①)・(②)に当てはまる数字を記入しなさい。

問2 下線部③について、ポツダム宣言の内容として、誤っているものを下のア～エから1つ選び、記号で答えなさい。

- ア. 日本は無条件降伏をする。
- イ. 戦争犯罪人に対して、厳重な処罰を与える。
- ウ. 日本国の主権は、本州、北海道、九州、四国と連合国の定める諸小島に限る。
- エ. 日本の軍隊は解体し、新たに自衛隊を組織する。

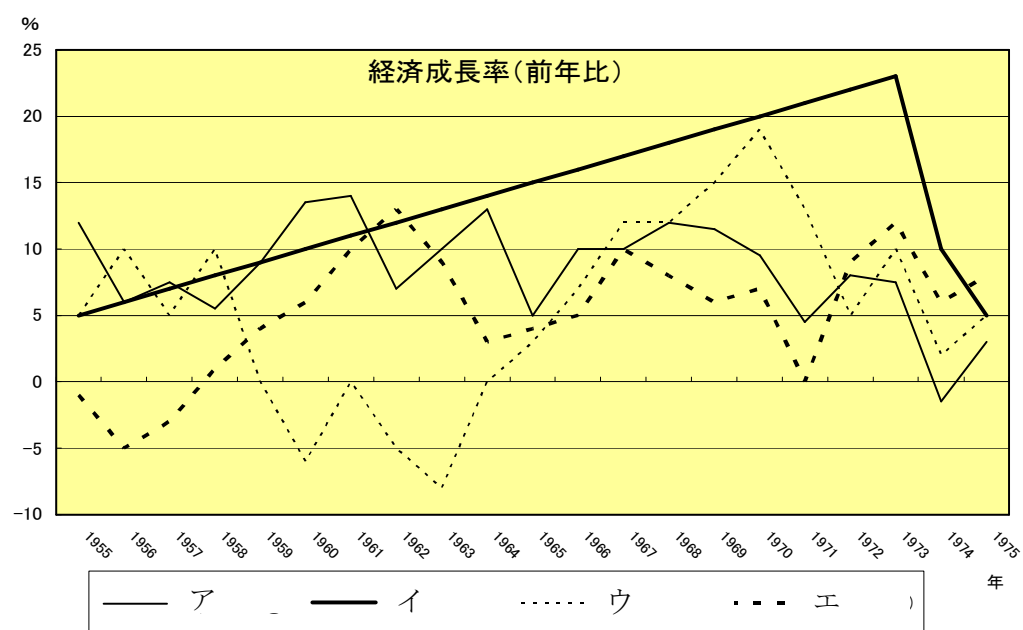
問3 下線部④について、太平洋戦争中の国民生活の記述で誤っているものを下のア～エから1つ選び、記号で答えなさい。

- ア. 日本国内の労働力不足を埋めるため、女子学生も工場で働かなければならなかった。
- イ. 食料や生活必需品などが品不足になり、配給制になった。
- ウ. 空襲を避けるために、都市部に住む子供達は地方への疎開を義務づけられ、親と離れて生活しなければならなかった。
- エ. 軍艦や武器をつくるために、日常生活に必要な鉄製のナベやヤカンも国に差し出させた。

問4 下線部⑤について、これらの大改革に当てはまらないものを次のア～エから1つ選び、記号で答えなさい。

- ア. 土地を持たない農民をなくし、すべての農民は農地を所有することとなった。
- イ. 株式を所有することによって多くの子会社を支配することを禁止した。
- ウ. 労働者が団結し組合を作ることを認めた。
- エ. 25歳以上の女子にも選挙権が与えられた。

問 5 下線部⑥について、高度経済成長期の経済成長率を示すグラフを次のア～エから 1 つ選び、記号で答えなさい。



—以上—