

1 郁文館中学校の社会科の授業では、地理や歴史、公民に関する様々なテーマに関して図書館等を利用して調べ、内容をまとめ、発表するという「調べ学習」があります。ひろゆき君、まさる君、ひろし君の3人は、調べ学習のテーマとして、日本の各地方の特徴について調べ、発表を行いました。ひろゆき君、まさる君、ひろし君の発表内容を確認し、下記の各問に答えなさい。

ひろゆき君

北海道について

日本列島の最北にある北海道は、7万km<sup>2</sup>を超える、日本最大の①広大な土地の都道府県です。寒冷な気候ですが、②農作物生産が盛んな事で有名で、日本第一位の生産物が多くあります。農業以外にも、水産業も盛んです。近海には多くの大陸棚があり、③暖流と寒流が流れる世界的な好漁場となっています。しかし、ロシアとの間に④北方領土問題を抱えており、今後も周辺の水産資源について協議が必要です。

問1 下線部①について、都道府県の面積において、北海道は第一位ですが、二位から五位にあてはまるものとして誤っているものを、下の(ア)～(エ)の中から一つ選び記号で答えなさい。

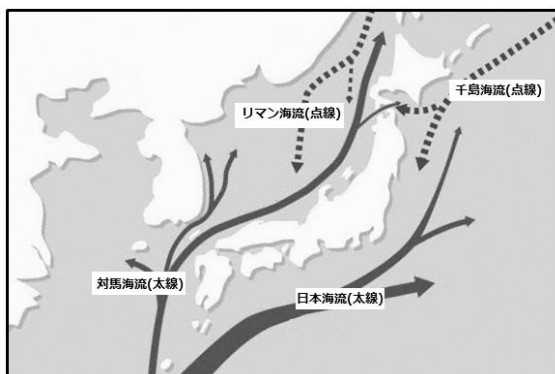
(ア) 岩手県      (イ) 長野県      (ウ) 新潟県      (エ) 鹿児島県

問2 下線部②について、日本での生産量第一位が北海道ではないものを、下の(ア)～(エ)の中から一つ選び記号で答えなさい。

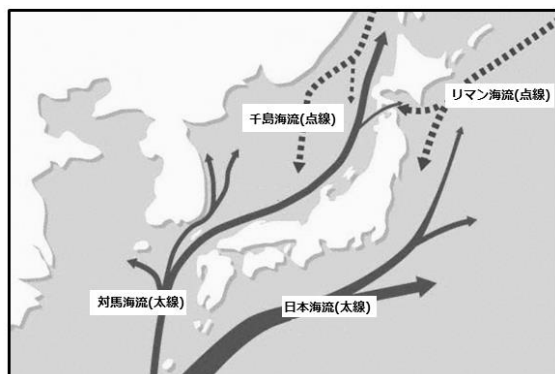
(ア) にんじん      (イ) キャベツ      (ウ) たまねぎ      (エ) 小麦

問3 下線部③について、日本をとりまく暖流・寒流の図としてふさわしいものを、下の（ア）～（エ）の中から一つ選び記号で答えなさい。

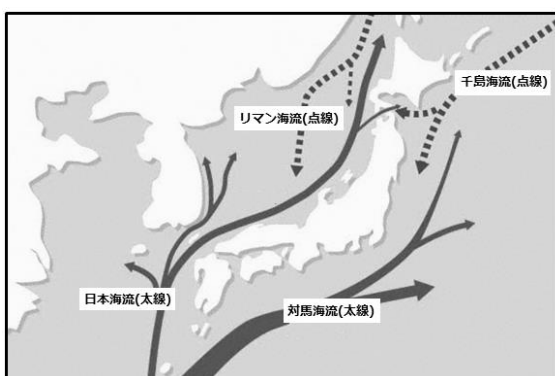
（ア）



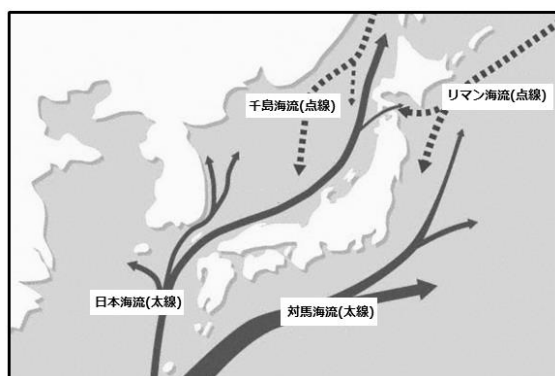
（イ）



（ウ）



（エ）



問4 下線部④について、北方四島としてふさわしくないものを、下の（ア）～（エ）の中から一つ選び記号で答えなさい。

（ア）択捉島

（イ）国後島

（ウ）色丹島

（エ）樺太島

まさる君

中部地方について

本州のほぼ中央に位置する中部地方は、自然環境が厳しく、⑤「日本アルプス」と呼ばれる3つの山脈がある地方です。長野県の岡谷や諏訪では、かつては製糸業が盛んでしたが、第二次世界大戦後はカメラや時計などの⑥精密機械工業が発展しています。⑦冬の寒さが厳しい北陸の地域では、古くから伝統工芸が栄えています。東海地方に位置する愛知県は、中京工業地帯の中心であり、自動車生産が盛んな地域です。

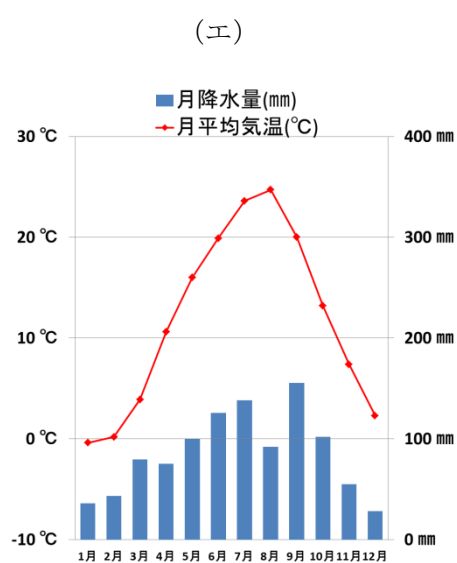
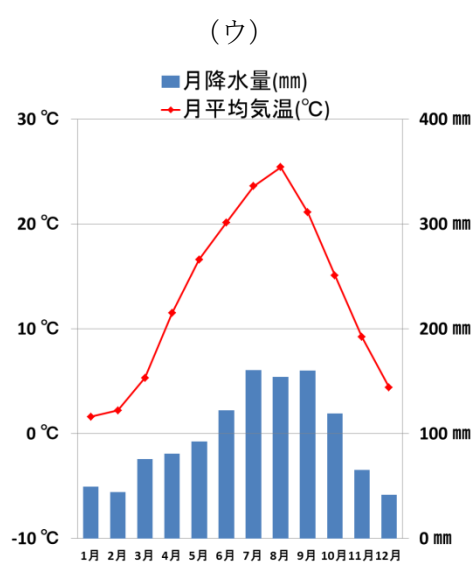
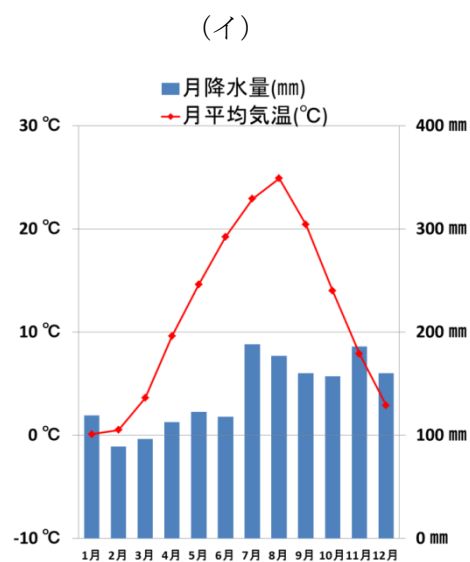
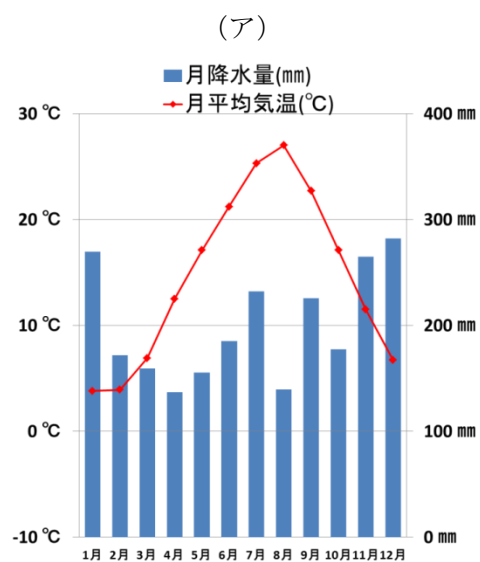
問5 下線部⑤について、長野県・岐阜県・新潟県・富山県にまたがる山脈名としてふさわしいものを、下の（ア）～（エ）の中から一つ選び記号で答えなさい。

（ア）木曽山脈      （イ）赤石山脈      （ウ）飛騨山脈      （エ）越後山脈

問6 下線部⑥について、精密機械工業が盛んな理由としてふさわしいものを、下の（ア）～（エ）の中から一つ選び記号で答えなさい。

- （ア）空気や水がきれいであり、労働力が豊富であったため。
- （イ）政府が海外から企業を誘致する目的で、経済特区を長野県に制定したため。
- （ウ）スイスから多くの技術者を招き、スイス人が生産を行っているため。
- （エ）精密機械工業に必要であるレアメタルが豊富に採取できる県であるため。

問7 下線部⑦について、下の(ア)～(エ)は、石川県・長野県・福島県・秋田県の雨温図です。石川県の雨温図としてふさわしいものを、下の(ア)～(エ)の中から一つ選び記号で答えなさい。



(出典：気象庁データをもとに作成)

ひろし君

九州地方について

火山や温泉が多い九州地方には、今でも火山の活動が活発な阿蘇山⑧や桜島があり、観光業が栄えています。火山の恩恵は、農業にも活かされており、鹿児島県にはシラス台地⑨が広がっています。工業面では、四大工業地帯であった北九州工業地帯が衰退していますが、1970年代以降にI C(集積回路)等の電子部品生産⑩が盛んになっています。

問8 下線部⑧について、阿蘇山はカルデラという地形から成り立ちますが、この説明文としてふさわしいものを、下の(ア)～(エ)の中から一つ選び記号で答えなさい。

- (ア) 山の土砂崩れにより形成されたくぼ地
- (イ) 山を人為的に掘り下げて形成されたくぼ地
- (ウ) 火山活動により山頂付近が陥没して形成されたくぼ地
- (エ) 大地震による陥没により形成されたくぼ地

問9 下線部⑨について、シラス台地における農業生産物として誤っているものを、(ア)～(エ)の中から一つ選び記号で答えなさい。

- (ア) さつまいも      (イ) 茶      (ウ) 米      (エ) かぼちゃ

問10 下線部⑩について、電子部品工場が盛んなアメリカのシリコンヴァレーにちなんで、九州では特別な呼称があります。その呼称としてふさわしいものを、下の(ア)～(エ)の中から一つ選び記号で答えなさい。

- (ア) シリコンプレーン      (イ) シリコンデザート
- (ウ) シリコンロード      (エ) シリコンアイランド

2 次のA～Eの文章を読んで、下記の各問に答えなさい。

A 足利義満は、①南北に分かれていた朝廷を一つにまとめて影響力を高めるとともに、京都を中心に各地の武士を統率しようとした。また、②中国との間に勘合貿易を開始し、多くの富を得ました。

問1 下線部①について、足利尊氏に対抗して南朝をたてた天皇としてふさわしい人物を、下の（ア）～（エ）の中から一つ選び記号で答えなさい。

（ア）後醍醐天皇      （イ）称徳天皇      （ウ）後鳥羽天皇      （エ）後白河天皇

問2 下線部②について、当時の中国の国名としてふさわしいものを、下の（ア）～（エ）の中から一つ選び記号で答えなさい。

（ア）元      （イ）唐      （ウ）宋      （エ）明

B ③は政治制度の立て直しを図って都をうつし、また東北遠征を行って天皇の権力強化を図りました。しかし、その後は次第に④藤原氏が他の貴族を退け、摂政・関白をはじめとする重要官職を独占するようになりました。

問3 空欄③について、この中に当てはまる天皇としてふさわしいものを、下の（ア）～（エ）の中から一つ選び記号で答えなさい。

（ア）天武天皇      （イ）桓武天皇      （ウ）聖武天皇      （エ）文武天皇

問4 下線部④ともっとも関係の深い歌としてふさわしいものを、下の（ア）～（エ）の中から一つ選び記号で答えなさい。

（ア）大君は 神にしませば 天雲の いかづちの上に いおりせるかも  
（イ）この世をば わが世とぞ思う 望月の かけたることも なしとおもえば  
（ウ）玉の緒よ 絶えなば絶えね ながらえば 忍ぶことの 弱りもぞする  
（エ）東風吹かば においおこせよ 梅の花 主なしとて 春を忘るな

C ⑤8世紀の初め、都が平城京にうつされ、天皇を中心とする政治制度が整えられました。また、仏教による国家の安泰を願って、諸国に⑥国分寺を設けられるとともに、奈良の都には大仏が造立されました。

問5 下線部⑤について、「8世紀」とは、西暦ではいつからいつまでですか。ふさわしいものを、下の（ア）～（エ）の中から一つ選び記号で答えなさい。

- |              |              |
|--------------|--------------|
| （ア）700年～799年 | （イ）800年～899年 |
| （ウ）701年～800年 | （エ）801年～900年 |

問6 下線部⑥について、全国の国分寺の中心とされた寺としてふさわしいものを、下の（ア）～（エ）の中から一つ選び記号で答えなさい。

- |        |        |         |        |
|--------|--------|---------|--------|
| （ア）東大寺 | （イ）法隆寺 | （ウ）唐招提寺 | （エ）延暦寺 |
|--------|--------|---------|--------|

D ⑦徳川幕府は成立当初から様々な形で大名の力を抑えるとともに、広大な所領を背景に諸大名に対して優位に立っていました。また、天皇・公家に対しても規制を加え、⑧幕末まで朝廷を厳しく統制しました。

問7 下線部⑦について述べた次の文章のうち誤っているものを、下の（ア）～（エ）の中から一つ選び記号で答えなさい。

- |                                |
|--------------------------------|
| （ア）一国一城令により、居城以外の城はすべて壊させた。    |
| （イ）一部の所領を幕府に預ける徳政令を発した。        |
| （ウ）土木工事に際し、お手伝い普請を命じた。         |
| （エ）江戸と国元を1年ごとに往復させる参勤交代を義務付けた。 |

問8 下線部⑧について、江戸時代はおよそ何年続きましたか。ふさわしいものを、下の（ア）～（エ）の中から一つ選び記号で答えなさい。

- |          |          |          |          |
|----------|----------|----------|----------|
| （ア）約150年 | （イ）約250年 | （ウ）約350年 | （エ）約450年 |
|----------|----------|----------|----------|

E 明治時代に入り、富国強兵・殖産興業がすすめられましたが、政治の近代化も図られ、1889年には日本初の近代憲法である⑨大日本帝国憲法が制定され、翌年には国会が開設されました。

問9 下線部⑨について、この憲法は欧米諸国の憲法を参考にして制定されましたが、もっとも強く影響を受けたのはどこの国の憲法ですか。ふさわしいものを、下の(ア)～(エ)の中から一つ選び記号で答えなさい。

(ア) ドイツ      (イ) フランス      (ウ) イギリス      (エ) アメリカ

問10 A～Eの文章を時代順に並べたものとして最もふさわしいものを、下の(ア)～(エ)の中から一つ選び記号で答えなさい。

(ア) C → B → D → A → E

(イ) B → C → D → A → E

(ウ) B → C → A → D → E

(エ) C → B → A → D → E



3 次の文章を読んで、下記の各問に答えなさい。

2015 年 10 月 5 日、アメリカ合衆国のアトランタで開かれていた太平洋を囲む 12 カ国による **X** の交渉が大筋で合意されました。これにより、太平洋を囲む 12 カ国での巨大経済圏が誕生することになります。

**X** は、自由貿易などのルールをつくるための協定で、太平洋を取り囲む 12 カ国で交渉が進められていました。最大の目玉は、**Y** の撤廃、あるいは低く設定することです。しかし、各国が自国の産業を守るための交渉をしており、さまざまな対立が生じています。

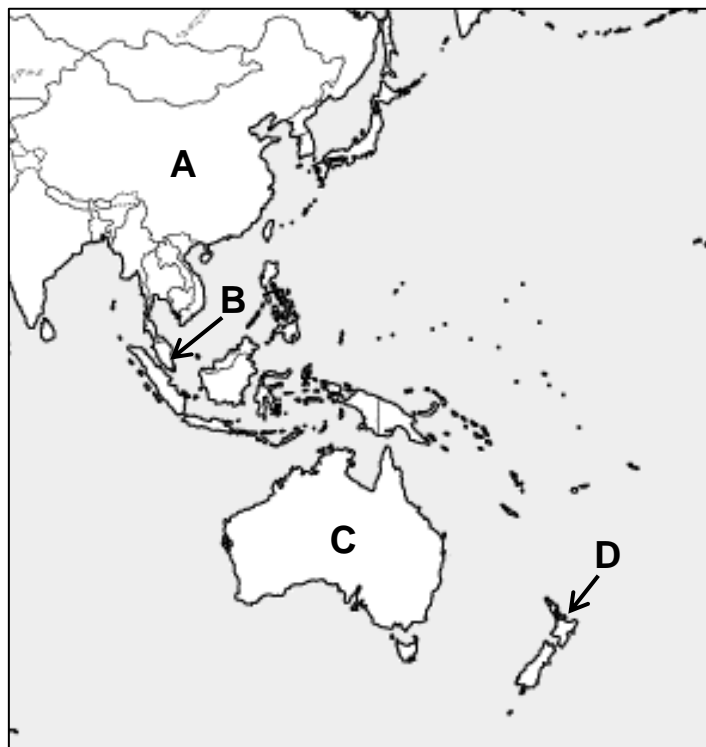
問 1 **X** にあてはまる協定を何といいますか。

(ア) WTO                      (イ) TPP                      (ウ) ODA                      (エ) NGO

問 2 **Y** にあてはまる税名としてふさわしいものを、下の (ア) ～ (エ) の中から一つ選び記号で答えなさい。

(ア) 法人税                      (イ) 関税                      (ウ) 消費税                      (エ) 所得税

問 3 この協定に参加していない国を下の地図中の A～D の中から一つ選び記号で答えなさい。



問4 日本がこの協定に参加することにより考えられることとして、誤っているものを、下の（ア）～（エ）の中から一つ選び記号で答えなさい。

- （ア）安い農産物が輸入されるため、日本国内の多くの農家が衰退するおそれがある。
- （イ）自国の輸入品にかかる税金が撤廃されるため、輸入品が高くなり、輸入企業が打撃を受ける。
- （ウ）他国においても輸入品にかかる税金が撤廃または低く設定されるため、日本の輸出品の売れ行きが伸びることが予想される。
- （エ）日本の企業が外国に進出する際の規制が撤廃または緩和されるため、日本企業の海外進出が一層進みやすくなる。

問5 日本の貿易について述べた文章としてふさわしいものを、下の（ア）～（エ）の中から一つ選び記号で答えなさい。

- （ア）小麦とうもろこしは自給でまかなっている。
- （イ）領土をめぐる問題がある国々とは、貿易を行っていない。
- （ウ）工業原料、エネルギー資源のほとんどを、外国からの輸入に頼っている。
- （エ）原材料を輸入して、製品を輸出する加工貿易を行ってきたため、現在でも製品の輸入の割合は低い。