

平成26年度

《第一回 特別奨学生入試》

# 社 会

時間40分，50点満点

## 受験上の注意

1. 解答用紙には，受験番号・氏名を記入してください。
2. 解答は，解答用紙の所定のところに記入してください。  
記入方法を誤ると得点になりません。
3. 試験終了の合図とともに，解答用紙・問題用紙とも提出してください。

郁文館中学校

## 問題

今年の秋に創立 125 周年を迎える郁文館は、明治時代、棚橋一郎（たなはし いちろう）という教育者によって創立されました。A～D の文章で、江戸時代に生まれ、昭和にまで及んだ創立者の生涯を振り返りながら、日本の近代の歴史をながめてみましょう。

### A

棚橋は、①文久 2(1863)年、②岐阜県に生まれました。漢学者だった父親、教育者だった母親の影響で学問にめざめ、明治 13 年（1880 年）に③東京大学に入学、卒業後は大学予備門・東京府立一中などの学校で教壇に立ちました。その後、明治 21(1888)年には、三宅雪嶺・陸羯南らとともに政教社という思想団体を結成、雑誌『日本人』の刊行にも加わりました。この団体は、④明治政府の欧化主義を批判し、「自然をはじめとした、日本のすばらしいものを残していこう」という考え方を主張していましたが、その一員である創立者も、「日本人としての個性をしっかりと確立した上で⑤国際化していこう」という、本当の意味での「国際化」を見通した考えを持っていました。

・下線部①について、以下の各問いに答えなさい。

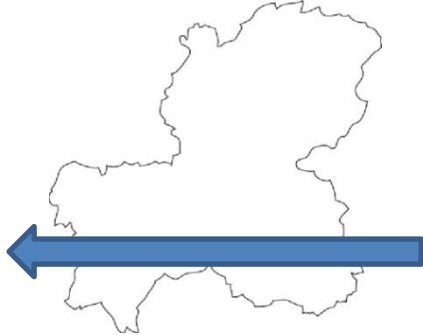
問 1. この年(1863 年)、日本では薩英戦争が起こっています。この戦争は、前年(1862 年)に、薩摩藩の行列の前を横切ったイギリス人を、薩摩藩士が殺傷した事件が原因で起こりました。その殺傷事件は、何と呼ばれる事件ですか。

問 2 この年(1863 年)、フランスでは“近代オリンピックの父”とされるクーベルタン男爵が誕生しています。彼の提案で始まった近代オリンピックの歴史において、中止になった 1940 年大会を除き、日本では夏季大会 1 回、冬季大会 2 回が開催されています。地図中ア～エの都道府県のうち、オリンピックが開催されることがない都道府県はどこですか。記号で答えなさい。



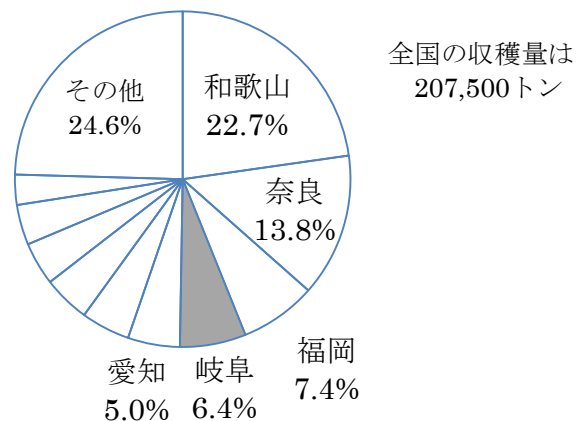
・下線部②について、以下の各問いに答えなさい。

問 3. 岐阜県には、いわゆる木曾三川が流れています。県内を、矢印のように東から西へ進んだ場合、木曾三川のうち、2 番目にぶつかるのは何川ですか。



問 4. 下の円グラフは、ある果実における 2010 年の県別収穫量割合を示すものです。岐阜県が 6.4%を占めて第 4 位となっている、この果実は何ですか。下の (ア) ～ (オ) の選択肢の中から選び、記号で答えなさい。

(ア) ぶどう (イ) かき (ウ) おうとう (エ) りんご (オ) いちご

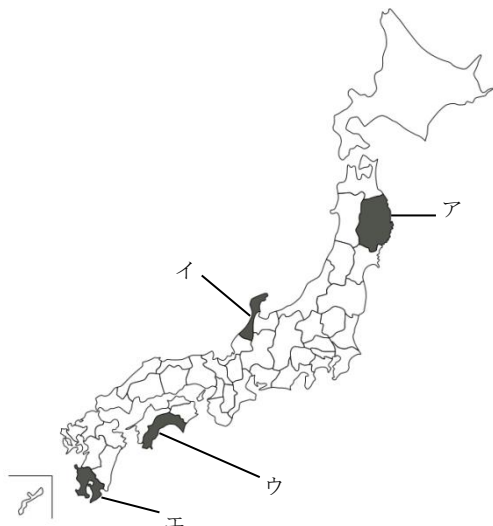


(日本全国,農業,果物,農作物,都道府県別,農林水産業,ランキング統計データ参照)

・下線部③について、以下の各問いに答えなさい。

問 5 東京大学は、江戸幕府の学校や機関の流れを受け継ぎながらも、欧米諸国の諸制度を導入した初めての近代的な大学として設立されました。現在でも、国内外から高い評価を受け、世界の大学ランキングでは常にアジアのトップを争っていますが、さらに、グローバル化の急速な進展の中で、人材育成の社会的要請や大学の国際競争に対応していこうと、一昨年には、入学時期の変更という大胆な提案を行いました。いわゆる“秋入学”の制度です。“秋入学”について、あなたはこれに賛成ですか、反対ですか。解答用紙のいずれかに○印をつけ、さらにその理由を簡潔に記して下さい。

問6 東京大学は、江戸時代のある藩の屋敷跡（藩邸跡）につくられました。その藩は江戸時代には“加賀百万石”と称される、前田家の藩でした。その藩のあった都道府県を、地図中のア～エから選び、記号で答えなさい。



・下線部④について、以下の問いに答えなさい。

問7 日本が高い文化水準にあることをアピールするため、政府は毎夜、外国人高官を招いて舞踏会を開きました。1883年に建築され、欧化主義を象徴する舞踏会の舞台となった建物（下の右側の写真）の名を記しなさい。



（舞踏会の様子を描いた絵）



（落成当時の建物）

・下線部⑤について、以下の問いに答えなさい。

問8 国際化をめざした創立者の考えを受け継いで、現在、郁文館の生徒たちは、積極的に海外へ留学や研修に出かけていきます。平成25年度に生徒たちは、ニュージーランド、カナダ、シンガポール、韓国、台湾、マレーシア、カンボジア、バングラデシュという、様々な国や地域に出かけていきました。次の説明文は、それらのうちの、ある1つの国についてのものです。次の説明文に該当する国を、（ア）～（オ）の選択肢の中から選び、記号で答えなさい。

## 説明文

「WHO が発表した『世界保健統計 2013』によれば、この国の人口は約 1 億 5049 万人で、中国、インド、アメリカ、インドネシア、ブラジル、パキスタン、ナイジェリアについて世界第 8 位ですが、国土面積を考えると、最も人口密度の高い国の 1 つです。この国は南アジアにあるイスラム教徒主体の国で、首都はダッカです。イギリス領だったインドが独立した後、パキスタンの一部となりましたが、さらに独立して、1971 年に現在の国となりました。2011 年にアジア開発銀行が公表した資料によると、1 日 2 ドル未満で暮らす貧困層が国民の 75%を超えると推定される、世界最貧国の 1 つです。」

(ア) ニュージーランド

(イ) カナダ

(ウ) 韓国

(エ) マレーシア

(オ) バングラデシュ

B.

明治 22(1889)年、棚橋は 27 歳という若さで郁文館を創立しました。学校ができたこの年は、⑥大日本帝国憲法（明治憲法）が發布され、明治維新以来進められてきた近代国家建設の歩みが、大きな節目を迎えたときでした。11 月 13 日の郁文館の開校式には、その時の⑦文部大臣をはじめとする政治家や有名人が数多く参加して盛大に行われました。生徒わずか 25 名の小世帯での出発でしたが、そこには「近代国家に貢献できる人材を育成したい」との創立者の熱い思いがあふれていました。

・下線部⑥について、以下の問いに答えなさい。

問 9 下の絵は、この憲法の發布の様子を描いたものです。この憲法は、ヨーロッパの“ある国”の憲法をお手本に明治政府が制定したものです。皇帝の権力の強い憲法を採用していた“ある国”とはどこですか。国名を記しなさい。



問 10 この憲法では、天皇は「主権をもつ国の元首」でした。それに対して、第二次大戦後に制定された現在の日本国憲法では、天皇は「日本国および国民統合の\*\*」と位置づけられます。\*\*にあてはまる適切な語句を、漢字2字で記しなさい。

・下線部⑦について、以下の問いに答えなさい。

問 11 この時の文部大臣は、江戸幕府の海軍副総裁として戊辰戦争で活躍しました。最後は函館の五稜郭に立てこもり、新政府軍に抵抗しましたが、降伏後は政府のもとで働きました。この人物の名を記しなさい。

C.

郁文館創立の5年後(1894年)の(ア)戦争、さらにその10年後(1904年)の⑧(イ)戦争で勝利した日本は、着実に近代化への歩みを進め、1914年から始まる第一次大戦の後には、⑨世界の大国の一員として数えられるまでになりました。(イ)戦争前後に発表された『吾輩は猫である』は、⑩作者が郁文館のすぐ隣りに住んでいる時に書かれたもので、作品中に登場する「落雲館中学校」は、郁文館中学校がモデルになっています。当時、昼休みや放課後に、グラウンドで盛んに行われていた野球のボールが空き地を越えて作者宅に飛び込み、それを郁文生が一日に何度も取りに来ることに腹を立てた作者が、「誰でも構わんから呼んで来いと云うのに、わからんか。校長でも幹事でも教頭でも……」と小説の中で生徒に不満をぶつけています。

・下線部⑧について、以下の問いに答えなさい。

問 12 (イ)には戦争名が入ります。漢字2字で記しなさい。(ア)については解答する必要はありません。

・下線部⑨について、以下の問いに答えなさい。

問 13 大国であることの一例として、第一次大戦後の1920年に設立された、ある国際平和機関において常任理事国になったことが挙げられます。スイスに事務局を置いた、この国際平和機関の名称を漢字4字で記しなさい。

・下線部⑩について、以下の問いに答えなさい。

問 14 『吾輩は猫である』の作者です。姓名を記しなさい。

なお、この作家の作品には、『坊っちゃん』『三四郎』  
『こころ』『草枕』などがあります。



(『吾輩は猫である』大正時代の縮刷版)

D.

棚橋は、明治 35 (1902) 年、出身地である岐阜県からの選出で⑪衆議院議員に当選、国会  
の場で私学教育の拡充に努力しました。その後も、東京市議会議員、本郷区学務委員長な  
どを歴任し、生涯をかけて私学の発展に尽くしました。⑫昭和 17(1942)年 2 月に 81 歳で死  
去、お墓は谷中の全生庵というお寺にあります。

・下線部⑪について、以下の問いに答えなさい。

問 15 明治憲法下の立法機関として、衆議院のほかにもう一つ議会があり、二院制が採用  
されていました。衆議院とほぼ対等の権限をもつ、もう一つの議会を何と言いますか。

・下線部⑫について、以下の問いに答えなさい。

問 16 1942 年、日本は太平洋戦争の真っ最中でした。この戦争は、前年(1941 年)の 12 月  
8 日に日本軍が( ウ )の真珠湾にあったアメリカの海軍基地を攻撃したことから始  
まりました。( ウ )に入る地名をカタカナ 3 字で記しなさい。