

平成26年度

《第一回入試》

# 社 会

時間30分，50点満点

## 受験上の注意

1. 解答用紙には，受験番号・氏名を記入してください。
2. 解答は，解答用紙の所定のところに記入してください。  
記入方法を誤ると得点になりません。
3. 試験終了の合図とともに，解答用紙・問題用紙とも提出してください。

郁 文 館 中 学 校

**1** 以下の文章を読んで、あとの問いに答えなさい。

2013 年 6 月、①山梨県と静岡県にまたがる富士山が世界遺産に登録されたことは記憶に新しいでしょう。世界遺産とは、地球の生成と人類の歴史によって生み出された世界共通の宝物であり、日本には現在、17 の世界遺産が登録されています。その内、自然遺産が 4 カ所、文化遺産が 13 カ所登録されており、北は②北海道の知床から、南は③沖縄県の琉球王国のグスク及び関連遺産群までと、日本全国に存在します。

歴史を振り返れば、1993 年に日本の 4 カ所が、初めて世界遺産に登録されました。④青森県と⑤秋田県にまたがる世界最大級のブナ林地帯の白神山地、「東洋のガラパゴス」とも呼ばれる⑥鹿児島県の屋久島、400 年に渡りほぼ当時のままの状態に残る⑦兵庫県の姫路城、7 世紀以降の木造建築群が密集している奈良県の法隆寺地域の仏教建造物、この 4 カ所です。この時は自然遺産、文化遺産、それぞれ 2 カ所ずつ登録されました。その後も着実に数を増やし、現在に至ります。

世界遺産登録には、その場所でしか見られないもの、更にはその場所でしか経験出来ないことなど、様々な理由があります。1996 年には、人類共通の平和の象徴として、広島県の実験ドームが登録されました。また、2011 年には、貴重な生態系の宝庫として⑧東京都の小笠原諸島が登録されました。

日本政府は、更なる世界遺産登録数の増加のため、ユネスコ世界遺産センターに推薦書を提出しています。2014 年には、⑨群馬県の富岡製糸場と絹産業遺産群が登録されるかどうか、審議対象となりました。近い将来、日本の世界遺産はさらに増加していくことでしょう。

問 1 下線部①において、この県では果樹栽培が盛んですが、生産量が日本一位ではないものはどれですか。下の (ア) ～ (エ) の中から一つ選んで、記号で答えなさい。

(ア)もも

(イ)すもも

(ウ)ぶどう

(エ)なし

問 2 下線部②において、知床の場所を地図中のア～エの中から一つ選んで、記号で答えなさい。



問3 下線部③において、沖縄県の伝統的な住居には様々な特徴があります。その特徴として、あてはまらないものはどれですか。下の（ア）～（エ）の中から一つ選んで記号で答えなさい。

- （ア）台風対策のため、防風林が広がっている。
- （イ）台風対策のため、住居を石垣で囲っている。
- （ウ）景観をよくするため、防砂林が広がっている。
- （エ）水不足になりやすいため、貯水タンクを備えている。

問4 下線部④において、この地域には「やませ」という風が吹くことがあります。「やませ」の説明文として最も適しているものはどれですか。下の（ア）～（エ）の中から一つ選んで記号で答えなさい。

- （ア）夏に吹く、冷害を引き起こす風。
- （イ）夏に吹く、温暖化を引き起こす風。
- （ウ）冬に吹く、火災を引き起こしやすい乾燥した風。
- （エ）冬に吹く、豪雪になりやすい湿った風。

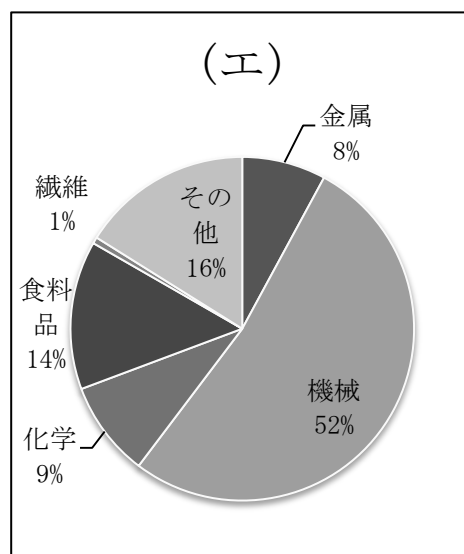
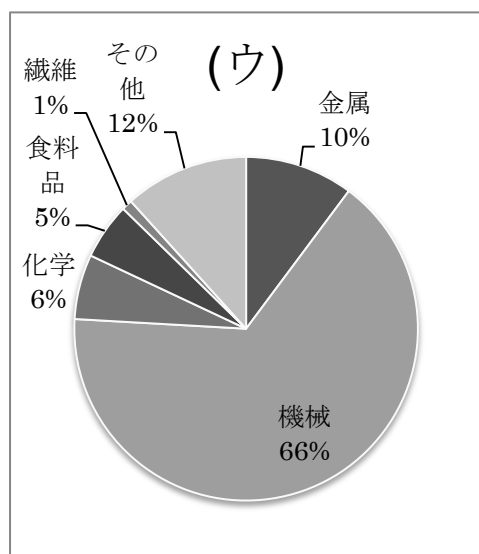
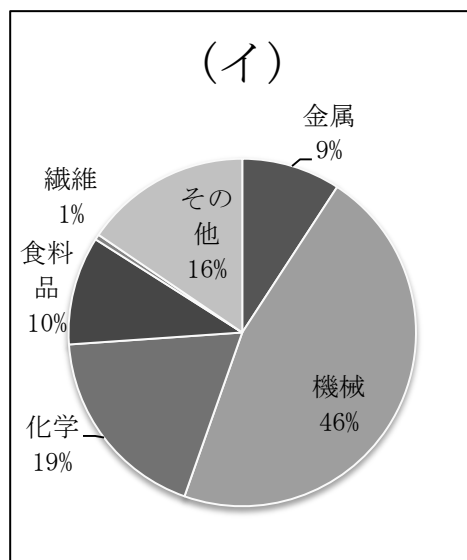
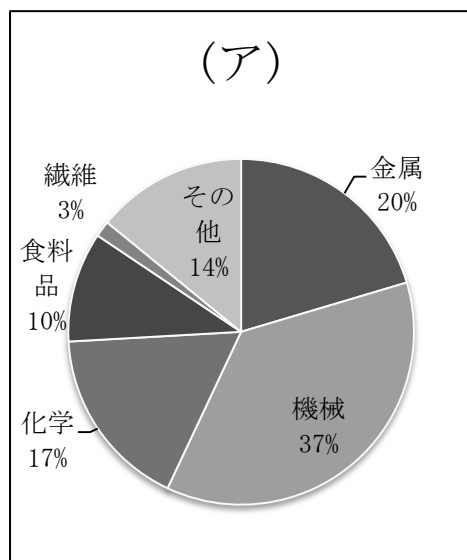
問5 下線部⑤において、東北地方では、東北自動車道・東北新幹線が開通したことにより、関東からコンピューター工場が移転し、先端技術産業が発展しました。交通機関にそって工場が集まっている地域を何と呼びますか。下の（ア）～（エ）の中から一つ選んで記号で答えなさい。

- |              |             |
|--------------|-------------|
| （ア）シリコンデザート  | （イ）シリコンプレーン |
| （ウ）シリコンフォレスト | （エ）シリコンロード  |

問6 下線部⑥において、鹿児島には現在も火山活動が盛んな場所があります。それはどこですか。下の（ア）～（エ）の中から一つ選んで記号で答えなさい。

- |        |        |       |        |
|--------|--------|-------|--------|
| （ア）阿蘇山 | （イ）雲仙岳 | （ウ）桜島 | （エ）浅間山 |
|--------|--------|-------|--------|

問 7 下線部⑦は阪神工業地帯の一部です。以下のグラフは、阪神工業地帯・京浜工業地帯・中京工業地帯・東海工業地域の製造品出荷額をあらわしたものです。阪神工業地帯のグラフとしてふさわしいものはどれですか。下の（ア）～（エ）の中から一つ選んで記号で答えなさい。



出典：日本国勢図会 2013/14 第 71 版

下線部⑧について、以下の問いに答えなさい。

問 8 以下の東京都に関する説明文の中で、まちがっている文章はどれですか。下の（ア）～（エ）の中から一つ選んで記号で答えなさい。

- （ア）東部には東京 23 区とよばれる特別行政区があり、西部郊外には多摩地区と呼ばれる住宅地が広がる。
- （イ）都心の千代田区霞ヶ関周辺は国会議事堂など、国の中枢機能<sup>ちゅうすう</sup>が集中しており、政治の中心である。
- （ウ）都心にある官庁や大企業の中枢機能の一部を分担する地区として副都心が誕生した。恵比寿や六本木がそれにあたる。
- （エ）都心部の地下鉄と郊外へのびる鉄道との相互乗り入れや高架化が行われるようになった要因として、通勤・通学時の混雑があげられる。

問 9 東京から小笠原諸島までの距離は約 1,000 キロメートルです。東京から約 1,000 キロメートルにある日本の都道府県はどこですか。下の（ア）～（エ）の中から一つ選んで記号で答えなさい。

（ア）北海道

（イ）香川県

（ウ）沖縄県

（エ）新潟県

問 10 下線部⑨において、群馬県が日本の生産高の大部分を独占している農産物はどれですか。下の（ア）～（エ）の中から一つ選んで記号で答えなさい。

（ア）こんにゃくいも

（イ）かんぴょう

（ウ）てんさい

（エ）オリーブ

**2** 次の1～4の史料について、あとの問いに答えなさい。

**（史料1）**

「男が書くという日記というものを、女の私も書いてみようと思い書くのです。」

（『①土佐日記』）

問1 史料1に関連した文章の内容として正しい組み合わせを、下の（ア）～（エ）の中から一つ選んで記号で答えなさい。

- （1）筆者は『源氏物語』を書いた人物と同じである。
- （2）筆者は男性であり、作品は国司の任務を終えて帰京する際の旅日記である。
- （3）この当時、大陸との関係が大きく変化し、文化の唐風（中国風）文化が見られるようになった。
- （4）この当時、かな文字が発明され女流文学が盛んになっていった。

（ア）（1）と（3）      （イ）（1）と（4）      （ウ）（2）と（3）      （エ）（2）と（4）

問2 下線部①の国について説明した文章としてふさわしくないものを下の（ア）～（エ）の中から一つ選んで記号で答えなさい。

- （ア）軍事、外交上の要地であるので古代より大宰府が置かれた。
- （イ）戦国時代には土佐を基盤に長宗我部氏が勢力を拡大した。
- （ウ）江戸時代には捕鯨やかつお漁が盛んに行われた。
- （エ）幕末には土佐藩出身の坂本龍馬や板垣退助らが活躍した。

**（史料2）**

「第3条 諸国の（A）人が行うべき仕事や権限について

このことについては、②右大将家の時に定められたのは（B）の催促、<sup>むほんにん</sup>謀叛人・殺害人の取り締まりなどのことである。」

問3 空欄（A）と（B）に入る語句の組み合わせとして最もふさわしいものを下の（ア）～（カ）より一つ選んで記号で答えなさい。

（ア）（A）大名      （B）大番役      （イ）（A）大名      （B）異国警固番役  
（ウ）（A）守護      （B）大番役      （エ）（A）守護      （B）鎌倉番役  
（オ）（A）地頭      （B）異国警固番役      （カ）（A）地頭      （B）鎌倉番役

問4 下線部②は具体的に誰のことですか。漢字で答えなさい。

（史料3）

「一 わが朝倉の城の他は、領国内に城を建ててはいけない。すべての所領のある者は、一乗谷へ移り住み、郷村には代官だけを置くべきであること

一 けんかのことについては、どちらがよいか悪いかにかかわらず、罪科とする

一 許可を受けずに、他国へ贈り物をすることや手紙を出すことは一切禁止する」

問5 資料3は戦国時代の大名らが領国支配のために定めたものです。このような史料を何といいますか、下の（ア）～（エ）の中から一つ選んで記号で答えなさい。

（ア）武家諸法度

（イ）律令

（ウ）徳政令

（エ）分国法

問6 戦国時代の用語としてふさわしくない語句を下の（ア）～（エ）の中から一つ選んで記号で答えなさい。

（ア）下剋上

（イ）氏姓制度

（ウ）寄親・寄子制

（エ）指出検地

（史料4）

「その翌日、前野良沢の家に集まり、前日のことを話し合い、まずあの『③ターヘル・アナトミア』を読み始めたが、“ろ”や“かじ”のない船で大きな海に漕ぎ出した時と同じように、広々として寄りつくところもなく、まったくどうしたらよいのかもわからない」

問7 史料4の筆者としてふさわしい人物を、下の（ア）～（エ）の中から一つ選んで記号で答えなさい。

（ア）杉田玄白

（イ）青木昆陽

（ウ）平賀源内

（エ）新井白石

問8 下線部③の書物を訳述した書物の名称としてふさわしいものを下の（ア）～（エ）の中から一つ選んで記号で答えなさい。

（ア）『西洋紀聞』

（イ）『解体新書』

（ウ）『ハルマ和解』

（エ）『蘭学事始』

問 9 資料 4 について、この時代の文化資料としてふさわしいものを、下の (ア) ～ (エ) の中から一つ選んで記号で答えなさい。

(ア)



東海道五十三次

(イ)



鮭

(ウ)



ひょうねんず  
瓢鮎図

(エ)



蒙古襲来絵詞

問 10 史料 1 ～ 4 に書かれている内容を古いものから新しいものへ順番にしたとき、三番目となる史料としてふさわしいものを下の (ア) ～ (エ) の中から一つ選んで記号で答えなさい。

(ア) 史料 1

(イ) 史料 2

(ウ) 史料 3

(エ) 史料 4



**3** 次の文章を読んで、あとの問いに答えなさい。

日本国憲法には、人に固有な不可侵かつ普遍的な権利として様々な基本的人権が保障されています。具体的には、まず平等権が認められています。その上で国から不当な干渉を受けない権利として①自由権が定められています。これらの国からの自由を保障する権利とは別に、国による権利の保障としての②社会権も認められています。さらに近年では、新しい人権として、③私事や私生活を公開されない権利や④必要な情報を自由に獲得できる権利などが認められています。

また、これらの人権問題については、世界人権宣言や国際人権規約といった⑤国際的な取り組み（条約）も行われています。

問1 下線部①に関連して、次にあげる権利の中で自由権にあてはまらないものはどれですか。下の（ア）～（エ）の中から一つ選んで記号で答えなさい。

- （ア）自由に自分の思想を形成し発表できる。
- （イ）自由に職業を選ぶことができる。
- （ウ）逮捕などの強制処分を行う時には、現行犯の場合を除いて司法機関の発行する令状が必要となる。
- （エ）社会の一員として生活するために必要な教育を受けられる。

問2 下線部②に関連して、社会権が世界で初めて規定された憲法はどれですか。下の（ア）～（エ）の中から一つ選んで記号で答えなさい。

- （ア）ワイマール憲法      （イ）日本国憲法      （ウ）大日本帝国憲法      （エ）アメリカ合衆国憲法

問3 下線部③に関連して、このような権利のことを何と呼びますか。下の（ア）～（エ）の中から一つ選んで記号で答えなさい。

- （ア）自己決定権      （イ）知る権利      （ウ）プライバシーの権利      （エ）アクセス権

問4 下線部④に関連して、このような権利のことを何と呼びますか。下の（ア）～（エ）の中から一つ選んで記号で答えなさい。

- （ア）自己決定権      （イ）知る権利      （ウ）プライバシーの権利      （エ）アクセス権

問5 下線部⑤に関連して、様々な条約が結ばれていますが、次にあげる条約を正しい時代順に並べたものはどれですか。下の（ア）～（エ）の中から一つ選んで記号で答えなさい。

- （ア） 人種差別撤廃条約 → 子どもの権利条約 → 女性差別撤廃条約
- （イ） 女性差別撤廃条約 → 子どもの権利条約 → 人種差別撤廃条約
- （ウ） 子どもの権利条約 → 人種差別撤廃条約 → 女性差別撤廃条約
- （エ） 人種差別撤廃条約 → 女性差別撤廃条約 → 子どもの権利条約