

平成 2 5 年度

第二回入試

社 会

時間 3 0 分 , 5 0 点満点

受験上の注意

- 1 . 解答用紙には , 受験番号・氏名を記入してください。
- 2 . 解答は , 解答用紙の所定のところに記入してください。
記入方法を誤ると得点になりません。
- 3 . 試験終了の合図とともに , 解答用紙・問題用紙とも
提出してください。

郁 文 館 中 学 校

問題は次のページから始まります。

1 次の文を読んで、あとの問いに答えなさい。

2011 年 3 月 11 日に発生した東日本大震災は今も記憶に新しい。過去を振り返れば、1995 年 1 月に発生した阪神・淡路大震災、2000 年 7 月に発生した三宅島での噴火、2012 年 12 月～2013 年 1 月に福井県や富山県を中心として発生した豪雪など、日本は世界の中でも特に自然災害が多い国です。自然災害以外にも、現在では、これまで観測することがなかった異常気象が日本各地で見られます。

まず、一つ目として、集中豪雨があげられます。発達した積乱雲が豪雨をもたらします。2005 年 9 月に東京都を中心とした豪雨は、1 時間の雨量が 100 mm 以上を記録。杉並区下井草では総雨量 263 mm を観測し、床上・床下浸水の被害が発生しました。

集中豪雨は日本各地で見られ、二次災害として発生するものが土砂災害です。山間部に多い土石流や地滑りなどの土砂災害へ備えるため、国土交通省は土砂災害の危険性がある地域を「土砂災害警戒区域」として公表しています。国土交通省の発表によれば、最も警戒すべき箇所が多いのは 30,877 カ所の島根県です。次いで、20,352 カ所の山口県です。次に 19,722 カ所の兵庫県となります。最も警戒すべき箇所の少ない沖縄県でも 400 カ所あり、日本各地で多いことが理解できます。

二つ目として、猛暑があげられます。2010 年夏には、日本全国の平均気温が過去 30 年の平均気温に比べ 1.6 度高くなりました。これにより、7～9 月に熱中症で医療機関に搬送された人は 5 万人を超え、その内 167 名は搬送直後に死亡しています。2010 年の都道府県別熱中症搬送人数では、埼玉県が前年度よりも約 7 倍多い 1,688 名、北海道では約 9 倍多い 521 名、福岡県も約 3 倍多い 1,164 名と日本各地で猛暑だったことが理解できます。

三つ目として、竜巻があげられます。日本各地の竜巻による被害は増加傾向にあります。2012 年 5 月 6 日には、茨城県で発生した竜巻では死傷者 36 名を出しました。電柱は折れ、家屋が横転した様子は、竜巻被害が多いアメリカさながらの光景でした。

問 1 下線部 に関して、阪神工業地帯の工業製品別出荷額において、1 位を占める工業は何ですか。下の(ア)～(エ)の中から一つ選び、記号で答えなさい。

| | | | |
|---------|----------|----------|----------|
| (ア) 食品業 | (イ) 機械工業 | (ウ) 金属工業 | (エ) 化学工業 |
|---------|----------|----------|----------|

問 2 下線部 に関して、郁文館中学校～三宅島の間にある島はどれですか。下の(ア)～(エ)の中から一つ選び、記号で答えなさい。

| | | | |
|--------|---------|---------|--------|
| (ア) 父島 | (イ) 八丈島 | (ウ) 硫黄島 | (エ) 大島 |
|--------|---------|---------|--------|

問3 下線部 に関して、福井県以外にある原子力発電所はどれですか。下の(ア)～(エ)の中から一つ選び、記号で答えなさい。

(ア) 大飯原子力発電所

(イ) 敦賀原子力発電所

(ウ) 美浜原子力発電所

(エ) 女川原子力発電所

問4 下線部 に関して、東京の説明文として適していないものはどれですか。下の(ア)～(エ)の中から一つ選び、記号で答えなさい。

(ア) 東京の都心部では、昼間は都心部に働きにくる人が多く、夜間は都心部から離れた郊外に生活する人が多い、「ドーナツ化現象」が起きている。


(イ) 都心に住む人が少なく、郊外から都心部へ移動してくる際の「通勤ラッシュ」が発生している。

(ウ) 都心部は元々暑くなりやすい地形であり、「ヒートアイランド現象」が発生していたが、高層ビル群が太陽光をさえぎるため、現在ヒートアイランド現象は起きていない。

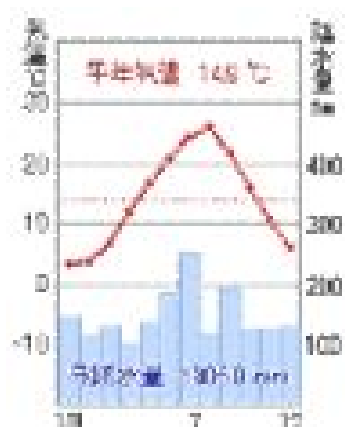
(エ) 都心部の土地の価格は高くなっているため、少ない土地面積を活用するため、地下化・高層化が進んでいる。

問5 下線部 の雨温図として最も適しているものはどれですか。下の(ア)～(エ)の中から一つ選び、記号で答えなさい。

(ア)



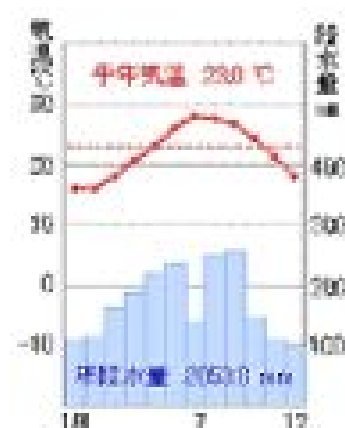
(イ)



(ウ)



(エ)



気象庁 1981年～2010年 平均値データを基に作成

問6 下線部 に関して、山口県は秋吉台に代表されるカルスト地形で有名ですが、カルストの説明として最も適しているものはどれですか。下の(ア)～(エ)の中から一つ選び、記号で答えなさい。

(ア) 湖が干上がりできた台地

(イ) 石灰岩が水に溶けてできた台地

(ウ) 火山の噴火で積もった灰でできた台地

(エ) 火山の噴火や爆発によりできたくぼ地

問7 下線部 に関して、沖縄県に属さない島はどれですか。下の(ア)～(エ)の中から一つ選び、記号で答えなさい。

(ア) 久米島 (イ) 石垣島 (ウ) 奄美大島 (エ) 与那国島

問8 下線部 において、全国生産量1位のものはどれですか。下の(ア)～(エ)の中から一つ選び、記号で答えなさい。

(ア) さつまいも (イ) キャベツ (ウ) トマト (エ) 大豆

問9 下線部 に関して、北九州工業地帯の説明文として適していないものはどれですか。下の(ア)～(エ)の中から一つ選び、記号で答えなさい。

- (ア) 北九州工業地帯には、以前、官営の八幡製鉄所があった。
- (イ) 発展した背景に、原料として筑豊炭田の石炭が豊富にあった。
- (ウ) 発展した背景に、オーストラリアから輸入していた鉄鉱石があった。
- (エ) 衰退した背景に、エネルギー革命があった。

問10 下線部 に関して、日本がアメリカから輸入しているもののうち、輸入量が国別世界第1位ではないものはどれですか。下の(ア)～(エ)の中から一つ選び、記号で答えなさい。

(ア) 豚肉 (イ) 小麦 (ウ) 大豆 (エ) チーズ

2 次の年表を見て、あとの問いに答えなさい。

| 西 暦 | 主な出来事 |
|--------------|--------------------|
| 538 年 | <u>百済から仏教が伝来</u> |
| 607 年 | 小野妹子を隋に派遣 |
| 672 年 | <u>壬申の乱</u> |
| 701 年 | 大宝律令の成立 |
| 743 年 | 墾田永年私財法の制定 |
| 794 年 | <u> B </u> に遷都 |
| 894 年 | <u>遣唐使の派遣中止</u> |
| 1053 年 | 平等院鳳凰堂の建立 |
| 1167 年 | <u>平清盛が太政大臣に就任</u> |
| 1185 年 | 壇の浦の戦い |
| 1221 年 | 承久の乱 |
| 1274 年 | 文永の役 |
| 1467 年 | 応仁の乱 |
| 1575 年 | 長篠の戦い |
| 1639 年 | <u>鎖国が完成</u> |
| 1853 年 | <u>ペリーが来航</u> |
| 1858 年 | <u>日米修好通商条約を調印</u> |
| 1867 年 | 大政奉還 |
| <u> A </u> 年 | 大日本帝国憲法の発布 |
| 1894 年 | 日清戦争 |
| 1904 年 | <u>日露戦争</u> |
| 1914 年 | 第一次世界大戦に日本が参戦 |

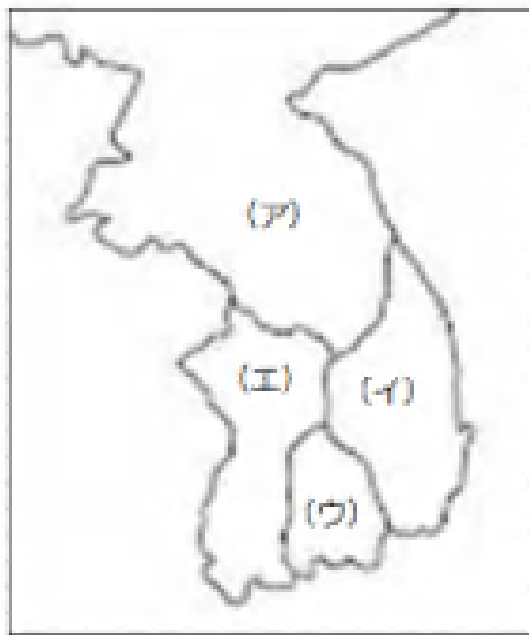
問 1 年表中の A にあてはまる西暦を、下の (ア) ~ (エ) の中から一つ選び、記号で答えなさい。

| | | | |
|----------|----------|----------|----------|
| (ア) 1871 | (イ) 1885 | (ウ) 1889 | (エ) 1890 |
|----------|----------|----------|----------|

問2 年表中の B にあてはまる語句を、下の(ア)～(エ)の中から一つ選び、記号で答えなさい。

| | | | |
|---------|---------|---------|---------|
| (ア) 福原京 | (イ) 平城京 | (ウ) 長岡京 | (エ) 平安京 |
|---------|---------|---------|---------|

問3 下線部 の国は、地図上の(ア)～(エ)のどこにあてはまりますか。(ア)～(エ)の中から一つ選び、記号で答えなさい。



問4 下線部 について、この乱の翌年に即位した天皇を、下の(ア)～(エ)の中から一つ選び、記号で答えなさい。

| | | | |
|----------|----------|----------|----------|
| (ア) 天武天皇 | (イ) 天智天皇 | (ウ) 持統天皇 | (エ) 平城天皇 |
|----------|----------|----------|----------|

問5 下線部 について遣唐使の派遣中止を意見した人物を、下の(ア)～(エ)の中から一つ選び、記号で答えなさい。

| | | | |
|----------|----------|----------|-----------|
| (ア) 藤原道長 | (イ) 菅原道真 | (ウ) 聖徳太子 | (エ) 犬上御田鍬 |
|----------|----------|----------|-----------|

問 6 下線部 について、平清盛が貿易を行うために大輪田泊（現在の神戸港）を整備しました。これはどこの国と貿易を行うためですか。下の（ア）～（エ）の中から一つ選び、記号で答えなさい。

（ア） 明

（イ） 清

（ウ） 宋

（エ） 漢

問 7 下線部 について、どこの国の来航を禁止したことで鎖国が完成しましたか。下の（ア）～（エ）の中から一つ選び、記号で答えなさい。

（ア） オランダ

（イ） アメリカ

（ウ） ポルトガル

（エ） スペイン

問 8 下線部 について、1853 年にペリーはどこに来航しましたか。下の（ア）～（エ）の中から一つ選び、記号で答えなさい。

（ア） 新潟

（イ） 長崎

（ウ） 根室

（エ） 浦賀

問 9 下線部 について、幕府がこの条約を調印した時の大老を、下の（ア）～（エ）の中から一つ選び、記号で答えなさい。

（ア） 井伊直弼

（イ） 板垣退助

（ウ） 水野忠邦

（エ） 松平定信

問 10 下線部 について、日露戦争の講和条約として結んだ条約の名前を、下の（ア）～（エ）の中から一つ選び、記号で答えなさい。

（ア） 下関条約

（イ） ラムサール条約

（ウ） ベルサイユ条約

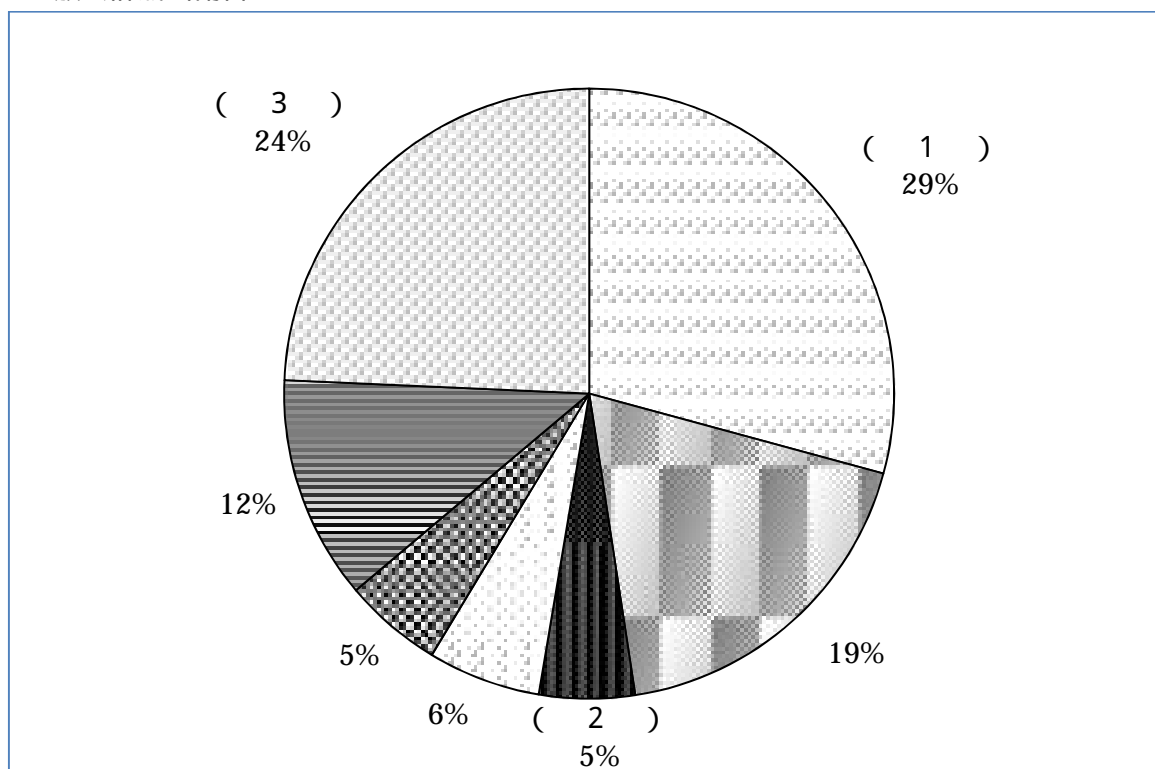
（エ） ポーツマス条約

3 次の文を読んで、あとの問いに答えなさい。

2012年4月5日、2012年度予算が憲法の規定により成立しました。東日本大震災の復興経費は新設した特別会計に計上したほか、基礎年金の国庫負担割合を2分の1に維持する財源は当面、歳出に計上する必要がない年金交付国債でまかなうとしたため、見かけの歳出総額は縮小しています。しかし、社会経済状況の変化に伴い、実質的な歳出総額は過去最大となっており、一般会計歳入における国債金収入の割合も49%となっています。国債費の増大は将来世代に負担を残すことになり大きな問題ですが、こうした問題に直面するのは日本だけでなくEUでもギリシアやポルトガルが財政危機の対応におわれています。

問1 下線部 について、下の円グラフにおける(1)～(3)に入る語句の組み合わせとして最も適当なものを、下の(ア)～(エ)の中から一つ選び、記号で選びなさい。

一般会計歳出割合



平成24年度一般会計予算(平成24年4月5日成立)の概要より作成

- | | | | |
|-----|----------|----------|----------|
| (ア) | 1. 社会保障費 | 2. 公共事業費 | 3. 防衛費 |
| (イ) | 1. 防衛費 | 2. 教育費 | 3. 社会保障費 |
| (ウ) | 1. 社会保障費 | 2. 公共事業費 | 3. 国債費 |
| (エ) | 1. 教育費 | 2. 社会保障費 | 3. 国債費 |

問 2 下線部 について、一昨年の東日本大震災によって発生した大津波が、東京電力福島第一原子力発電所を直撃し、深刻な原子力事故になりました。1986 年に旧ソ連でも原子力発電所で事故が起きましたが、その発電所の名前として適当なものを、下の（ア）～（エ）の中から一つ選び、記号で答えなさい。

（ア） チェチェン原子力発電所

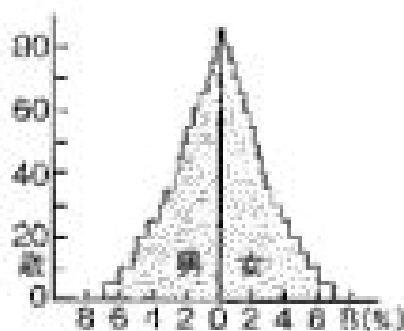
（イ） モスクワ原子力発電所

（ウ） チェルノブイリ原子力発電所

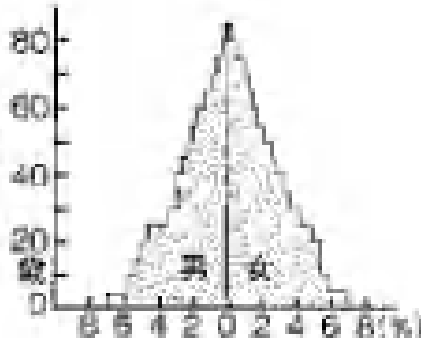
（エ） ウズベキスタン原子力発電所

問 3 下線部 について、社会経済状況の変化の一つに人口構成の変化がありますが、下のグラフで現在の日本の人口分布を表すものを、下の（ア）～（エ）の中から一つ選び、記号で答えなさい。


（ア）



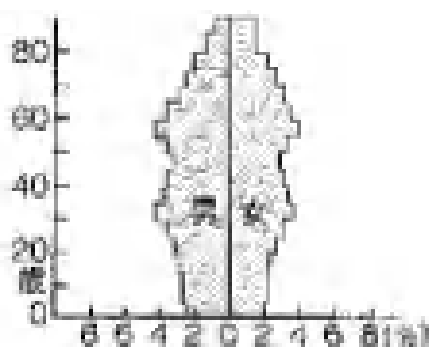
（イ）



（ウ）



（エ）



日本国勢図絵 2012/13年版を基に作成

問 4 下線部 について、平成 24 年度における国債残高はいくらになる見込みですか。最も適切なものを、下の（ア）～（エ）の中から一つ選び、記号で答えなさい。

| | | | |
|--------------|---------------|--------------|--------------|
| （ア） 約 700 億円 | （イ） 約 1000 億円 | （ウ） 約 100 兆円 | （エ） 約 700 兆円 |
|--------------|---------------|--------------|--------------|

問 5 下線部 について、EU（ヨーロッパ連合）が正式に発足することとなった 1993 年の条約として最も適切なものを、下の（ア）～（エ）の中から一つ選び、記号で答えなさい。

| | |
|---------------|---------------|
| （ア） マーストリヒト条約 | （イ） パリ条約 |
| （ウ） ローザンヌ条約 | （エ） サンジェルマン条約 |