

平成23年度

特別奨学生試験

社 会

時間は理科と社会あわせて40分，各50点満点

受験上の注意

1. 解答用紙には，受験番号・氏名を記入してください。
2. 解答は，解答用紙の所定のところに記入してください。
記入方法を誤ると得点になりません。
3. 試験終了の合図とともに，解答用紙・問題用紙とも提出してください。

郁文館中学校

問題は次のページから始まります。

1 次の文章を読んで、下記の問に答えなさい。

7世紀ごろまでは、天皇が代わるごとに都は移っていました。しかし、律令制度が整い大陸との交流が盛んになると、中国(唐)にならって大規模な都をつくり、律令国家の威信を内外に示そうという動きが起こりました。最初の大規模な都に続き、710年に、奈良の地に新しい都(平城京)がつくられました。この平城京は、東アジアとの交流を通して世界と結びついた、日本で初めての大規模な国際都市となりました。これ以後、784年に長岡京へ都を移すまでの70年あまりを奈良時代といいます。

昨年2010年は、この平城京遷都から1300年が経過した年にあたり、奈良では「平城遷都1300年祭」として、未来につながる「歴史」と「文化」と「交流」の発展を目指したいろいろなイベントが行われました。

問1 下線部 について、次の文章を読んで下記の各問いに答えなさい。

- 1 律令の諸制度を実施するために必要な要素である戸籍は、670年頃、最初のものが作成されましたが、この戸籍を何と呼ぶか答えなさい。
- 2 戸籍に基づいて6年に1度支給された土地のことを何と呼ぶか答えなさい。
- 3 この時代の民衆には、さまざまな義務が課せられていました。その中で、問1の2の土地に対して課せられた税のことを何と呼ぶか答えなさい。
- 4 このころの法律は、社会制度を規定する行政法的なものと社会規範を規定する刑法的なものがありました。このうちで、刑法的なものを何と呼ぶか答えなさい。

問2 下線部 について、この都の名前を漢字で答えなさい。なお答えは、京の形で答えなさい。

問3 下線部 について、この時の天皇は誰か、漢字で答えなさい。

問4 奈良時代につくられた日本最古の歌集は何か、漢字で答えなさい。

問5 奈良時代は、まだ紙が普及していなかったため、細長く平らに削った木片に文字を記したものが紙の代わりに使われました。これらは役所の連絡文書や品物の付札などに使用したものと考えられています。この木片のことを何と呼ぶか漢字で答えなさい。



2 次の文章を読んで、下記の問に答えなさい。

2010年は、第二次世界大戦の終戦から65周年にあたります。下の写真は、8月6日の広島における原爆死没者慰霊式並びに平和祈念式（平和記念式）の様子です。この式典は、国際連合から初めて事務総長が参列したほか、核保有国のアメリカとイギリス、フランスの代表も初めて参列し、海外から過去最多となる74か国の代表が参加して行われました。また、広島市・秋葉忠利市長の行った平和宣言は、老いた被爆者の思いを広島弁で代弁し、日本政府に 非核三原則の法制化などを求める内容になっていました。



この式典を見ていると、現在解決しなければならない問題がたくさんあることに気づかされます。例えば、韓国併合から100年、沖縄の本土復帰から約40年の歳月が経っていますが、様々な問題が未解決になっています。また、北方領土問題も未解決のままです。今後一日でも早い解決を願っています。

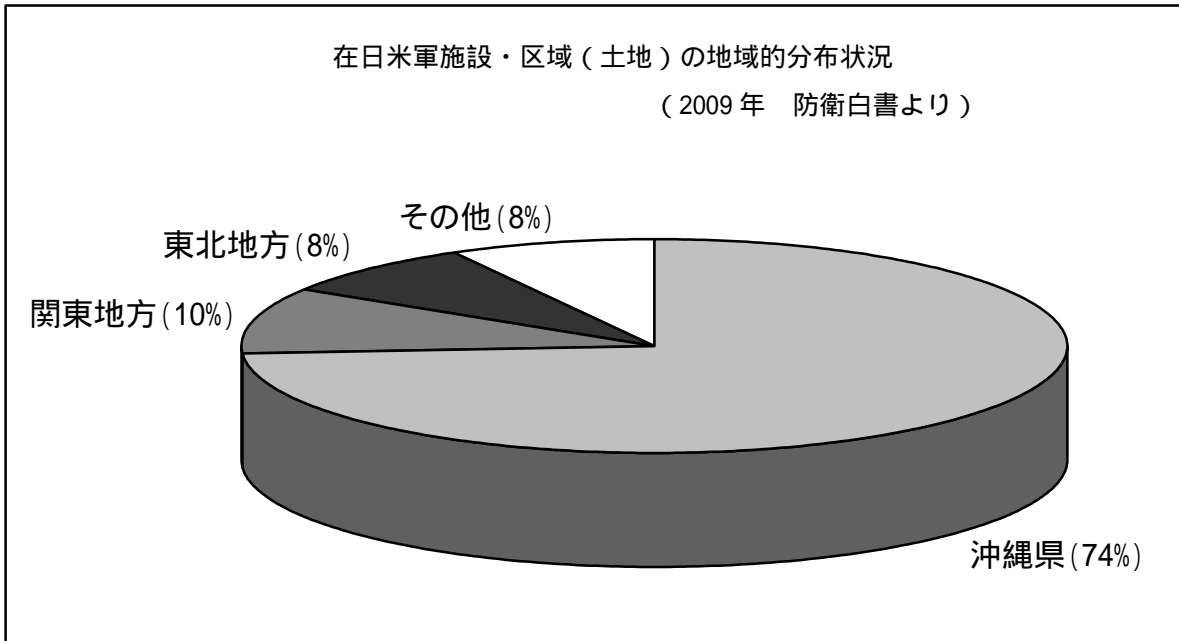
問1 下線部 について、事務総長の名前を漢字、あるいはカタカナで答えなさい。

問2 下線部 について、どのようなものか具体的な内容を答えなさい。

問3 下線部 について、1945年9月2日、日本がポツダム宣言の条項を誠実に実行することを約束した降伏文書が調印されたことによって、正式に韓国の植民地化が終了しました。その後、1965年に日本と韓国の国交正常化がなされましたが、この条約名を答えなさい。

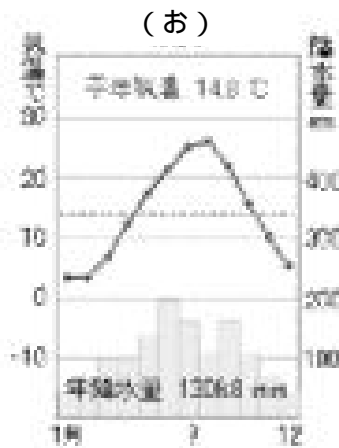




問4 現在、日本と韓国との間で領有権が争われている島の名前を答えなさい。

問5 下線部 に関連して、1951年のサンフランシスコ講和条約の締結と同時に日米安全保障条約が結ばれることで、沖縄の基地問題が始まったと考えられます。今日、基地問題として話題になっている事柄について、次のグラフを参考にしながら、どのような点が問題なのかを答えなさい。また、これを解決するためにはどうしたらよいと思いますか。あなたの意見をできるだけ具体的に書きなさい。



3 次の各問いに答えなさい。

1 次にあげる雨温図は、北海道（釧路）、東京、奈良、広島、沖縄（那覇）のもので、都市と雨温図の組み合わせとして正しいものを、下の（ア）～（エ）の中から一つ選び、記号で答えなさい。



(ア)	あ...東京	い...那覇	う...広島	え...釧路	お...奈良
(イ)	あ...那覇	い...広島	う...釧路	え...東京	お...奈良
(ウ)	あ...広島	い...那覇	う...東京	え...釧路	お...奈良
(エ)	あ...釧路	い...東京	う...那覇	え...広島	お...奈良

2 次にあげる表は、北海道、東京、奈良、広島、沖縄の各都道府県における農業産出額の1位と2位の産出品目(表1)と各種統計(表2)を表しています。都道府県の組み合わせとして正しいものを、下の(ア)～(エ)の中から一つ選び、記号で答えなさい。

(表1)

都道府県別農業産出額(2007年)

単位:億円、%

都道府県	産出額計	1位品目			2位品目		
		品目名	産出額	構成比	品目名	産出額	構成比
あ	930	さとうきび	181	19.5	肉用牛	162	17.4
い	9809	生乳	2732	27.9	米	1092	11.1
う	468	米	110	23.5	かき	56	12
え	1030	米	288	28	鶏卵	173	16.8
お	280	こまつな	27	9.6	日本なし	22	7.9

(資料)農林水産省「生産農業所得統計」2009年収録より

(表2)

	面積 (km ²)	人口 (万人)	出生率 (%)	死亡率 (%)	外国人 登録者数 (百人)	65歳以上 人口割合 (%)	産業別人口構成(2005)			
							総数	第一次 産業	第二次 産業	第三次 産業
全国	377930	12706	8.6	8.8	21530	21.6	61506	4.8	26.1	67.2
あ	2276	139	12.1 (全国1位)	6.9	89	16.6	560	5.9	16.3	76.3 (全国2位)
い	83456 (全国1位)	557	7.5	9.3	206	23	2604	7.7	19	71.3
う	3691	141	8	8.5	116	21.9	635	3.2	25.3	69.5
え	8479	286	9.1	9.2 (全国3位)	407	22.3	1398	4.3	27.2	66.9
お	2188	1246 (全国1位)	8.3	7.7	3822 (全国1位)	19.5	5916	0.4	18.7	77.4 (全国1位)

(資料)日本国勢図会2009/10より

(ア)	あ...東京	い...沖縄	う...広島	え...北海道	お...奈良
(イ)	あ...沖縄	い...北海道	う...奈良	え...東京	お...広島
(ウ)	あ...沖縄	い...北海道	う...奈良	え...広島	お...東京
(エ)	あ...北海道	い...奈良	う...沖縄	え...広島	お...東京