

平成19年度

《第4回試験》

# 社 会

時間30分，50点満点

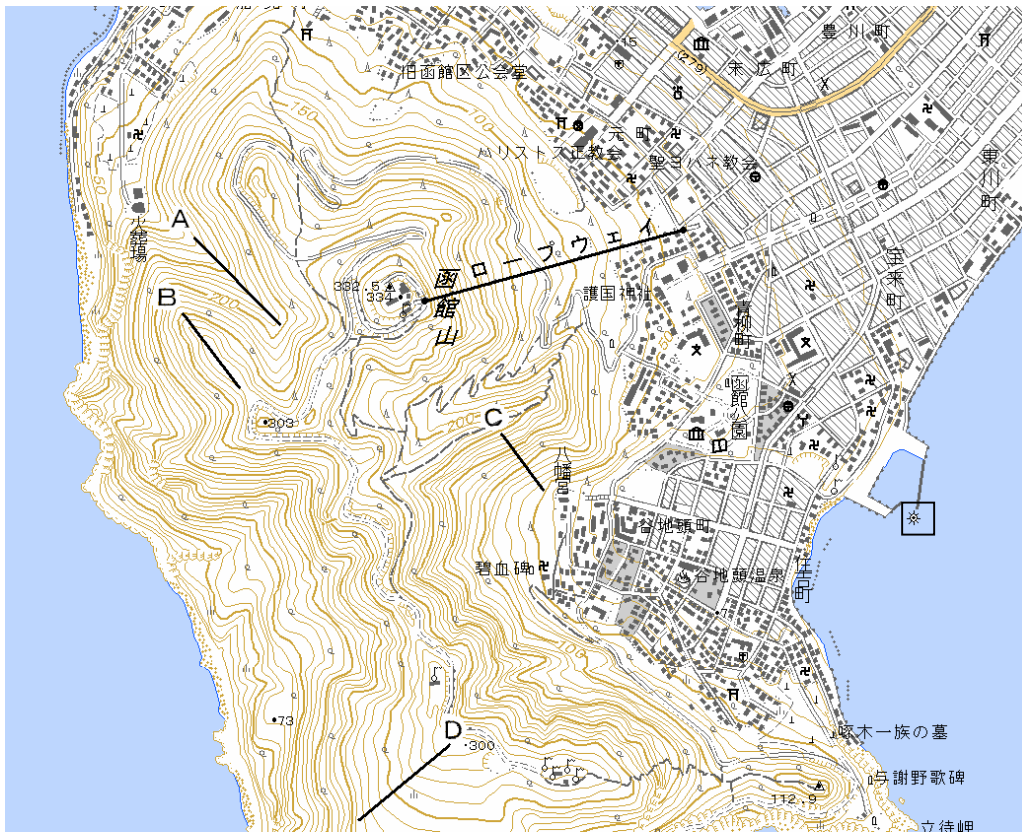
## 受験上の注意

1. 解答用紙には，受験番号・氏名を記入してください。
2. 解答は，解答用紙の所定のところに記入してください。  
記入方法を誤ると得点になりません。
3. 試験終了の合図とともに解答用紙・問題用紙とも提出してください。

郁文館中学校



【地図2】



問6 この地図は2万5千分の1の地形図ですが、この地形図を発行しているのは何省ですか。下の(ア)～(エ)の中から一つ選び、記号で答えなさい。

- (ア) 環境省      (イ) 国土交通省      (ウ) 文部科学省      (エ) 財務省

問7 地形図の中で、東の海に示された ☆ 地図記号は何を表しますか。下の(ア)～(エ)の中から一つ選び、記号で答えなさい。

- (ア) 工場      (イ) 発電所      (ウ) 灯台      (エ) 港

問8 地形図中のA～Dのうち傾斜の一番急な場所を一つ選び、記号で答えなさい。

問9 函館山のロープウェイは、地形図上では約3.5cmあります。実際の距離は何mですか。あてはまるものを下の(ア)～(エ)の中から一つ選び、記号で答えなさい。

- (ア) 175m      (イ) 875m      (ウ) 1750m      (エ) 8750m

問10 函館山がある場所を解答用紙の地図中に●で示しなさい。

② 次の各文章は、ある時代に作られた歌や詩について述べたものです。下の各問いに答えなさい。

A 「ああ おとうとよ きみをなく きみ死にたもうことなかれ」

問1 この歌は与謝野晶子が弟の身を心配する気持ちをよんだ詩の最初の部分です。この詩の背景には、当時日本が直面していた戦争があります。この戦争とは何ですか。下の(ア)～(エ)の中から一つ選び記号で答えなさい。

(ア) 太平洋戦争 (イ) 日露戦争 (ウ) 日清戦争 (エ) 第一次世界大戦

B 「青丹よし ①奈良の都は 咲く花の におうがごとく 今さかりなり」

問2 この歌は、現在残っている最も古い歌集の中の一首です。この歌集とは何ですか。下の(ア)～(エ)の中から一つ選び記号で答えなさい。

(ア) 奥の細道 (イ) 万葉集 (ウ) 古今和歌集 (エ) 浮世草子

問3 下線部①について、この歌で歌われている奈良が都となったのは何世紀のことですか。下の(ア)～(エ)の中から一つ選び記号で答えなさい。

(ア) 6世紀 (イ) 7世紀 (ウ) 8世紀 (エ) 9世紀

C 「②この世をば わが世とぞ思う 望月の かけたることも なしと思えば」

問4 この歌を歌った人は、この当時、権力の頂点にいました。この人は誰ですか。下の(ア)～(エ)の中から一つ選び記号で答えなさい。

(ア) 藤原道長 (イ) 源頼朝 (ウ) 藤原鎌足 (エ) 菅原道真

問5 下線部②について、この時代、かな文字が生まれ、女性による文学がさかんになりました。女性によって書かれた文学作品を、下の(ア)～(エ)の中から一つ選び記号で答えなさい。

(ア) 土佐日記 (イ) 東海道中膝栗毛 (ウ) お伽草子 (エ) 源氏物語

D 「③白河の 清きに魚も すみかねて もとのにごりの 田沼こいしき」

問6 この歌は、当時の政治改革の厳しさに不満を持った人々のよんだ歌です。この政治改革をなんと言いますか。下の(ア)～(エ)の中から一つ選び記号で答えなさい。

(ア) 大化の改新 (イ) 寛政の改革 (ウ) 享保の改革 (エ) 天保の改革

問7 下線部③について、この「白河」とは誰のことですか。下の(ア)～(エ)の中から一つ選び記号で答えなさい。

(ア) 水野忠邦 (イ) 徳川家光 (ウ) 徳川慶喜 (エ) 松平定信

E 「④このごろ都にはやるもの 夜討強盗偽綸旨<sup>にせりんじ</sup>」

問8 下線部④について、この当時、幕府を倒した新しい政府が、年号を建武とあらため、ふたたび天皇中心の政治を行おうとしていました。このときの天皇は誰ですか。下の(ア)～(エ)の中から一つ選び記号で答えなさい。

(ア) 桓武天皇 (イ) 後醍醐天皇 (ウ) 天武天皇 (エ) 元明天皇

問9 上の問8の政府はまもなく倒れ、朝廷は二つ(南朝と北朝)に分かれました。北の朝廷は京都に置かれていましたが、南の朝廷はどこに置かれていましたか。下の(ア)～(エ)の中から一つ選び記号で答えなさい。

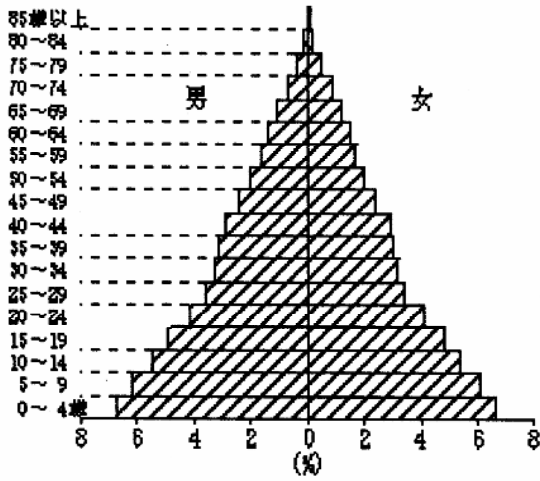
(ア) 吉野 (イ) 出雲 (ウ) 大宰府 (エ) 伊勢

問10 上のA～Eの歌や詩を時代順に並べたものとして正しいものを、下の(ア)～(エ)の中から一つ選び記号で答えなさい。

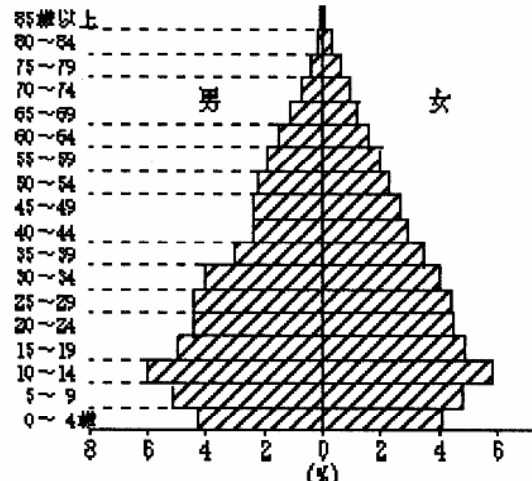
(ア) C→B→E→A→D (イ) C→B→E→D→A (ウ) B→E→C→A→D  
(エ) B→C→E→D→A

③ 少子高齢化社会について、次の問1～問5の設問に答えなさい。

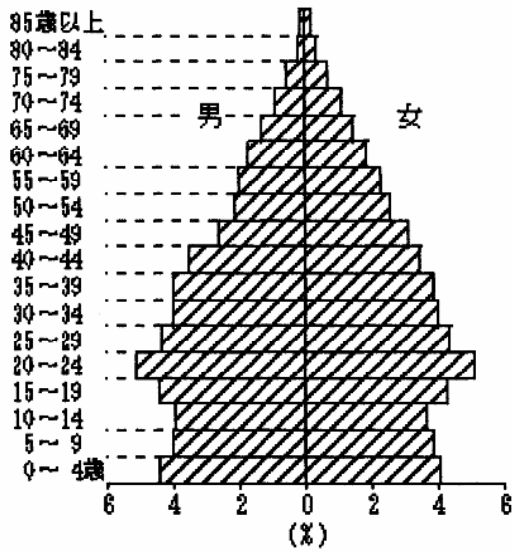
問1 次のグラフは、日本の年齢別人口割合(縦軸が年齢、横軸が人口)を表しています。少子高齢化のグラフを示しているものとして最も適当なものを下の(ア)～(エ)の中から一つ選び、記号で答えなさい。



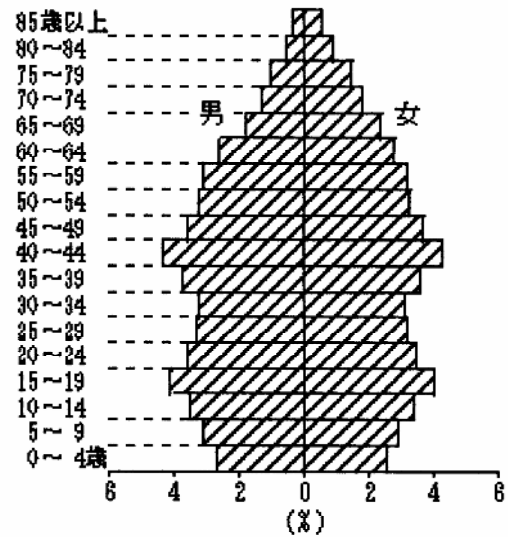
(ア)



(イ)



(ウ)



(エ)

国勢調査の資料より

問2 少子高齢化社会の原因として、当てはまらないものを下の(ア)～(エ)の中から一つ選び、記号で答えなさい。

- (ア) 社会進出する女性が増えたから。
- (イ) 医療技術が進歩して、かつては不治の病といわれた病気も治るようになったから。
- (ウ) 生活スタイルが変化して、育児以外に生きがいを求める若者が増えたから。
- (エ) 人口増加を心配して、産児制限の政策をおこなっているから。

問3 高齢化が進むとどのような影響や現象がでてきますか。当てはまらないものを下の(ア)～(エ)の中から一つ選び、記号で答えなさい。

- (ア) 年金支払いの費用が増え、国や地方自治体の財政が圧迫される。
- (イ) 健康保険のための費用が増え、国の財政が圧迫される。
- (ウ) 大家族世帯が増え、子供への家庭教育が充実してくる。
- (エ) 老人介護のシルバー産業が成長すると見込まれる。

問4 2007年には、かつてのベビーブーム時代に生まれた人々が退職期をむかえます。このベビーブーム時代に生まれた人々は何と呼ばれていますか。下の(ア)～(エ)の中から一つ選び、記号で答えなさい。

(ア) 戦前世代      (イ) 新人類世代      (ウ) 戦中世代      (エ) 団塊の世代

問5 次の表は、2050年の日本の年齢別人口割合を予測したものです。この年には65歳以上の老人一人をおよそ何人で面倒を見ることになりますか。下の(ア)～(エ)の中から一つ選び、記号で答えなさい。

0歳～14歳	15歳～64歳	65歳以上
13.4	50.7	35.9

%

データオブザワールドより

(ア) 0.9人      (イ) 1.4人      (ウ) 1.9人      (エ) 2.4人

—以上—