

平成18年度

《特別奨学生試験》

《第2回》

社 会

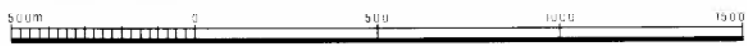
時間は理科と社会あわせて40分、各50点満点

受験上の注意

1. 解答用紙には、受験番号・氏名を記入してください。
2. 解答は、解答用紙の所定のところに記入してください。
記入方法を誤ると得点になりません。
3. 試験終了の合図とともに、解答用紙・問題用紙とも提出してください。

郁文館中学校

次の地図は、国土地理院発行の地図です。あ～けの説明文は、この地図に描かれている地名や建物の説明です。これを読んで、あとの問いに答えなさい。なお地図は、25000分の1を少し拡大してあります。




あ 東大の赤門というのは、もとは前田家の屋敷の門だったそうです。つまり、現在の東大は①加賀藩の屋敷跡あたりに建てられたということです。近くに「本郷もかねやすまでは江戸のうち」と川柳に詠まれた「かねやす」という店があります。つまり、このあたりが江戸の町のはずれであったことがわかります。また、東大前を通る②本郷通りは、江戸時代の五街道に通じていました。

問1 下線部①について、加賀藩のあった加賀国というのは今の石川県と何県ですか。県名を答えなさい。

問2 下線部②について、本郷通りは千住を通り2つの街道につながります。この2つの街道名を答えなさい。

い 1884年、本郷向ヶ丘弥生町の貝塚で③縄文時代の土器とは別の全く新しい様式の土器が発見されました。弥生式土器という言葉はこの弥生坂境界の弥生町という地名から命名されました。

問3 下線部③について、次の絵は、縄文時代と弥生時代の生活の様子をあらわしています。これを参考にして、縄文時代の人々の生活と弥生時代の人々の生活の違いを説明しなさい。



う 「吉祥寺」という地名は、この吉祥寺から由来したといわれます。この寺には幕末に活躍した④榎本武揚の墓があります。彼は文久2（1862）年、幕府オランダ留学生に選ばれ、慶応3（1868）年に帰国し、翌明治元年1月、海軍副総裁となりました。しかし、鳥羽・伏見の戦い、江戸城開城とつづく時代の荒波にもまれ、生きる場所をうしなした旧幕臣たちを引き連れて、明治政府とは別の⑤政府を樹立しました。

問4 下線部④について、この人物と同じ時代に活躍した幕臣の人物を下のア～オから1つ選び、記号で答えなさい。

ア. 勝海舟 イ. 坂本竜馬 ウ. 岩倉具視 エ. 西郷隆盛 オ. 福沢諭吉

問5 下線部⑤について、この政府は、北海道に置かれましたが、その場所を解答用紙の地図中に●印で書き込みなさい。

え 大円寺には、幕末の砲術家として知られた、高島^{しゅうはん}秋帆の墓があります。⑥日本に鉄砲が伝わったのは、1543年ですが、軍隊は日本独特のものでした。秋帆は、オランダ人から本格的な西洋式の銃の使い方を学び、洋式訓練を積んだ軍隊を養成して新政府軍の洋式化に努めました。

問6 下線部⑥について、鉄砲を伝えたポルトガル人が流れ着いた場所はどこか答えなさい。

お 郁文館学園が創立されたのは明治22(1889)年です。この年、⑦大日本帝国憲法が公布されました。

問7 下線部⑦について、大日本帝国憲法と日本国憲法の違いに関する下の各問いに答えなさい。

- ① 日本国憲法は国民主権ですが、大日本帝国憲法では主権はどこにありますか。
- ② 大日本帝国憲法のもとで帝国議会が開かれました。議院は衆議院と何ですか。漢字3字で答えなさい。
- ③ 日本国憲法では天皇はどのような地位になっていますか。漢字2字で答えなさい。
- ④ 日本国憲法では、司法が独立した存在として認められており、国会が作った法律でも憲法に照らして違法であれば無効にする権限があります。このような権限のことを何といいますか。下のア～オから1つ選び、記号で答えなさい。

ア. 国政調査権 イ. 法案拒否権 ウ. 違憲審査権 エ. 監査請求権 オ. 監査特権

か 郁文館学園は⑧の『吾輩は猫である』という小説の中で「落雲館」という名称で登場します。現在は日本医科大学の建物となっている隣の土地に住んでいたそうです。また、⑧の代表作に『坊ちゃん』があります。主人公が⑨四国の松山で教師をするという設定は、彼が教師生活をした経験がもとになっています。

問8 下線部⑧に入る人物名を答えなさい。

問9 下線部⑨について、松山の位置を、解答用紙の地図中に●印で書き込みなさい。また、松山が所属する県の特産物はなんですか。

き 郁文館のすぐ近くに鷗外記念本郷図書館という図書館があります。台地の縁に建っているこの図書館は、もともと『舞姫』や『山椒大夫』などの著書で有名な森鷗外の自宅でした。彼はこの家を「^{かんちやうろう}観潮楼」と名づけたそうです。つまり、⑩当時はここから東京湾が見えたのです。

問10 下線部⑩について、現在、ここからは東京湾をみることはできません。この理由として、あきらかに間違っているものを下のア～エから1つ選び、記号で答えなさい。

- ア. 土地が隆起したので、海岸線が後退した。
- イ. 高層建築などが増えた。
- ウ. スモッグで空気が汚れている。
- エ. 埋め立てが進んで海岸線が遠くなった。

く 根津神社の現在の社殿は、江戸時代に⑪第五代将軍徳川綱吉が奉納したものだそうです。社殿の造りは権現造という⑫建築様式で、日光の東照宮や北野天満宮がこの様式で建てられています。

問 11 下線部⑪について、徳川家および綱吉の時代について、次の各問いに答えなさい。

- ① この時代の様子をのべた文として、間違っているものはどれですか。
- ア. 根津神社をはじめとする寺院の建設などに多額の費用をかけたので、幕府財政が不足して、これを補うために、質の悪い貨幣を大量に発行した。
- イ. 「生類憐みの令」とよばれるお触れを出した。
- ウ. オランダ語で西洋の文化を学ぶ蘭学の基礎が築かれ、杉田玄白らが「解体新書」を翻訳した。
- エ. 儒学が学問の中心となり、湯島聖堂が建てられた。
- ② 綱吉の生きた元禄時代は文化の発展した時期でもありました。この時代に活躍した人物を下のア～オから1つ選び、記号で答えなさい。

ア. 葛飾北斎 イ. 喜多川歌麿 ウ. 松平定信 エ. 本居宣長 オ. 近松門左衛門

問 12 下線部⑫について、寺院などの建築様式は、その時代の特色をあらわすものが多くあります。つぎの時代の特色をあらわす寺院を下の写真から選び、記号で答えなさい。

- ① 飛鳥文化 ② 天平文化 ③ 国風文化 ④ 室町文化

(ア)




(イ)



(ウ)



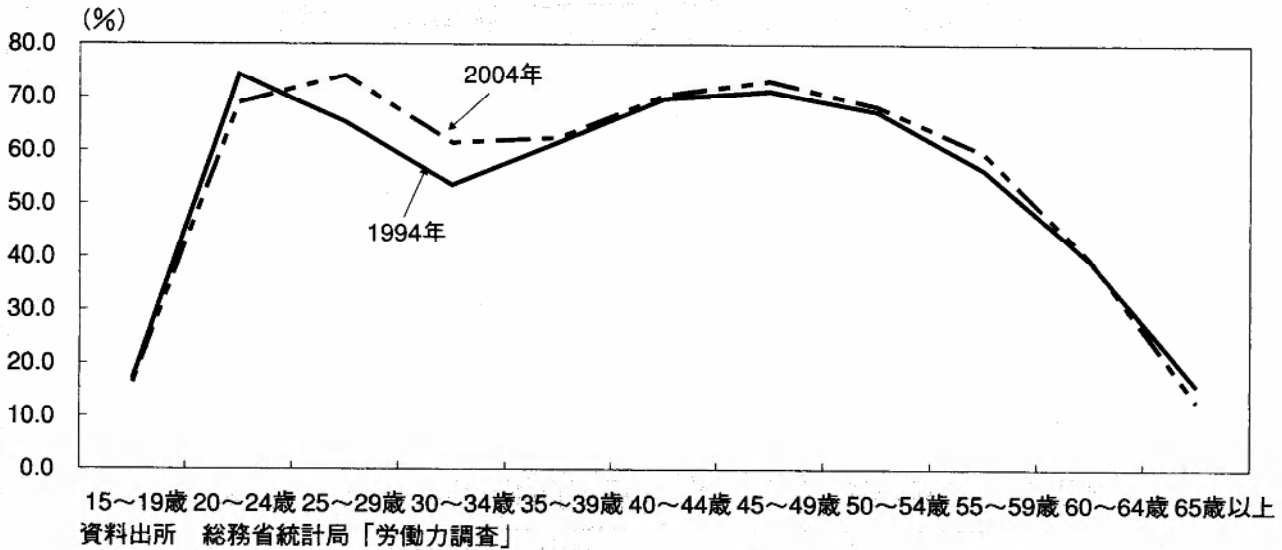
(エ)



け 日本の女性運動の草分けといわれる青鞥社が明治 44（1911）年に創立されたのは、この地です。
 創立したのは⑬平塚らいてう（雷鳥）という女性で、のちに市川房江らと新婦人協会をつくり、日本の女性
 の地位向上に尽くしました。

問 13 下線部⑬について、戦前から戦後にかけての女性の地位向上の努力の結果、今では女性が働くことは
 当たり前前の世の中となっています。次のグラフをみて、あとの問いに答えなさい。

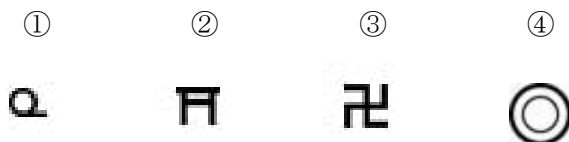
女性の年齢階級別労働力人口比率



(労働経済白書より)

- ① 1994年のグラフでは20歳～33歳にかけて、2004年のグラフでは25歳～34歳にかけて、働く女性が減っているのはどのような理由によるものですか、10字以内で答えなさい。
- ② 1994年のグラフと2004年のグラフには、減少の時期にずれがあります。その理由を20字以内で答えなさい。
- ③ 女性の社会進出が本格的に向上したのは、1979年に国連総会で採択された女子差別撤廃条約に日本が加盟してからです。あなたは女性の社会進出について、どのように考えますか。賛成・反対の立場を明らかにして、50字以内で簡単に自分の意見を述べなさい。

問 14 地図中に描かれている記号①～④を答えなさい。



問 15 この地図の縮尺を参考にして、御茶ノ水駅から本郷通りを通過して郁文館中学校までの実際の距離を答えなさい。